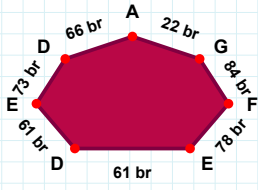
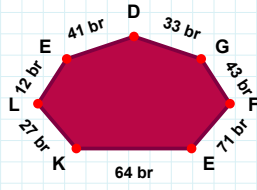


SORU: Aşağıdaki şekillerde istenen kenarın kaç birim veya santimetre olduğunu bulunuz.



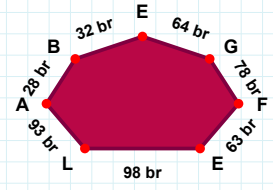
|BA| kaç brdir?

- ☐ 18 br
☐ 31 br
☐ 28 br



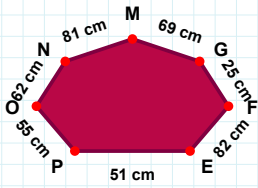
|EF| kaç brdir?

- ☐ 78 br
☐ 77 br
☐ 75 br



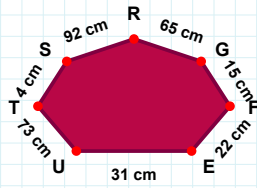
|GD| kaç brdir?

- ☐ 38 br
☐ 35 br
☐ 33 br



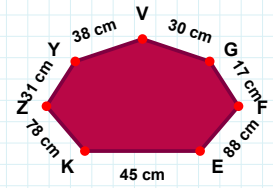
|FG| kaç cmdir?

- ☐ 15 cm
☐ 26 cm
☐ 25 cm



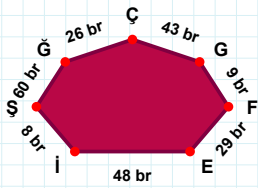
|KE| kaç cmdir?

- ☐ 45 cm
☐ 44 cm
☐ 46 cm



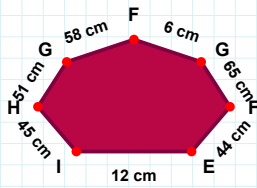
|UE| kaç cmdir?

- ☐ 31 cm
☐ 29 cm
☐ 32 cm



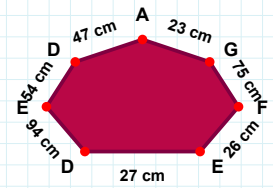
|ÇĞ| kaç brdir?

- ☐ 28 br
☐ 26 br
☐ 27 br



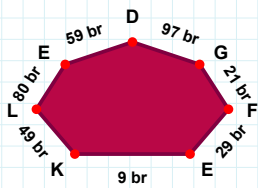
|GF| kaç cmdir?

- ☐ 8 cm
☐ 11 cm
☐ 6 cm



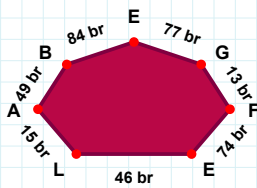
|DE| kaç cmdir?

- ☐ 32 cm
☐ 30 cm
☐ 27 cm



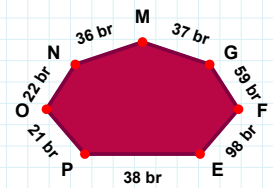
|EF| kaç brdir?

- ☐ 24 br
☐ 28 br
☐ 29 br



|NO| kaç brdir?

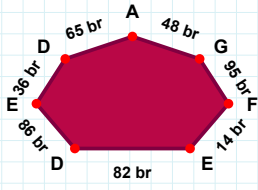
- ☐ 25 br
☐ 22 br
☐ 17 br



|EB| kaç brdir?

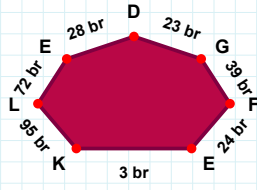
- ☐ 87 br
☐ 82 br
☐ 84 br

SORU: Aşağıdaki şekillerde istenen kenarın kaç birim veya santimetre olduğunu bulunuz.



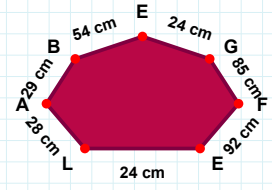
|FG| kaç brdir?

- ☐ 92 br
☐ 96 br
☐ 95 br



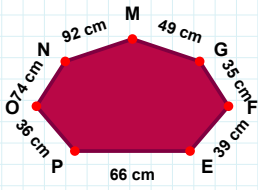
|FG| kaç brdir?

- ☐ 29 br
☐ 36 br
☐ 39 br



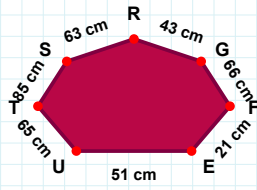
|EF| kaç cmdir?

- ☐ 94 cm
☐ 92 cm
☐ 89 cm



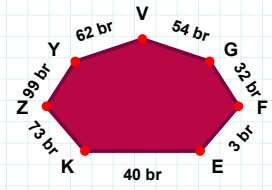
|OP| kaç cmdir?

- ☐ 36 cm
☐ 41 cm
☐ 46 cm



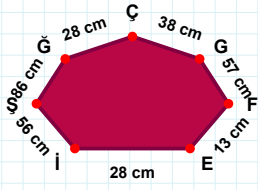
|ST| kaç cmdir?

- ☐ 86 cm
☐ 82 cm
☐ 85 cm



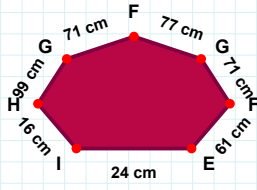
|KE| kaç brdir?

- ☐ 40 br
☐ 38 br
☐ 45 br



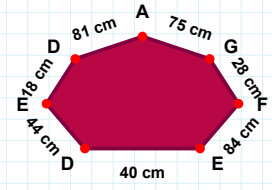
|EF| kaç cmdir?

- ☐ 87 cm
☐ 84 cm
☐ 89 cm



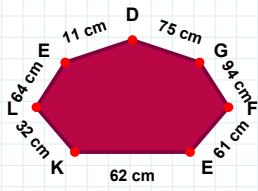
|IE| kaç cmdir?

- ☐ 23 cm
☐ 24 cm
☐ 22 cm



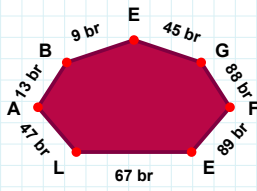
|GC| kaç cmdir?

- ☐ 40 cm
☐ 38 cm
☐ 37 cm



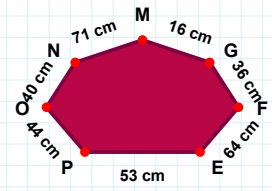
|EB| kaç brdir?

- ☐ 4 br
☐ 9 br
☐ 11 br



|GM| kaç cmdir?

- ☐ 16 cm
☐ 21 cm
☐ 13 cm



|GD| kaç cmdir?

- ☐ 76 cm
☐ 75 cm
☐ 72 cm

SÜREÇ ODAKLI DEĞERLENDİRME ÖLÇEĞİ

Doğru Sayısı: / 24

Öğretmen ilgili kutucuğu işaretler.

Geliştirilmeli (0-8)

İyi (9-14)

Çok İyi (15-20)

Mükemmel (21-24)

☐
☐
☐
☐

Hazırlayan:

Bu bölüme sınıfınızın ilgili kazanıma yönelik genel durumuna ilişkin gözlem ve izlenimlerinizi, öğrencilerinizin bu kazanımla ilgili öğrenme eksikliklerini ve bu eksikliklerin giderilmesi amacıyla yaptığınız/yapmayı planladığınız faaliyetleri not edebilirsiniz.

No	Adı - Soyadı	Toplam Puan	Değerlendirme
1			
2			
3			
4			
5			
6			
7			
8			
9			
10			
11			
12			
13			
14			
15			
16			
17			
18			
19			
20			
21			
22			
23			
24			
25			
26			
27			
28			
29			
30			
31			
32			
33			
34			
35			

Hazırlayan: