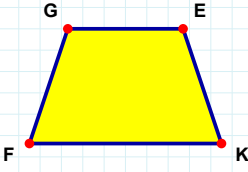
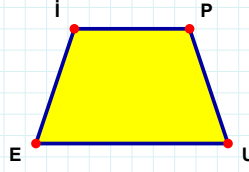


SORU: Aşağıdaki şekillerde verilen kenarlardan şekle ait olmayanı bulunuz.



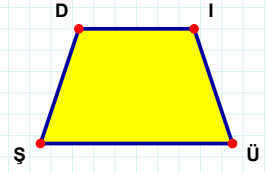
Şekle ait olmayan kenar/kenarları işaretleyelim.

- ☐ GK kenarı
☐ EF kenarı
☐ FG kenarı



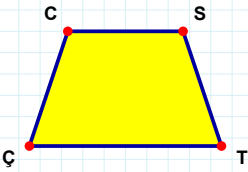
Şekle ait olmayan kenar/kenarları işaretleyelim.

- ☐ UE kenarı
☐ PU kenarı
☐ PE kenarı



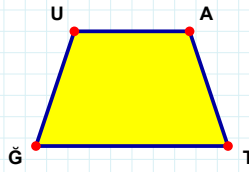
Şekle ait olmayan kenar/kenarları işaretleyelim.

- ☐ ÜŞ kenarı
☐ İŞ kenarı
☐ DÜ kenarı



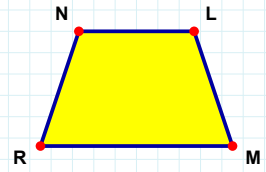
Şekle ait olmayan kenar/kenarları işaretleyelim.

- ☐ TÇ kenarı
☐ SÇ kenarı
☐ CT kenarı



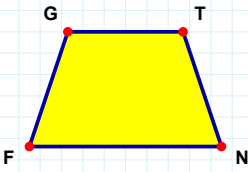
Şekle ait olmayan kenar/kenarları işaretleyelim.

- ☐ UT kenarı
☐ TĞ kenarı
☐ AĞ kenarı



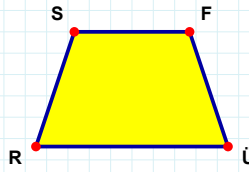
Şekle ait olmayan kenar/kenarları işaretleyelim.

- ☐ RN kenarı
☐ NM kenarı
☐ LR kenarı



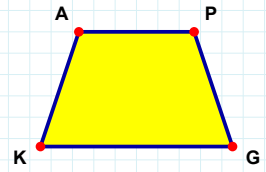
Şekle ait olmayan kenar/kenarları işaretleyelim.

- ☐ TN kenarı
☐ GN kenarı
☐ GT kenarı



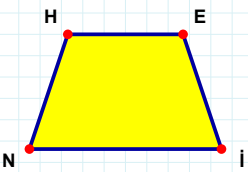
Şekle ait olmayan kenar/kenarları işaretleyelim.

- ☐ FÜ kenarı
☐ FR kenarı
☐ SÜ kenarı



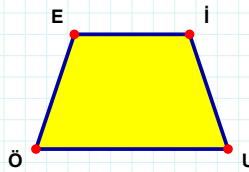
Şekle ait olmayan kenar/kenarları işaretleyelim.

- ☐ GK kenarı
☐ AP kenarı
☐ AG kenarı



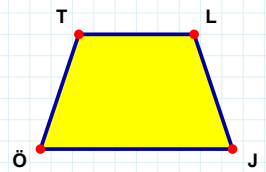
Şekle ait olmayan kenar/kenarları işaretleyelim.

- ☐ EN kenarı
☐ HE kenarı
☐ NH kenarı



Şekle ait olmayan kenar/kenarları işaretleyelim.

- ☐ İÜ kenarı
☐ EI kenarı
☐ İÖ kenarı



Şekle ait olmayan kenar/kenarları işaretleyelim.

- ☐ LÖ kenarı
☐ TJ kenarı
☐ ÖT kenarı

SORU: Aşağıdaki şekillerde verilen kenarlardan şekle ait olmayanı bulunuz.

Şekle ait olmayan kenar/kenarları işaretleyelim.

☐ SR kenarı

☐ ST kenarı

☐ IT kenarı

Şekle ait olmayan kenar/kenarları işaretleyelim.

☐ ÇI kenarı

☐ ŞD kenarı

☐ ÇD kenarı

Şekle ait olmayan kenar/kenarları işaretleyelim.

☐ CV kenarı

☐ GC kenarı

☐ GU kenarı

Şekle ait olmayan kenar/kenarları işaretleyelim.

☐ HY kenarı

☐ YL kenarı

☐ ÖY kenarı

Şekle ait olmayan kenar/kenarları işaretleyelim.

☐ İR kenarı

☐ RS kenarı

☐ İS kenarı

Şekle ait olmayan kenar/kenarları işaretleyelim.

☐ NM kenarı

☐ NÇ kenarı

☐ PN kenarı

Şekle ait olmayan kenar/kenarları işaretleyelim.

☐ ÜC kenarı

☐ YC kenarı

☐ BÜ kenarı

Şekle ait olmayan kenar/kenarları işaretleyelim.

☐ JK kenarı

☐ KB kenarı

☐ CK kenarı

Şekle ait olmayan kenar/kenarları işaretleyelim.

☐ ŞG kenarı

☐ BK kenarı

☐ GK kenarı

Şekle ait olmayan kenar/kenarları işaretleyelim.

☐ FD kenarı

☐ DZ kenarı

☐ BZ kenarı

Şekle ait olmayan kenar/kenarları işaretleyelim.

☐ LE kenarı

☐ LA kenarı

☐ ER kenarı

Şekle ait olmayan kenar/kenarları işaretleyelim.

☐ ÜM kenarı

☐ HÜ kenarı

☐ FH kenarı

SÜREÇ ODAKLI DEĞERLENDİRME ÖLÇEĞİ

Doğru Sayısı: / 24

Öğretmen ilgili kutucuğu işaretler.

Geliştirilmeli (0-8)

İyi (9-14)

Çok İyi (15-20)

Mükemmel (21-24)

☐
☐
☐
☐

Hazırlayan:

Bu bölüme sınıfınızın ilgili kazanıma yönelik genel durumuna ilişkin gözlem ve izlenimlerinizi, öğrencilerinizin bu kazanımla ilgili öğrenme eksikliklerini ve bu eksikliklerin giderilmesi amacıyla yaptığınız/yapmayı planladığınız faaliyetleri not edebilirsiniz.

No	Adı - Soyadı	Toplam Puan	Değerlendirme
1			
2			
3			
4			
5			
6			
7			
8			
9			
10			
11			
12			
13			
14			
15			
16			
17			
18			
19			
20			
21			
22			
23			
24			
25			
26			
27			
28			
29			
30			
31			
32			
33			
34			
35			

Hazırlayan: