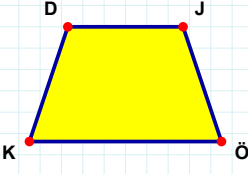
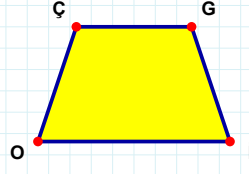


SORU: Aşağıdaki şekillerde verilen kenarlardan şekle ait olmayanı bulunuz.



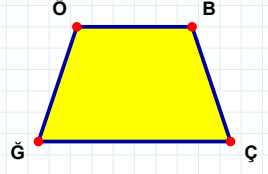
Şekle ait olmayan kenar/kenarları işaretleyelim.

- ☐ JK kenarı
☐ ÖK kenarı
☐ DÖ kenarı



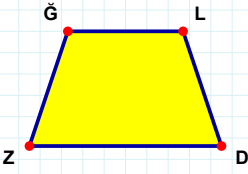
Şekle ait olmayan kenar/kenarları işaretleyelim.

- ☐ Çİ kenarı
☐ OÇ kenarı
☐ GO kenarı



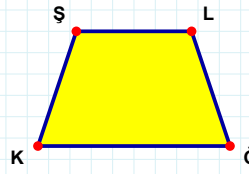
Şekle ait olmayan kenar/kenarları işaretleyelim.

- ☐ BÇ kenarı
☐ BĞ kenarı
☐ ÖÇ kenarı



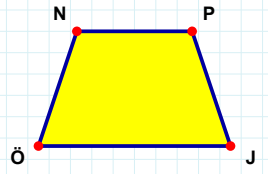
Şekle ait olmayan kenar/kenarları işaretleyelim.

- ☐ ZĞ kenarı
☐ LZ kenarı
☐ LD kenarı



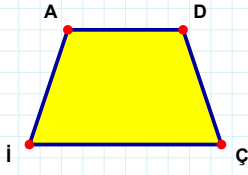
Şekle ait olmayan kenar/kenarları işaretleyelim.

- ☐ LK kenarı
☐ ŞĞ kenarı
☐ KŞ kenarı



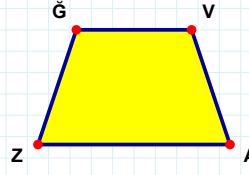
Şekle ait olmayan kenar/kenarları işaretleyelim.

- ☐ NJ kenarı
☐ PJ kenarı
☐ PÖ kenarı



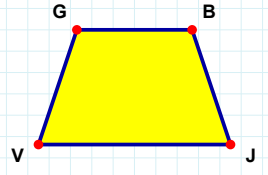
Şekle ait olmayan kenar/kenarları işaretleyelim.

- ☐ DI kenarı
☐ İA kenarı
☐ AÇ kenarı



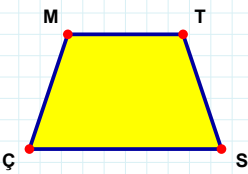
Şekle ait olmayan kenar/kenarları işaretleyelim.

- ☐ ĞA kenarı
☐ ĞV kenarı
☐ ZĞ kenarı



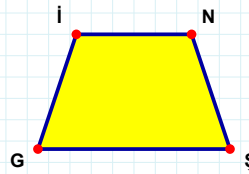
Şekle ait olmayan kenar/kenarları işaretleyelim.

- ☐ BV kenarı
☐ GJ kenarı
☐ GB kenarı



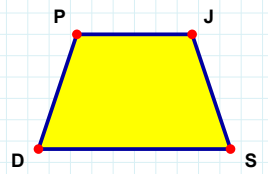
Şekle ait olmayan kenar/kenarları işaretleyelim.

- ☐ MT kenarı
☐ MS kenarı
☐ TÇ kenarı



Şekle ait olmayan kenar/kenarları işaretleyelim.

- ☐ İN kenarı
☐ GI kenarı
☐ İŞ kenarı



Şekle ait olmayan kenar/kenarları işaretleyelim.

- ☐ PS kenarı
☐ SD kenarı
☐ JD kenarı

SORU: Aşağıdaki şekillerde verilen kenarlardan şekle ait olmayanı bulunuz.

Şekle ait olmayan kenar/kenarları işaretleyelim.

☐ CE kenarı
☐ CF kenarı
☐ ŞC kenarı

Şekle ait olmayan kenar/kenarları işaretleyelim.

☐ FÇ kenarı
☐ KF kenarı
☐ ÇK kenarı

Şekle ait olmayan kenar/kenarları işaretleyelim.

☐ ÇN kenarı
☐ EI kenarı
☐ İÇ kenarı

Şekle ait olmayan kenar/kenarları işaretleyelim.

☐ GO kenarı
☐ OF kenarı
☐ FA kenarı

Şekle ait olmayan kenar/kenarları işaretleyelim.

☐ ÖV kenarı
☐ ÇV kenarı
☐ ÖÇ kenarı

Şekle ait olmayan kenar/kenarları işaretleyelim.

☐ MK kenarı
☐ İM kenarı
☐ İK kenarı

Şekle ait olmayan kenar/kenarları işaretleyelim.

☐ OZ kenarı
☐ ZH kenarı
☐ ZG kenarı

Şekle ait olmayan kenar/kenarları işaretleyelim.

☐ CI kenarı
☐ VI kenarı
☐ YV kenarı

Şekle ait olmayan kenar/kenarları işaretleyelim.

☐ IU kenarı
☐ VI kenarı
☐ LV kenarı

Şekle ait olmayan kenar/kenarları işaretleyelim.

☐ RJ kenarı
☐ JÖ kenarı
☐ ĞJ kenarı

Şekle ait olmayan kenar/kenarları işaretleyelim.

☐ PY kenarı
☐ VO kenarı
☐ YV kenarı

Şekle ait olmayan kenar/kenarları işaretleyelim.

☐ GU kenarı
☐ LU kenarı
☐ MG kenarı

SÜREÇ ODAKLI DEĞERLENDİRME ÖLÇEĞİ

Doğru Sayısı: / 24

Öğretmen ilgili kutucuğu işaretler.

Geliştirilmeli (0-8)

İyi (9-14)

Çok İyi (15-20)

Mükemmel (21-24)

☐
☐
☐
☐

Hazırlayan:

Bu bölüme sınıfınızın ilgili kazanıma yönelik genel durumuna ilişkin gözlem ve izlenimlerinizi, öğrencilerinizin bu kazanımla ilgili öğrenme eksikliklerini ve bu eksikliklerin giderilmesi amacıyla yaptığınız/yapmayı planladığınız faaliyetleri not edebilirsiniz.

No	Adı - Soyadı	Toplam Puan	Değerlendirme
1			
2			
3			
4			
5			
6			
7			
8			
9			
10			
11			
12			
13			
14			
15			
16			
17			
18			
19			
20			
21			
22			
23			
24			
25			
26			
27			
28			
29			
30			
31			
32			
33			
34			
35			

Hazırlayan: