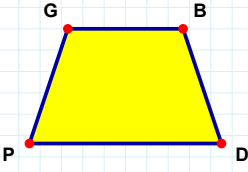
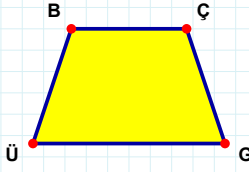


SORU: Aşağıdaki şekillerde verilen kenarlardan şekle ait olmayanı bulunuz.



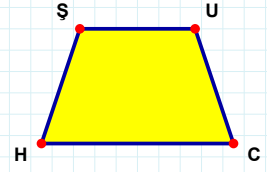
Şekle ait olmayan kenar/kenarları işaretleyelim.

- ☐ GD kenarı
☐ BP kenarı
☐ PG kenarı



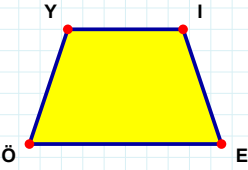
Şekle ait olmayan kenar/kenarları işaretleyelim.

- ☐ BG kenarı
☐ ÇG kenarı
☐ ÜB kenarı



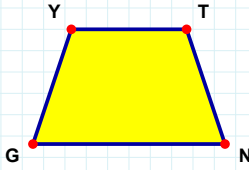
Şekle ait olmayan kenar/kenarları işaretleyelim.

- ☐ HŞ kenarı
☐ UH kenarı
☐ UC kenarı



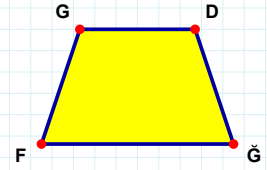
Şekle ait olmayan kenar/kenarları işaretleyelim.

- ☐ EÖ kenarı
☐ ÖY kenarı
☐ YE kenarı



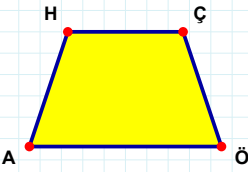
Şekle ait olmayan kenar/kenarları işaretleyelim.

- ☐ YN kenarı
☐ TG kenarı
☐ NG kenarı



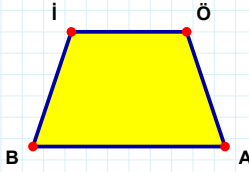
Şekle ait olmayan kenar/kenarları işaretleyelim.

- ☐ DĞ kenarı
☐ GĞ kenarı
☐ DF kenarı



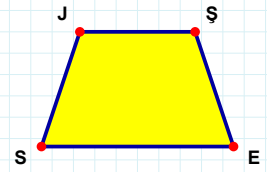
Şekle ait olmayan kenar/kenarları işaretleyelim.

- ☐ AH kenarı
☐ ÖA kenarı
☐ ÇA kenarı



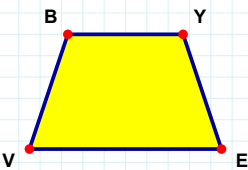
Şekle ait olmayan kenar/kenarları işaretleyelim.

- ☐ ÖA kenarı
☐ İA kenarı
☐ ÖB kenarı



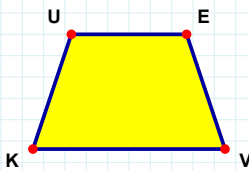
Şekle ait olmayan kenar/kenarları işaretleyelim.

- ☐ ŞE kenarı
☐ ŞS kenarı
☐ SJ kenarı



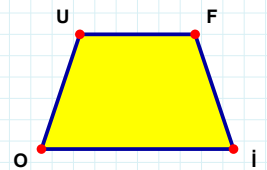
Şekle ait olmayan kenar/kenarları işaretleyelim.

- ☐ BE kenarı
☐ BY kenarı
☐ YV kenarı



Şekle ait olmayan kenar/kenarları işaretleyelim.

- ☐ EK kenarı
☐ UV kenarı
☐ EV kenarı



Şekle ait olmayan kenar/kenarları işaretleyelim.

- ☐ İO kenarı
☐ OU kenarı
☐ Uİ kenarı

SORU: Aşağıdaki şekillerde verilen kenarlardan şekle ait olmayanı bulunuz.

Şekle ait olmayan kenar/kenarları işaretleyelim.

☐ DM kenarı

☐ FM kenarı

☐ FI kenarı

Şekle ait olmayan kenar/kenarları işaretleyelim.

☐ VF kenarı

☐ ĞÜ kenarı

☐ ĞF kenarı

Şekle ait olmayan kenar/kenarları işaretleyelim.

☐ RY kenarı

☐ EG kenarı

☐ YG kenarı

Şekle ait olmayan kenar/kenarları işaretleyelim.

☐ NF kenarı

☐ KI kenarı

☐ NI kenarı

Şekle ait olmayan kenar/kenarları işaretleyelim.

☐ DZ kenarı

☐ ON kenarı

☐ ND kenarı

Şekle ait olmayan kenar/kenarları işaretleyelim.

☐ HU kenarı

☐ ĞH kenarı

☐ HP kenarı

Şekle ait olmayan kenar/kenarları işaretleyelim.

☐ ŞD kenarı

☐ ŞE kenarı

☐ BŞ kenarı

Şekle ait olmayan kenar/kenarları işaretleyelim.

☐ DK kenarı

☐ ÜD kenarı

☐ VK kenarı

Şekle ait olmayan kenar/kenarları işaretleyelim.

☐ HÖ kenarı

☐ HŞ kenarı

☐ IŞ kenarı

Şekle ait olmayan kenar/kenarları işaretleyelim.

☐ CD kenarı

☐ PF kenarı

☐ DP kenarı

Şekle ait olmayan kenar/kenarları işaretleyelim.

☐ HY kenarı

☐ YP kenarı

☐ ĞP kenarı

Şekle ait olmayan kenar/kenarları işaretleyelim.

☐ FŞ kenarı

☐ FT kenarı

☐ ŞN kenarı

SÜREÇ ODAKLI DEĞERLENDİRME ÖLÇEĞİ

Doğru Sayısı: / 24

Öğretmen ilgili kutucuğu işaretler.

Geliştirilmeli (0-8)

İyi (9-14)

Çok İyi (15-20)

Mükemmel (21-24)

☐
☐
☐
☐

Hazırlayan:

Bu bölüme sınıfınızın ilgili kazanıma yönelik genel durumuna ilişkin gözlem ve izlenimlerinizi, öğrencilerinizin bu kazanımla ilgili öğrenme eksikliklerini ve bu eksikliklerin giderilmesi amacıyla yaptığınız/yapmayı planladığınız faaliyetleri not edebilirsiniz.

No	Adı - Soyadı	Toplam Puan	Değerlendirme
1			
2			
3			
4			
5			
6			
7			
8			
9			
10			
11			
12			
13			
14			
15			
16			
17			
18			
19			
20			
21			
22			
23			
24			
25			
26			
27			
28			
29			
30			
31			
32			
33			
34			
35			

Hazırlayan: