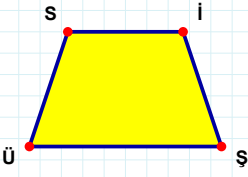
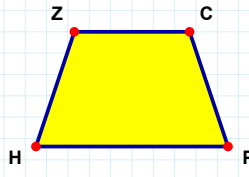


SORU: Aşağıdaki şekillerde verilen kenarlardan şekle ait olmayanı bulunuz.



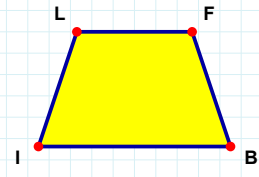
Şekle ait olmayan kenar/kenarları işaretleyelim.

- ☐ SŞ kenarı
☐ Sİ kenarı
☐ İŞ kenarı



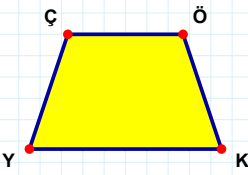
Şekle ait olmayan kenar/kenarları işaretleyelim.

- ☐ HZ kenarı
☐ ZP kenarı
☐ CH kenarı



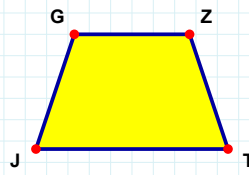
Şekle ait olmayan kenar/kenarları işaretleyelim.

- ☐ LB kenarı
☐ FI kenarı
☐ FB kenarı



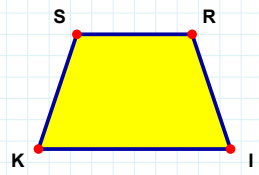
Şekle ait olmayan kenar/kenarları işaretleyelim.

- ☐ YÇ kenarı
☐ ÇK kenarı
☐ ÖK kenarı



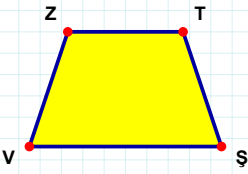
Şekle ait olmayan kenar/kenarları işaretleyelim.

- ☐ ZJ kenarı
☐ JG kenarı
☐ ZT kenarı



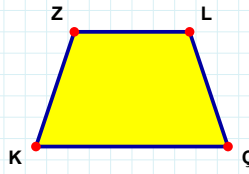
Şekle ait olmayan kenar/kenarları işaretleyelim.

- ☐ İK kenarı
☐ Sİ kenarı
☐ RK kenarı



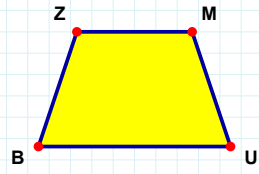
Şekle ait olmayan kenar/kenarları işaretleyelim.

- ☐ ZŞ kenarı
☐ TV kenarı
☐ TŞ kenarı



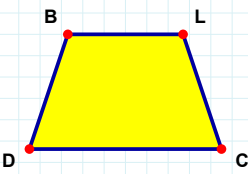
Şekle ait olmayan kenar/kenarları işaretleyelim.

- ☐ LK kenarı
☐ ZÇ kenarı
☐ ZL kenarı



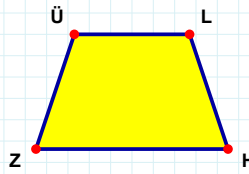
Şekle ait olmayan kenar/kenarları işaretleyelim.

- ☐ ZM kenarı
☐ ZU kenarı
☐ MB kenarı



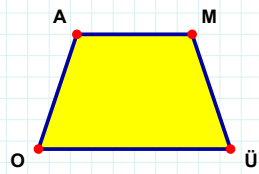
Şekle ait olmayan kenar/kenarları işaretleyelim.

- ☐ LC kenarı
☐ LD kenarı
☐ CD kenarı



Şekle ait olmayan kenar/kenarları işaretleyelim.

- ☐ LZ kenarı
☐ ÜH kenarı
☐ ÜL kenarı



Şekle ait olmayan kenar/kenarları işaretleyelim.

- ☐ MO kenarı
☐ ÜO kenarı
☐ MÜ kenarı

SORU: Aşağıdaki şekillerde verilen kenarlardan şekle ait olmayanı bulunuz.

Şekle ait olmayan kenar/kenarları işaretleyelim.

☐ YS kenarı
☐ SF kenarı
☐ FÖ kenarı

Şekle ait olmayan kenar/kenarları işaretleyelim.

☐ JO kenarı
☐ OC kenarı
☐ CJ kenarı

Şekle ait olmayan kenar/kenarları işaretleyelim.

☐ UR kenarı
☐ RS kenarı
☐ SÜ kenarı

Şekle ait olmayan kenar/kenarları işaretleyelim.

☐ NB kenarı
☐ MO kenarı
☐ MN kenarı

Şekle ait olmayan kenar/kenarları işaretleyelim.

☐ VP kenarı
☐ OV kenarı
☐ ÖO kenarı

Şekle ait olmayan kenar/kenarları işaretleyelim.

☐ ĞZ kenarı
☐ ZG kenarı
☐ ÜZ kenarı

Şekle ait olmayan kenar/kenarları işaretleyelim.

☐ PG kenarı
☐ PJ kenarı
☐ JÇ kenarı

Şekle ait olmayan kenar/kenarları işaretleyelim.

☐ İV kenarı
☐ VU kenarı
☐ ÇU kenarı

Şekle ait olmayan kenar/kenarları işaretleyelim.

☐ PJ kenarı
☐ KU kenarı
☐ KP kenarı

Şekle ait olmayan kenar/kenarları işaretleyelim.

☐ OP kenarı
☐ AP kenarı
☐ TA kenarı

Şekle ait olmayan kenar/kenarları işaretleyelim.

☐ RY kenarı
☐ RP kenarı
☐ YP kenarı

Şekle ait olmayan kenar/kenarları işaretleyelim.

☐ KÇ kenarı
☐ KO kenarı
☐ OY kenarı

SÜREÇ ODAKLI DEĞERLENDİRME ÖLÇEĞİ

Doğru Sayısı: / 24

Öğretmen ilgili kutucuğu işaretler.

Geliştirilmeli (0-8)

İyi (9-14)

Çok İyi (15-20)

Mükemmel (21-24)

☐
☐
☐
☐

Hazırlayan:

Bu bölüme sınıfınızın ilgili kazanıma yönelik genel durumuna ilişkin gözlem ve izlenimlerinizi, öğrencilerinizin bu kazanımla ilgili öğrenme eksikliklerini ve bu eksikliklerin giderilmesi amacıyla yaptığınız/yapmayı planladığınız faaliyetleri not edebilirsiniz.

No	Adı - Soyadı	Toplam Puan	Değerlendirme
1			
2			
3			
4			
5			
6			
7			
8			
9			
10			
11			
12			
13			
14			
15			
16			
17			
18			
19			
20			
21			
22			
23			
24			
25			
26			
27			
28			
29			
30			
31			
32			
33			
34			
35			

Hazırlayan: