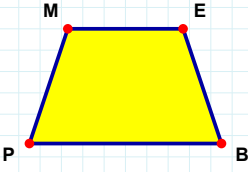
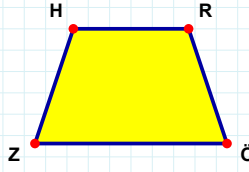


**SORU:** Aşağıdaki şekillerde verilen kenarlardan şekle ait olmayanı bulunuz.



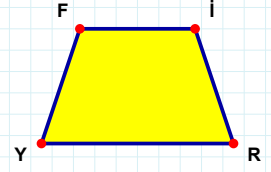
Şekle ait olmayan kenar/kenarları işaretleyelim.

- ☐ ME kenarı  
☐ PM kenarı  
☐ MB kenarı



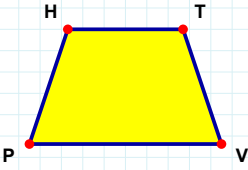
Şekle ait olmayan kenar/kenarları işaretleyelim.

- ☐ HR kenarı  
☐ HÖ kenarı  
☐ RZ kenarı



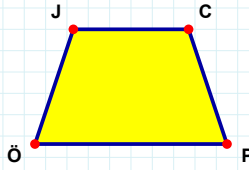
Şekle ait olmayan kenar/kenarları işaretleyelim.

- ☐ FI kenarı  
☐ FR kenarı  
☐ İY kenarı



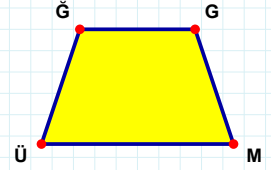
Şekle ait olmayan kenar/kenarları işaretleyelim.

- ☐ HV kenarı  
☐ PH kenarı  
☐ TP kenarı



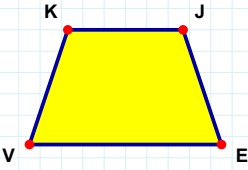
Şekle ait olmayan kenar/kenarları işaretleyelim.

- ☐ PÖ kenarı  
☐ JC kenarı  
☐ CÖ kenarı



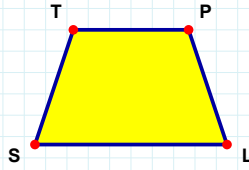
Şekle ait olmayan kenar/kenarları işaretleyelim.

- ☐ GÜ kenarı  
☐ ĞG kenarı  
☐ ĞM kenarı



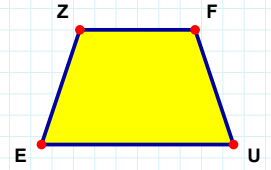
Şekle ait olmayan kenar/kenarları işaretleyelim.

- ☐ VK kenarı  
☐ KJ kenarı  
☐ KE kenarı



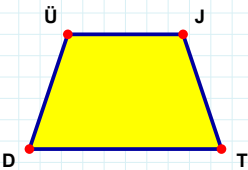
Şekle ait olmayan kenar/kenarları işaretleyelim.

- ☐ TP kenarı  
☐ PS kenarı  
☐ TL kenarı



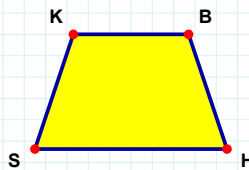
Şekle ait olmayan kenar/kenarları işaretleyelim.

- ☐ ZU kenarı  
☐ FE kenarı  
☐ EZ kenarı



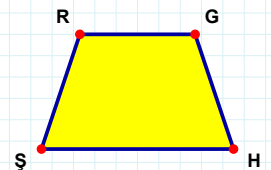
Şekle ait olmayan kenar/kenarları işaretleyelim.

- ☐ ÜJ kenarı  
☐ TD kenarı  
☐ JD kenarı



Şekle ait olmayan kenar/kenarları işaretleyelim.

- ☐ BS kenarı  
☐ HS kenarı  
☐ SK kenarı



Şekle ait olmayan kenar/kenarları işaretleyelim.

- ☐ GŞ kenarı  
☐ ŞR kenarı  
☐ RG kenarı

**SORU:** Aşağıdaki şekillerde verilen kenarlardan şekle ait olmayanı bulunuz.

Şekle ait olmayan kenar/kenarları işaretleyelim.

☐ ÇL kenarı  
☐ EÇ kenarı  
☐ AL kenarı

Şekle ait olmayan kenar/kenarları işaretleyelim.

☐ İC kenarı  
☐ SC kenarı  
☐ CH kenarı

Şekle ait olmayan kenar/kenarları işaretleyelim.

☐ UE kenarı  
☐ UÇ kenarı  
☐ ÖE kenarı

Şekle ait olmayan kenar/kenarları işaretleyelim.

☐ ZÇ kenarı  
☐ EA kenarı  
☐ EZ kenarı

Şekle ait olmayan kenar/kenarları işaretleyelim.

☐ YŞ kenarı  
☐ LĞ kenarı  
☐ ŞĞ kenarı

Şekle ait olmayan kenar/kenarları işaretleyelim.

☐ VC kenarı  
☐ VÇ kenarı  
☐ FÇ kenarı

Şekle ait olmayan kenar/kenarları işaretleyelim.

☐ MI kenarı  
☐ MB kenarı  
☐ ID kenarı

Şekle ait olmayan kenar/kenarları işaretleyelim.

☐ JN kenarı  
☐ ZJ kenarı  
☐ NC kenarı

Şekle ait olmayan kenar/kenarları işaretleyelim.

☐ UR kenarı  
☐ ZR kenarı  
☐ NU kenarı

Şekle ait olmayan kenar/kenarları işaretleyelim.

☐ JH kenarı  
☐ KJ kenarı  
☐ KH kenarı

Şekle ait olmayan kenar/kenarları işaretleyelim.

☐ JL kenarı  
☐ JU kenarı  
☐ ÖL kenarı

Şekle ait olmayan kenar/kenarları işaretleyelim.

☐ ÜÖ kenarı  
☐ Öİ kenarı  
☐ İÜ kenarı

## SÜREÇ ODAKLI DEĞERLENDİRME ÖLÇEĞİ

Doğru Sayısı: ..... / 24

Öğretmen ilgili kutucuğu işaretler.

Geliştirilmeli (0-8)

İyi (9-14)

Çok İyi (15-20)

Mükemmel (21-24)

☐
☐
☐
☐

Hazırlayan: .....

Bu bölüme sınıfınızın ilgili kazanıma yönelik genel durumuna ilişkin gözlem ve izlenimlerinizi, öğrencilerinizin bu kazanımla ilgili öğrenme eksikliklerini ve bu eksikliklerin giderilmesi amacıyla yaptığınız/yapmayı planladığınız faaliyetleri not edebilirsiniz.

No	Adı - Soyadı	Toplam Puan	Değerlendirme
1			
2			
3			
4			
5			
6			
7			
8			
9			
10			
11			
12			
13			
14			
15			
16			
17			
18			
19			
20			
21			
22			
23			
24			
25			
26			
27			
28			
29			
30			
31			
32			
33			
34			
35			

Hazırlayan: .....