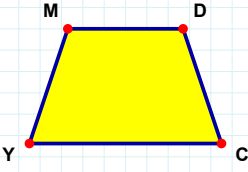
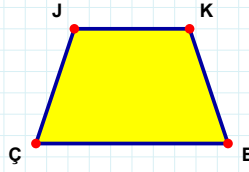


**SORU:** Aşağıdaki şekillerde verilen kenarlardan şekle ait olmayanı bulunuz.



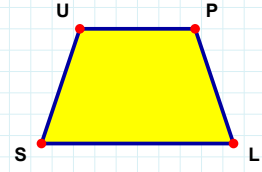
Şekle ait olmayan kenar/kenarları işaretleyelim.

- ☐ DC kenarı  
☐ DY kenarı  
☐ MC kenarı



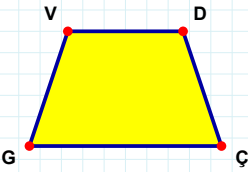
Şekle ait olmayan kenar/kenarları işaretleyelim.

- ☐ JB kenarı  
☐ KB kenarı  
☐ KÇ kenarı



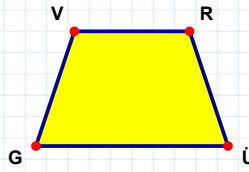
Şekle ait olmayan kenar/kenarları işaretleyelim.

- ☐ UL kenarı  
☐ UP kenarı  
☐ PS kenarı



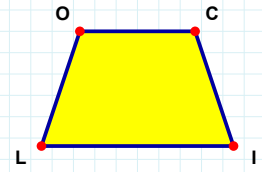
Şekle ait olmayan kenar/kenarları işaretleyelim.

- ☐ VÇ kenarı  
☐ DG kenarı  
☐ DÇ kenarı



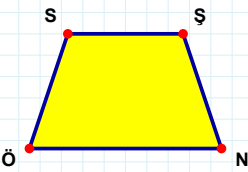
Şekle ait olmayan kenar/kenarları işaretleyelim.

- ☐ VÜ kenarı  
☐ ÜG kenarı  
☐ GV kenarı



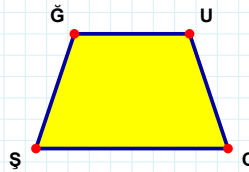
Şekle ait olmayan kenar/kenarları işaretleyelim.

- ☐ LO kenarı  
☐ CL kenarı  
☐ OL kenarı



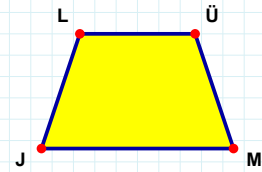
Şekle ait olmayan kenar/kenarları işaretleyelim.

- ☐ ŞÖ kenarı  
☐ SN kenarı  
☐ NÖ kenarı



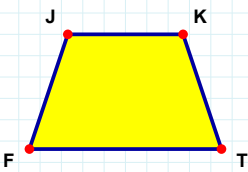
Şekle ait olmayan kenar/kenarları işaretleyelim.

- ☐ UŞ kenarı  
☐ ĞC kenarı  
☐ ĞÜ kenarı



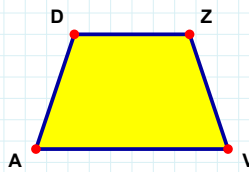
Şekle ait olmayan kenar/kenarları işaretleyelim.

- ☐ LÜ kenarı  
☐ LM kenarı  
☐ ÜJ kenarı



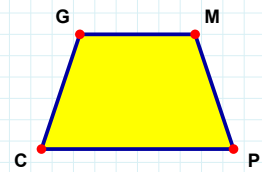
Şekle ait olmayan kenar/kenarları işaretleyelim.

- ☐ TF kenarı  
☐ KF kenarı  
☐ JT kenarı



Şekle ait olmayan kenar/kenarları işaretleyelim.

- ☐ ZV kenarı  
☐ DV kenarı  
☐ ZA kenarı



Şekle ait olmayan kenar/kenarları işaretleyelim.

- ☐ CG kenarı  
☐ GP kenarı  
☐ PC kenarı

**SORU:** Aşağıdaki şekillerde verilen kenarlardan şekle ait olmayanı bulunuz.

Şekle ait olmayan kenar/kenarları işaretleyelim.

☐ NH kenarı  
☐ ÖN kenarı  
☐ ÖC kenarı

Şekle ait olmayan kenar/kenarları işaretleyelim.

☐ ÇK kenarı  
☐ YR kenarı  
☐ ÇY kenarı

Şekle ait olmayan kenar/kenarları işaretleyelim.

☐ ĞR kenarı  
☐ ĞJ kenarı  
☐ JR kenarı

Şekle ait olmayan kenar/kenarları işaretleyelim.

☐ ZR kenarı  
☐ ÖR kenarı  
☐ RF kenarı

Şekle ait olmayan kenar/kenarları işaretleyelim.

☐ ĞE kenarı  
☐ ER kenarı  
☐ RB kenarı

Şekle ait olmayan kenar/kenarları işaretleyelim.

☐ NÇ kenarı  
☐ TÇ kenarı  
☐ TN kenarı

Şekle ait olmayan kenar/kenarları işaretleyelim.

☐ ÇÖ kenarı  
☐ DÇ kenarı  
☐ DS kenarı

Şekle ait olmayan kenar/kenarları işaretleyelim.

☐ FS kenarı  
☐ SC kenarı  
☐ ÖS kenarı

Şekle ait olmayan kenar/kenarları işaretleyelim.

☐ ĞM kenarı  
☐ KĞ kenarı  
☐ ÇM kenarı

Şekle ait olmayan kenar/kenarları işaretleyelim.

☐ CE kenarı  
☐ YC kenarı  
☐ NE kenarı

Şekle ait olmayan kenar/kenarları işaretleyelim.

☐ CN kenarı  
☐ BJ kenarı  
☐ NJ kenarı

Şekle ait olmayan kenar/kenarları işaretleyelim.

☐ Ğİ kenarı  
☐ LD kenarı  
☐ LĞ kenarı

## SÜREÇ ODAKLI DEĞERLENDİRME ÖLÇEĞİ

Doğru Sayısı: ..... / 24

Öğretmen ilgili kutucuğu işaretler.

Geliştirilmeli (0-8)

İyi (9-14)

Çok İyi (15-20)

Mükemmel (21-24)

☐
☐
☐
☐

Hazırlayan: .....

Bu bölüme sınıfınızın ilgili kazanıma yönelik genel durumuna ilişkin gözlem ve izlenimlerinizi, öğrencilerinizin bu kazanımla ilgili öğrenme eksikliklerini ve bu eksikliklerin giderilmesi amacıyla yaptığınız/yapmayı planladığınız faaliyetleri not edebilirsiniz.

No	Adı - Soyadı	Toplam Puan	Değerlendirme
1			
2			
3			
4			
5			
6			
7			
8			
9			
10			
11			
12			
13			
14			
15			
16			
17			
18			
19			
20			
21			
22			
23			
24			
25			
26			
27			
28			
29			
30			
31			
32			
33			
34			
35			

Hazırlayan: .....