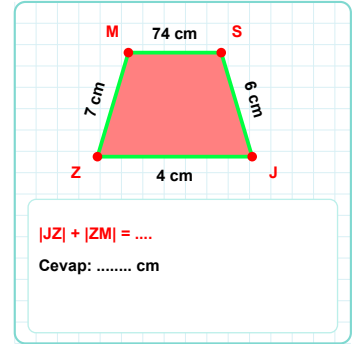
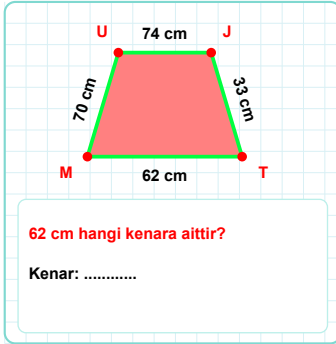
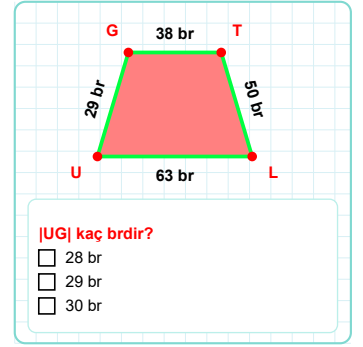
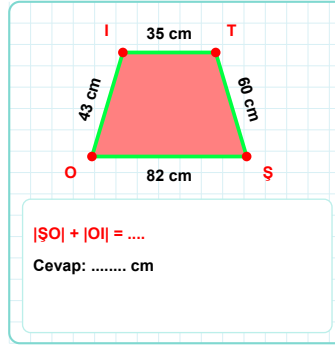
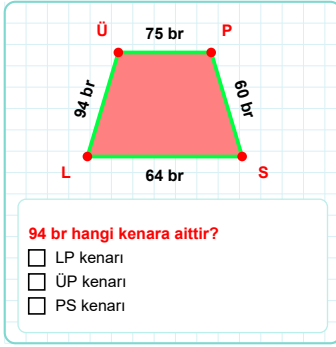
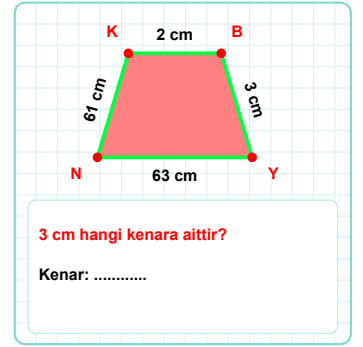
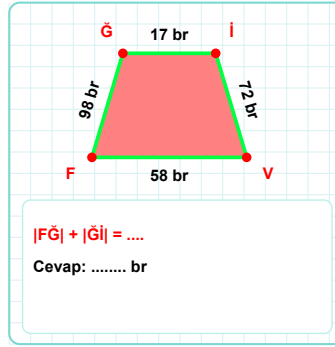
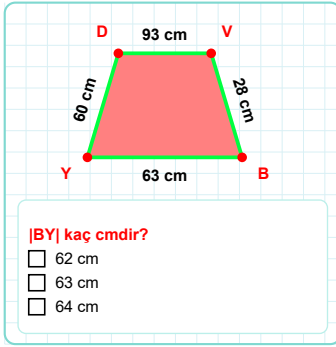
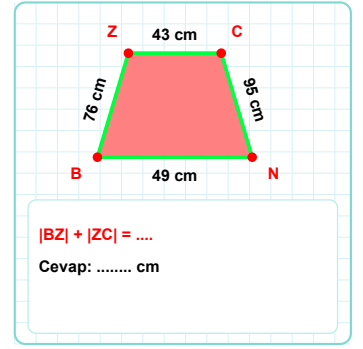
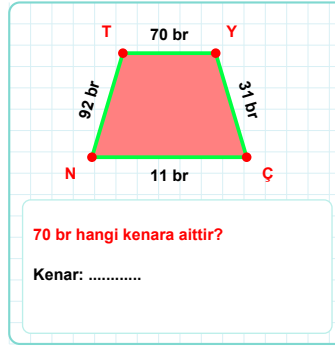
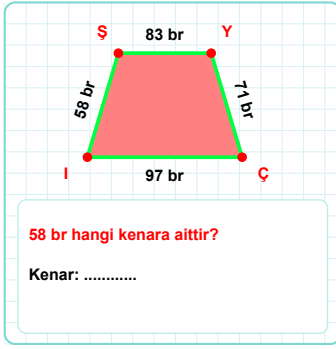


SORU: Aşağıdaki geometrik şekillerle ilgili soruları cevaplayınız.



SORU: Aşağıdaki geometrik şekillerle ilgili soruları cevaplayınız.

14 cm hangi kenara aittir?

☐ LH kenarı
☐ HÖ kenarı
☐ HN kenarı

|HB| kaç brdir?

☐ 45 br
☐ 46 br
☐ 47 br

27 cm hangi kenara aittir?

☐ NV kenarı
☐ NO kenarı
☐ VO kenarı

65 cm hangi kenara aittir?

☐ YC kenarı
☐ JY kenarı
☐ YG kenarı

62 br hangi kenara aittir?

☐ MŞ kenarı
☐ DÇ kenarı
☐ ŞÇ kenarı

75 br hangi kenara aittir?

☐ GY kenarı
☐ İY kenarı
☐ Çİ kenarı

37 cm hangi kenara aittir?

☐ ŞO kenarı
☐ SŞ kenarı
☐ ŞL kenarı

|UZ| kaç cmdir?

☐ 39 cm
☐ 40 cm
☐ 41 cm

73 br hangi kenara aittir?

Kenar:

69 br hangi kenara aittir?

Kenar:

42 br hangi kenara aittir?

☐ BP kenarı
☐ ÜB kenarı
☐ ÜF kenarı

|TÜ| + |LV| =

Cevap: cm

SÜREÇ ODAKLI DEĞERLENDİRME ÖLÇEĞİ

Doğru Sayısı: / 24

Öğretmen ilgili kutucuğu işaretler.

Geliştirilmeli (0-8)	İyi (9-14)	Çok İyi (15-20)	Mükemmel (21-24)
<input type="checkbox"/>	<input type="checkbox"/>	<input type="checkbox"/>	<input type="checkbox"/>

Hazırlayan:

Bu bölüme sınıfınızın ilgili kazanıma yönelik genel durumuna ilişkin gözlem ve izlenimlerinizi, öğrencilerinizin bu kazanımla ilgili öğrenme eksikliklerini ve bu eksikliklerin giderilmesi amacıyla yaptığınız/yapmayı planladığınız faaliyetleri not edebilirsiniz.

No	Adı - Soyadı	Toplam Puan	Değerlendirme
1			
2			
3			
4			
5			
6			
7			
8			
9			
10			
11			
12			
13			
14			
15			
16			
17			
18			
19			
20			
21			
22			
23			
24			
25			
26			
27			
28			
29			
30			
31			
32			
33			
34			
35			

Hazırlayan: