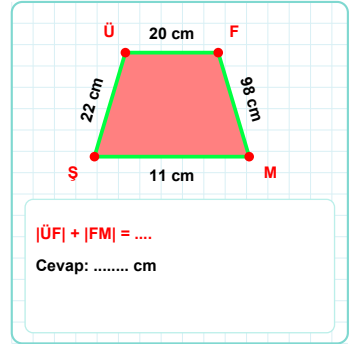
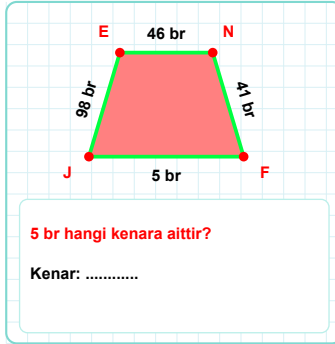
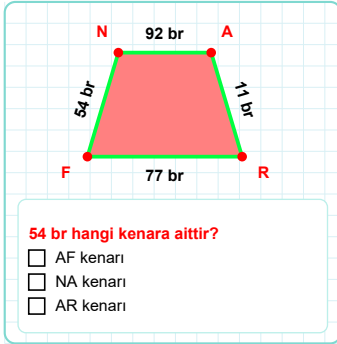
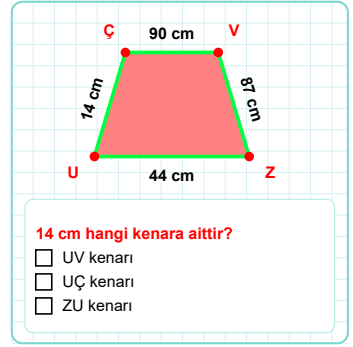
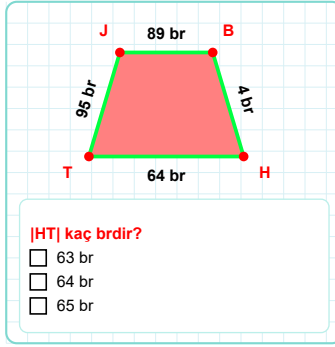
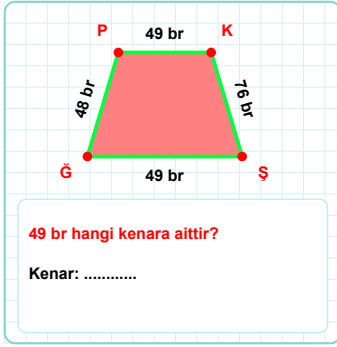
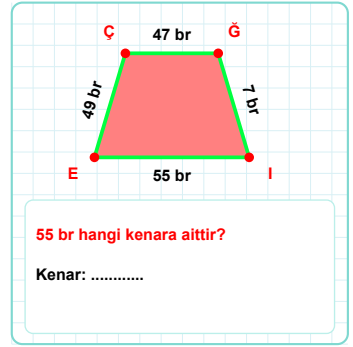
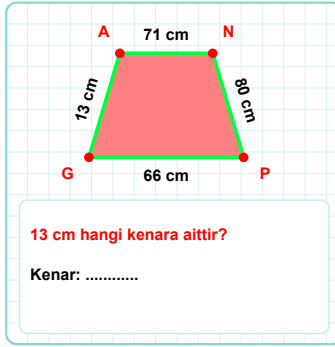
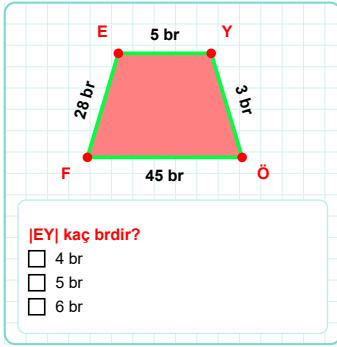
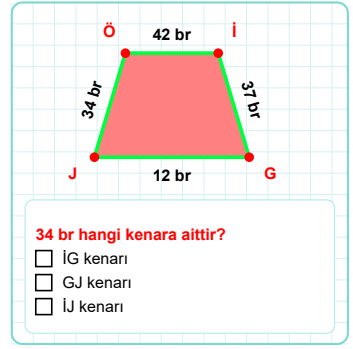
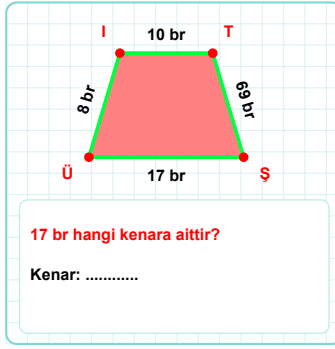
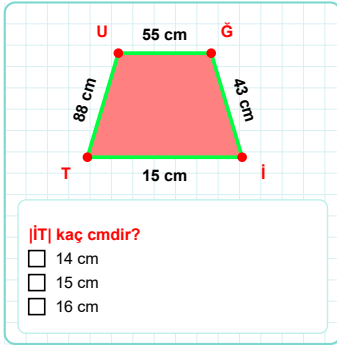


SORU: Aşağıdaki geometrik şekillerle ilgili soruları cevaplayınız.



SORU: Aşağıdaki geometrik şekillerle ilgili soruları cevaplayınız.

14 cm hangi kenara aittir?

☐ EÜ kenarı
☐ DE kenarı
☐ DC kenarı

76 cm hangi kenara aittir?

☐ RA kenarı
☐ AI kenarı
☐ RI kenarı

$|İÜ| + |ÜE| = \dots$
Cevap: cm

$|AR| + |RE| = \dots$
Cevap: br

$|ZV| + |VÖ| = \dots$
Cevap: br

$|AN| + |KJ| = \dots$
Cevap: br

47 cm hangi kenara aittir?

Kenar:

$|ÇA| + |KÇ| = \dots$
Cevap: cm

8 cm hangi kenara aittir?

Kenar:

$|UH|$ kaç cm'dir?

☐ 40 cm
☐ 41 cm
☐ 42 cm

34 br hangi kenara aittir?

Kenar:

75 cm hangi kenara aittir?

☐ MH kenarı
☐ ÇL kenarı
☐ ÇM kenarı

SÜREÇ ODAKLI DEĞERLENDİRME ÖLÇEĞİ

Doğru Sayısı: / 24

Öğretmen ilgili kutucuğu işaretler.

Geliştirilmeli (0-8)	İyi (9-14)	Çok İyi (15-20)	Mükemmel (21-24)
<input type="checkbox"/>	<input type="checkbox"/>	<input type="checkbox"/>	<input type="checkbox"/>

Hazırlayan:

Bu bölüme sınıfınızın ilgili kazanıma yönelik genel durumuna ilişkin gözlem ve izlenimlerinizi, öğrencilerinizin bu kazanımla ilgili öğrenme eksikliklerini ve bu eksikliklerin giderilmesi amacıyla yaptığınız/yapmayı planladığınız faaliyetleri not edebilirsiniz.

No	Adı - Soyadı	Toplam Puan	Değerlendirme
1			
2			
3			
4			
5			
6			
7			
8			
9			
10			
11			
12			
13			
14			
15			
16			
17			
18			
19			
20			
21			
22			
23			
24			
25			
26			
27			
28			
29			
30			
31			
32			
33			
34			
35			

Hazırlayan: