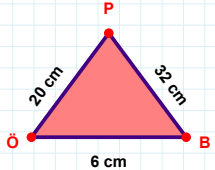
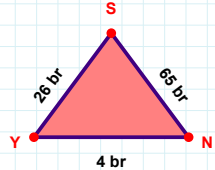


**SORU:** Aşağıdaki geometrik şekillerle ilgili soruları cevaplayınız.


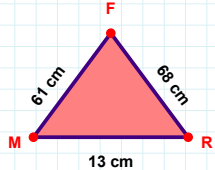
32 cm hangi kenara aittir?

☐ XY kenarı  
☐ PÖ kenarı  
☐ ÖB kenarı



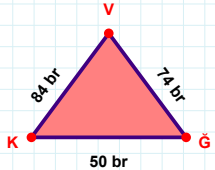
65 br hangi kenara aittir?

☐ SY kenarı  
☐ YN kenarı  
☐ XY kenarı

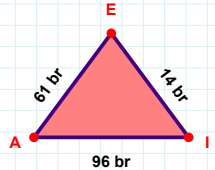


68 cm hangi kenara aittir?

☐ FM kenarı  
☐ RF kenarı  
☐ XY kenarı

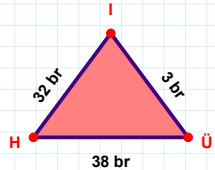


$|KG| + |VK| = \dots$   
 Cevap: ..... br



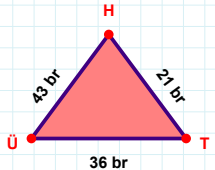
61 br hangi kenara aittir?

Kenar: .....



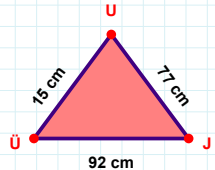
3 br hangi kenara aittir?

☐ XY kenarı  
☐ IH kenarı  
☐ ÜI kenarı



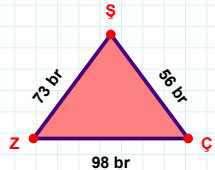
$|TH|$  kaç brdir?

☐ 20 br  
☐ 21 br  
☐ 22 br



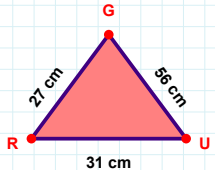
$|UÜ|$  kaç cmdir?

☐ 14 cm  
☐ 15 cm  
☐ 16 cm



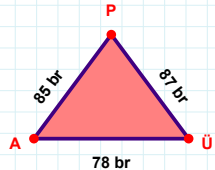
56 br hangi kenara aittir?

☐ XY kenarı  
☐ SZ kenarı  
☐ ÇŞ kenarı



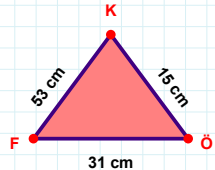
56 cm hangi kenara aittir?

Kenar: .....



87 br hangi kenara aittir?

☐ PA kenarı  
☐ AÜ kenarı  
☐ XY kenarı



15 cm hangi kenara aittir?

☐ XY kenarı  
☐ KF kenarı  
☐ FÖ kenarı

SORU: Aşağıdaki geometrik şekillerle ilgili soruları cevaplayınız.

15 cm hangi kenara aittir?

☐ XY kenarı  
☐ EĞ kenarı  
☐ GV kenarı

50 cm hangi kenara aittir?

Kenar: .....

|AJ| kaç cmdir?

☐ 67 cm  
☐ 68 cm  
☐ 69 cm

4 br hangi kenara aittir?

☐ UP kenarı  
☐ XY kenarı  
☐ PI kenarı

61 br hangi kenara aittir?

☐ XY kenarı  
☐ KF kenarı  
☐ FE kenarı

|CL| + |LP| = ....

Cevap: ..... br

|FR| kaç cmdir?

☐ 75 cm  
☐ 76 cm  
☐ 77 cm

54 cm hangi kenara aittir?

Kenar: .....

|GT| kaç cmdir?

☐ 60 cm  
☐ 61 cm  
☐ 62 cm

84 br hangi kenara aittir?

☐ XY kenarı  
☐ TH kenarı  
☐ HO kenarı

|ŞN| + |ŞU| = ....

Cevap: ..... cm

|GR| kaç brdir?

☐ 95 br  
☐ 96 br  
☐ 97 br

## SÜREÇ ODAKLI DEĞERLENDİRME ÖLÇEĞİ

Doğru Sayısı: ..... / 24

Öğretmen ilgili kutucuğu işaretler.

Geliştirilmeli (0-8)

İyi (9-14)

Çok İyi (15-20)

Mükemmel (21-24)

☐☐☐☐

Hazırlayan: .....

Bu bölüme sınıfınızın ilgili kazanıma yönelik genel durumuna ilişkin gözlem ve izlenimlerinizi, öğrencilerinizin bu kazanımla ilgili öğrenme eksikliklerini ve bu eksikliklerin giderilmesi amacıyla yaptığınız/yapmayı planladığınız faaliyetleri not edebilirsiniz.

No	Adı - Soyadı	Toplam Puan	Değerlendirme
1			
2			
3			
4			
5			
6			
7			
8			
9			
10			
11			
12			
13			
14			
15			
16			
17			
18			
19			
20			
21			
22			
23			
24			
25			
26			
27			
28			
29			
30			
31			
32			
33			
34			
35			

Hazırlayan: .....