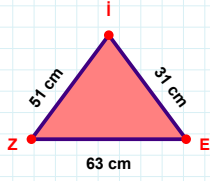
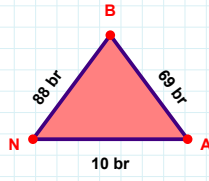


SORU: Aşağıdaki geometrik şekillerle ilgili soruları cevaplayınız.

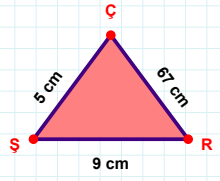
$|ZE| + |IZ| = \dots$

Cevap: cm



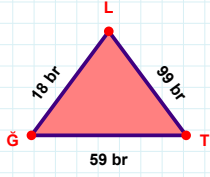
$|NA| + |AB| = \dots$

Cevap: br



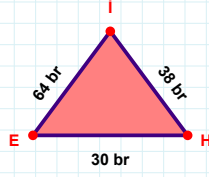
$|RC| + |CS| = \dots$

Cevap: cm



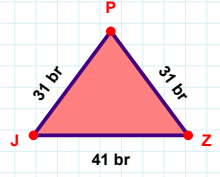
99 br hangi kenara aittir?

- ☐ XY kenarı
☐ GT kenarı
☐ TL kenarı



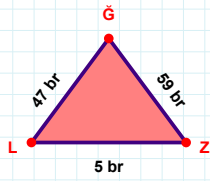
38 br hangi kenara aittir?

- ☐ İE kenarı
☐ Hİ kenarı
☐ XY kenarı



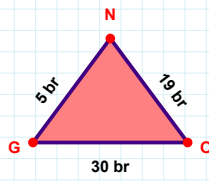
$|ZP| + |PJ| = \dots$

Cevap: br



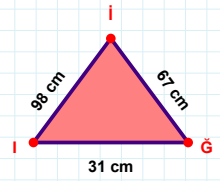
$|ZG|$ kaç brdir?

- ☐ 58 br
☐ 59 br
☐ 60 br



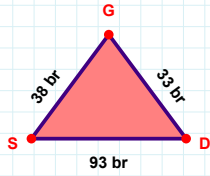
19 br hangi kenara aittir?

- ☐ ON kenarı
☐ XY kenarı
☐ GO kenarı



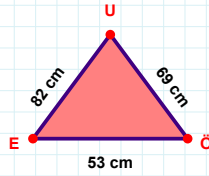
67 cm hangi kenara aittir?

- ☐ XY kenarı
☐ İİ kenarı
☐ Gİ kenarı



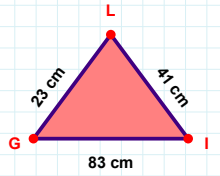
33 br hangi kenara aittir?

- ☐ GS kenarı
☐ XY kenarı
☐ DG kenarı



53 cm hangi kenara aittir?

Kenar:



41 cm hangi kenara aittir?

- ☐ XY kenarı
☐ IL kenarı
☐ LG kenarı

SORU: Aşağıdaki geometrik şekillerle ilgili soruları cevaplayınız.

93 cm hangi kenara aittir?

Kenar:

45 br hangi kenara aittir?

☐ RM kenarı
☐ XY kenarı
☐ MA kenarı

|CE| kaç cm'dir?

☐ 34 cm
☐ 35 cm
☐ 36 cm

30 cm hangi kenara aittir?

☐ UĞ kenarı
☐ XY kenarı
☐ ĞD kenarı

|BP| kaç br'dir?

☐ 75 br
☐ 76 br
☐ 77 br

33 br hangi kenara aittir?

☐ XY kenarı
☐ Dİ kenarı
☐ İS kenarı

51 cm hangi kenara aittir?

☐ FE kenarı
☐ KF kenarı
☐ XY kenarı

|SZ| kaç cm'dir?

☐ 23 cm
☐ 24 cm
☐ 25 cm

6 br hangi kenara aittir?

Kenar:

35 cm hangi kenara aittir?

☐ DS kenarı
☐ ST kenarı
☐ XY kenarı

|SV| + |FS| =

Cevap: br

|JP| + |IJ| =

Cevap: cm

SÜREÇ ODAKLI DEĞERLENDİRME ÖLÇEĞİ

Doğru Sayısı: / 24

Öğretmen ilgili kutucuğu işaretler.

Geliştirilmeli (0-8)

İyi (9-14)

Çok İyi (15-20)

Mükemmel (21-24)

☐☐☐☐

Hazırlayan:

Bu bölüme sınıfınızın ilgili kazanıma yönelik genel durumuna ilişkin gözlem ve izlenimlerinizi, öğrencilerinizin bu kazanımla ilgili öğrenme eksikliklerini ve bu eksikliklerin giderilmesi amacıyla yaptığınız/yapmayı planladığınız faaliyetleri not edebilirsiniz.

No	Adı - Soyadı	Toplam Puan	Değerlendirme
1			
2			
3			
4			
5			
6			
7			
8			
9			
10			
11			
12			
13			
14			
15			
16			
17			
18			
19			
20			
21			
22			
23			
24			
25			
26			
27			
28			
29			
30			
31			
32			
33			
34			
35			

Hazırlayan: