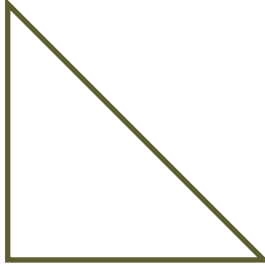


SORU: Aşağıdaki geometrik şekillerin isimlerini altlarındaki kutucuklara yazınız.

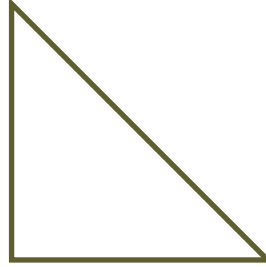
F



İ

Ö

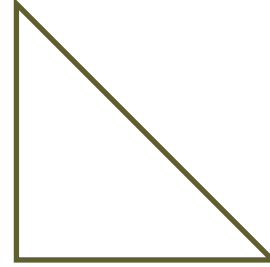
H



Ğ

Z

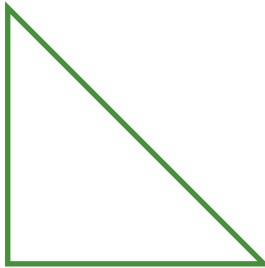
Q



L

Ö

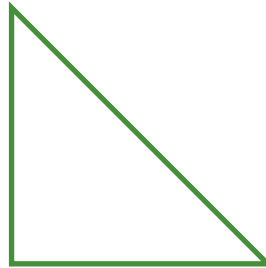
P



Ç

Ü

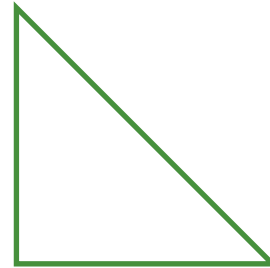
W



Y

T


T



N

G


R



V

Ü


A



Y

W

K



A

N

SÜREÇ ODAKLI DEĞERLENDİRME ÖLÇEĞİ

[] 0-3 (Geliştirilmeli)

[] 4-6 (Yeterli)

[] 7-8 (İyi)

[] 9 (Çok İyi)

Bu bölüme sınıfınızın ilgili kazanıma yönelik değerlendirmenizi (iyi, çok iyi ... gibi), genel durumuna ilişkin gözlem ve izlenimlerinizi, öğrencilerinizin bu kazanımla ilgili öğrenme eksikliklerini ve bu eksikliklerin giderilmesi amacıyla yaptığınız/yapmayı planladığınız faaliyetleri not edebilirsiniz.

No	Adı - Soyadı	Toplam Puan	Değerlendirme
1			
2			
3			
4			
5			
6			
7			
8			
9			
10			
11			
12			
13			
14			
15			
16			
17			
18			
19			
20			
21			
22			
23			
24			
25			
26			
27			
28			
29			
30			
31			
32			
33			
34			
35			

Hazırlayan: Şeyhmus Öğretmen