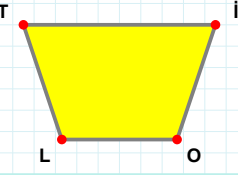
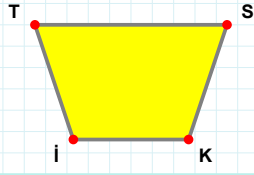


SORU: Aşağıdaki şekillerde verilen kenarlardan şekle ait olmayanı bulunuz.



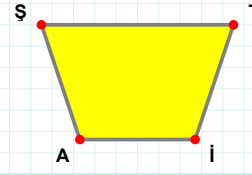
Şekle ait olmayan kenar/kenarları işaretleyelim.

- ☐ OL kenarı
☐ İL kenarı
☐ TO kenarı



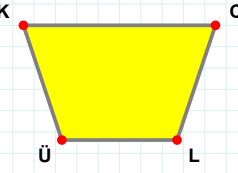
Şekle ait olmayan kenar/kenarları işaretleyelim.

- ☐ TS kenarı
☐ Sİ kenarı
☐ TK kenarı



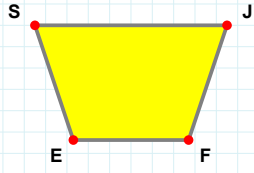
Şekle ait olmayan kenar/kenarları işaretleyelim.

- ☐ AŞ kenarı
☐ Şİ kenarı
☐ Tİ kenarı



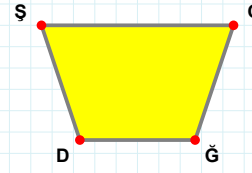
Şekle ait olmayan kenar/kenarları işaretleyelim.

- ☐ CÜ kenarı
☐ KC kenarı
☐ KL kenarı



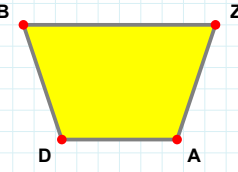
Şekle ait olmayan kenar/kenarları işaretleyelim.

- ☐ SF kenarı
☐ ES kenarı
☐ JE kenarı



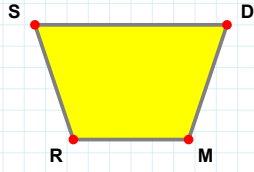
Şekle ait olmayan kenar/kenarları işaretleyelim.

- ☐ ĞD kenarı
☐ DŞ kenarı
☐ ŞĞ kenarı



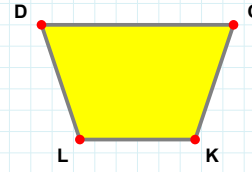
Şekle ait olmayan kenar/kenarları işaretleyelim.

- ☐ ZD kenarı
☐ BZ kenarı
☐ AD kenarı



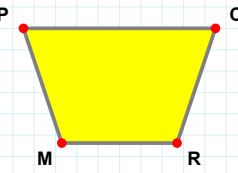
Şekle ait olmayan kenar/kenarları işaretleyelim.

- ☐ SD kenarı
☐ DM kenarı
☐ SM kenarı



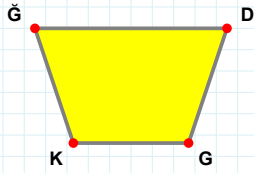
Şekle ait olmayan kenar/kenarları işaretleyelim.

- ☐ DK kenarı
☐ CL kenarı
☐ CK kenarı



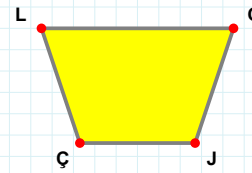
Şekle ait olmayan kenar/kenarları işaretleyelim.

- ☐ PC kenarı
☐ PR kenarı
☐ CM kenarı



Şekle ait olmayan kenar/kenarları işaretleyelim.

- ☐ ĞG kenarı
☐ DG kenarı
☐ DK kenarı



Şekle ait olmayan kenar/kenarları işaretleyelim.

- ☐ CJ kenarı
☐ CÇ kenarı
☐ LJ kenarı

SORU: Aşağıdaki şekillerde verilen kenarlardan şekle ait olmayanı bulunuz.

Şekle ait olmayan kenar/kenarları işaretleyelim.

☐ ÜÖ kenarı
☐ ÜT kenarı
☐ TZ kenarı

Şekle ait olmayan kenar/kenarları işaretleyelim.

☐ ÖÜ kenarı
☐ ÖV kenarı
☐ UN kenarı

Şekle ait olmayan kenar/kenarları işaretleyelim.

☐ IU kenarı
☐ MU kenarı
☐ UC kenarı

Şekle ait olmayan kenar/kenarları işaretleyelim.

☐ ŞP kenarı
☐ BE kenarı
☐ BŞ kenarı

Şekle ait olmayan kenar/kenarları işaretleyelim.

☐ EG kenarı
☐ RE kenarı
☐ RJ kenarı

Şekle ait olmayan kenar/kenarları işaretleyelim.

☐ ZV kenarı
☐ VU kenarı
☐ ZH kenarı

Şekle ait olmayan kenar/kenarları işaretleyelim.

☐ DZ kenarı
☐ FT kenarı
☐ TD kenarı

Şekle ait olmayan kenar/kenarları işaretleyelim.

☐ SĞ kenarı
☐ DT kenarı
☐ DS kenarı

Şekle ait olmayan kenar/kenarları işaretleyelim.

☐ ŞP kenarı
☐ ĞV kenarı
☐ ŞĞ kenarı

Şekle ait olmayan kenar/kenarları işaretleyelim.

☐ KŞ kenarı
☐ ŞE kenarı
☐ ŞÖ kenarı

Şekle ait olmayan kenar/kenarları işaretleyelim.

☐ Üİ kenarı
☐ İF kenarı
☐ FÜ kenarı

Şekle ait olmayan kenar/kenarları işaretleyelim.

☐ IK kenarı
☐ KL kenarı
☐ ML kenarı

SÜREÇ ODAKLI DEĞERLENDİRME ÖLÇEĞİ

Doğru Sayısı: / 24			Öğretmen ilgili kutucuğu işaretler.
Geliştirilmeli (0-8)	İyi (9-14)	Çok İyi (15-20)	Mükemmel (21-24)
<input type="checkbox"/>	<input type="checkbox"/>	<input type="checkbox"/>	<input type="checkbox"/>

Hazırlayan:

Bu bölüme sınıfınızın ilgili kazanıma yönelik genel durumuna ilişkin gözlem ve izlenimlerinizi, öğrencilerinizin bu kazanımla ilgili öğrenme eksikliklerini ve bu eksikliklerin giderilmesi amacıyla yaptığınız/yapmayı planladığınız faaliyetleri not edebilirsiniz.

No	Adı - Soyadı	Toplam Puan	Değerlendirme
1			
2			
3			
4			
5			
6			
7			
8			
9			
10			
11			
12			
13			
14			
15			
16			
17			
18			
19			
20			
21			
22			
23			
24			
25			
26			
27			
28			
29			
30			
31			
32			
33			
34			
35			

Hazırlayan: