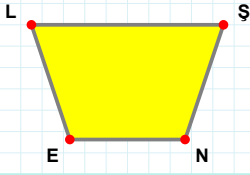
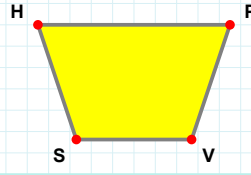


**SORU:** Aşağıdaki şekillerde verilen kenarlardan şekle ait olmayanı bulunuz.



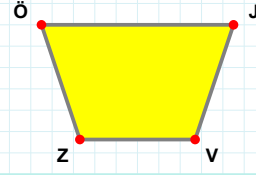
Şekle ait olmayan kenar/kenarları işaretleyelim.

- ☐ ŞE kenarı  
☐ LN kenarı  
☐ LŞ kenarı



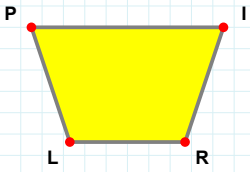
Şekle ait olmayan kenar/kenarları işaretleyelim.

- ☐ VS kenarı  
☐ SH kenarı  
☐ PS kenarı



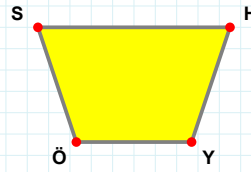
Şekle ait olmayan kenar/kenarları işaretleyelim.

- ☐ ZÖ kenarı  
☐ ÖV kenarı  
☐ JZ kenarı



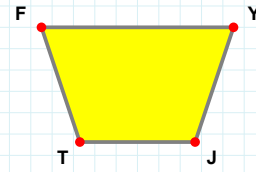
Şekle ait olmayan kenar/kenarları işaretleyelim.

- ☐ RL kenarı  
☐ IL kenarı  
☐ LP kenarı



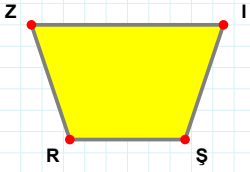
Şekle ait olmayan kenar/kenarları işaretleyelim.

- ☐ HÖ kenarı  
☐ SY kenarı  
☐ SH kenarı



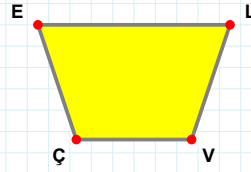
Şekle ait olmayan kenar/kenarları işaretleyelim.

- ☐ FJ kenarı  
☐ FY kenarı  
☐ YT kenarı



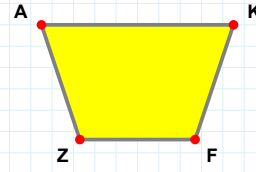
Şekle ait olmayan kenar/kenarları işaretleyelim.

- ☐ RZ kenarı  
☐ IR kenarı  
☐ ZŞ kenarı



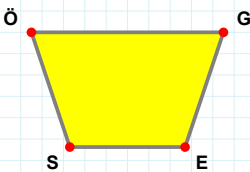
Şekle ait olmayan kenar/kenarları işaretleyelim.

- ☐ ÇE kenarı  
☐ VÇ kenarı  
☐ EV kenarı



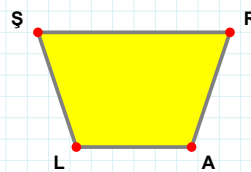
Şekle ait olmayan kenar/kenarları işaretleyelim.

- ☐ KF kenarı  
☐ KZ kenarı  
☐ AF kenarı



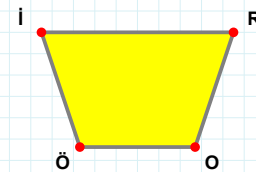
Şekle ait olmayan kenar/kenarları işaretleyelim.

- ☐ SÖ kenarı  
☐ ÖE kenarı  
☐ GS kenarı



Şekle ait olmayan kenar/kenarları işaretleyelim.

- ☐ RL kenarı  
☐ AL kenarı  
☐ RA kenarı



Şekle ait olmayan kenar/kenarları işaretleyelim.

- ☐ RO kenarı  
☐ İO kenarı  
☐ OÖ kenarı

SORU: Aşağıdaki şekillerde verilen kenarlardan şekle ait olmayanı bulunuz.

Şekle ait olmayan kenar/kenarları işaretleyelim.

☐ ZY kenarı

☐ IZ kenarı

☐ ZL kenarı

Şekle ait olmayan kenar/kenarları işaretleyelim.

☐ HB kenarı

☐ ŞH kenarı

☐ ŞN kenarı

Şekle ait olmayan kenar/kenarları işaretleyelim.

☐ CH kenarı

☐ EH kenarı

☐ Cl kenarı

Şekle ait olmayan kenar/kenarları işaretleyelim.

☐ US kenarı

☐ ÜP kenarı

☐ SP kenarı

Şekle ait olmayan kenar/kenarları işaretleyelim.

☐ CŞ kenarı

☐ ŞL kenarı

☐ EŞ kenarı

Şekle ait olmayan kenar/kenarları işaretleyelim.

☐ JF kenarı

☐ HJ kenarı

☐ FH kenarı

Şekle ait olmayan kenar/kenarları işaretleyelim.

☐ İÜ kenarı

☐ ÇÜ kenarı

☐ NÇ kenarı

Şekle ait olmayan kenar/kenarları işaretleyelim.

☐ TÇ kenarı

☐ ĞÇ kenarı

☐ ÇM kenarı

Şekle ait olmayan kenar/kenarları işaretleyelim.

☐ CS kenarı

☐ OS kenarı

☐ OC kenarı

Şekle ait olmayan kenar/kenarları işaretleyelim.

☐ MÜ kenarı

☐ NM kenarı

☐ JÜ kenarı

Şekle ait olmayan kenar/kenarları işaretleyelim.

☐ FP kenarı

☐ FY kenarı

☐ OY kenarı

Şekle ait olmayan kenar/kenarları işaretleyelim.

☐ ĞY kenarı

☐ ZĞ kenarı

☐ ZG kenarı

## SÜREÇ ODAKLI DEĞERLENDİRME ÖLÇEĞİ

Doğru Sayısı: ..... / 24

Öğretmen ilgili kutucuğu işaretler.

Geliştirilmeli (0-8)

İyi (9-14)

Çok İyi (15-20)

Mükemmel (21-24)

☐☐☐☐

Hazırlayan: .....

**Bu bölüme sınıfınızın ilgili kazanıma yönelik genel durumuna ilişkin gözlem ve izlenimlerinizi, öğrencilerinizin bu kazanımla ilgili öğrenme eksikliklerini ve bu eksikliklerin giderilmesi amacıyla yaptığınız/yapmayı planladığınız faaliyetleri not edebilirsiniz.**

No	Adı - Soyadı	Toplam Puan	Değerlendirme
1			
2			
3			
4			
5			
6			
7			
8			
9			
10			
11			
12			
13			
14			
15			
16			
17			
18			
19			
20			
21			
22			
23			
24			
25			
26			
27			
28			
29			
30			
31			
32			
33			
34			
35			

Hazırlayan: .....