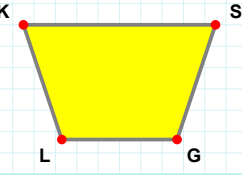
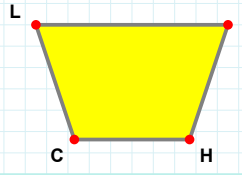


**SORU:** Aşağıdaki şekillerde verilen kenarlardan şekle ait olmayanı bulunuz.



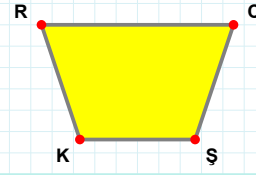
Şekle ait olmayan kenar/kenarları işaretleyelim.

- ☐ KS kenarı  
☐ KG kenarı  
☐ LK kenarı



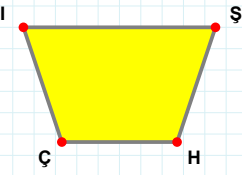
Şekle ait olmayan kenar/kenarları işaretleyelim.

- ☐ DC kenarı  
☐ CL kenarı  
☐ LD kenarı



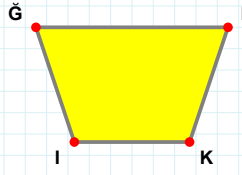
Şekle ait olmayan kenar/kenarları işaretleyelim.

- ☐ RŞ kenarı  
☐ CK kenarı  
☐ RC kenarı



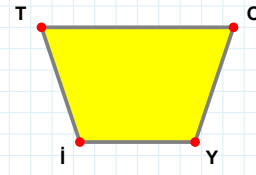
Şekle ait olmayan kenar/kenarları işaretleyelim.

- ☐ ŞÇ kenarı  
☐ IH kenarı  
☐ HÇ kenarı



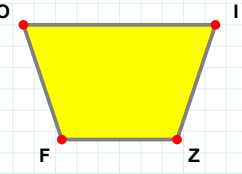
Şekle ait olmayan kenar/kenarları işaretleyelim.

- ☐ MK kenarı  
☐ ĞK kenarı  
☐ MI kenarı



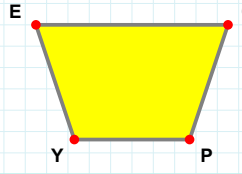
Şekle ait olmayan kenar/kenarları işaretleyelim.

- ☐ Oİ kenarı  
☐ Yİ kenarı  
☐ OY kenarı



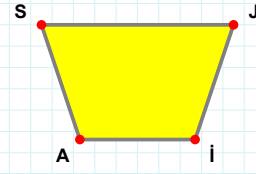
Şekle ait olmayan kenar/kenarları işaretleyelim.

- ☐ IF kenarı  
☐ Oİ kenarı  
☐ OZ kenarı



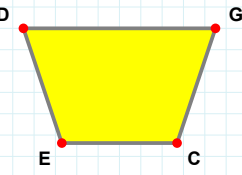
Şekle ait olmayan kenar/kenarları işaretleyelim.

- ☐ EO kenarı  
☐ EP kenarı  
☐ OY kenarı



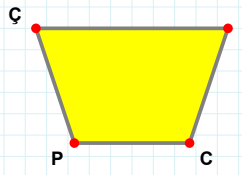
Şekle ait olmayan kenar/kenarları işaretleyelim.

- ☐ AS kenarı  
☐ SJ kenarı  
☐ SI kenarı



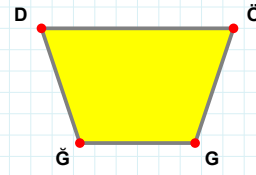
Şekle ait olmayan kenar/kenarları işaretleyelim.

- ☐ DC kenarı  
☐ CE kenarı  
☐ GE kenarı



Şekle ait olmayan kenar/kenarları işaretleyelim.

- ☐ ÇT kenarı  
☐ TP kenarı  
☐ ÇC kenarı



Şekle ait olmayan kenar/kenarları işaretleyelim.

- ☐ ÖĞ kenarı  
☐ ĞD kenarı  
☐ DG kenarı

**SORU:** Aşağıdaki şekillerde verilen kenarlardan şekle ait olmayanı bulunuz.

Şekle ait olmayan kenar/kenarları işaretleyelim.

☐ MD kenarı  
☐ DH kenarı  
☐ UH kenarı

Şekle ait olmayan kenar/kenarları işaretleyelim.

☐ EJ kenarı  
☐ AC kenarı  
☐ CJ kenarı

Şekle ait olmayan kenar/kenarları işaretleyelim.

☐ SB kenarı  
☐ SK kenarı  
☐ KP kenarı

Şekle ait olmayan kenar/kenarları işaretleyelim.

☐ ÖB kenarı  
☐ BV kenarı  
☐ ĞV kenarı

Şekle ait olmayan kenar/kenarları işaretleyelim.

☐ ŞZ kenarı  
☐ Şİ kenarı  
☐ AI kenarı

Şekle ait olmayan kenar/kenarları işaretleyelim.

☐ JL kenarı  
☐ ĞK kenarı  
☐ JK kenarı

Şekle ait olmayan kenar/kenarları işaretleyelim.

☐ TR kenarı  
☐ KA kenarı  
☐ RK kenarı

Şekle ait olmayan kenar/kenarları işaretleyelim.

☐ LC kenarı  
☐ CV kenarı  
☐ VJ kenarı

Şekle ait olmayan kenar/kenarları işaretleyelim.

☐ ES kenarı  
☐ OH kenarı  
☐ HE kenarı

Şekle ait olmayan kenar/kenarları işaretleyelim.

☐ ÖJ kenarı  
☐ İÖ kenarı  
☐ JE kenarı

Şekle ait olmayan kenar/kenarları işaretleyelim.

☐ TR kenarı  
☐ AZ kenarı  
☐ RZ kenarı

Şekle ait olmayan kenar/kenarları işaretleyelim.

☐ PI kenarı  
☐ IL kenarı  
☐ İİ kenarı

SÜREÇ ODAKLI DEĞERLENDİRME ÖLÇEĞİ

Doğru Sayısı: ..... / 24			Öğretmen ilgili kutucuğu işaretler.
Geliştirilmeli (0-8)	İyi (9-14)	Çok İyi (15-20)	Mükemmel (21-24)
<input type="checkbox"/>	<input type="checkbox"/>	<input type="checkbox"/>	<input type="checkbox"/>

Hazırlayan: .....

**Bu bölüme sınıfınızın ilgili kazanıma yönelik genel durumuna ilişkin gözlem ve izlenimlerinizi, öğrencilerinizin bu kazanımla ilgili öğrenme eksikliklerini ve bu eksikliklerin giderilmesi amacıyla yaptığınız/yapmayı planladığınız faaliyetleri not edebilirsiniz.**

No	Adı - Soyadı	Toplam Puan	Değerlendirme
1			
2			
3			
4			
5			
6			
7			
8			
9			
10			
11			
12			
13			
14			
15			
16			
17			
18			
19			
20			
21			
22			
23			
24			
25			
26			
27			
28			
29			
30			
31			
32			
33			
34			
35			

Hazırlayan: ..... ..