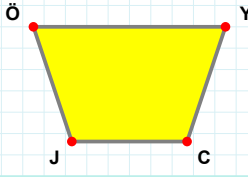
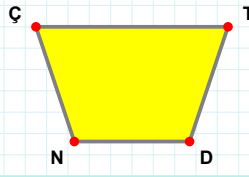


**SORU:** Aşağıdaki şekillerde verilen kenarlardan şekle ait olmayanı bulunuz.



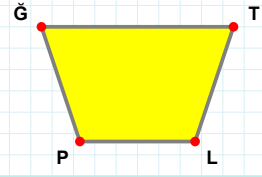
Şekle ait olmayan kenar/kenarları işaretleyelim.

- ☐ ÖC kenarı  
☐ YJ kenarı  
☐ YC kenarı



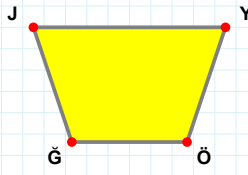
Şekle ait olmayan kenar/kenarları işaretleyelim.

- ☐ TN kenarı  
☐ NÇ kenarı  
☐ TD kenarı



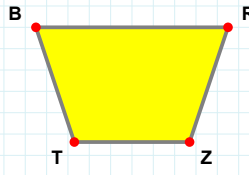
Şekle ait olmayan kenar/kenarları işaretleyelim.

- ☐ LP kenarı  
☐ PĞ kenarı  
☐ ĞL kenarı



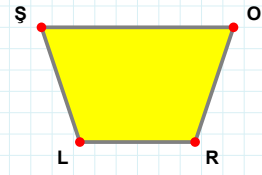
Şekle ait olmayan kenar/kenarları işaretleyelim.

- ☐ YĞ kenarı  
☐ JÖ kenarı  
☐ ÖĞ kenarı



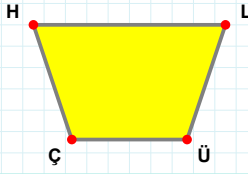
Şekle ait olmayan kenar/kenarları işaretleyelim.

- ☐ ZT kenarı  
☐ BZ kenarı  
☐ RT kenarı



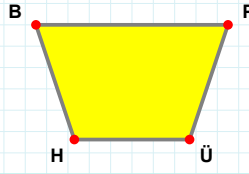
Şekle ait olmayan kenar/kenarları işaretleyelim.

- ☐ LŞ kenarı  
☐ OL kenarı  
☐ OR kenarı



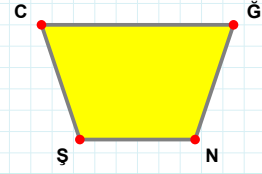
Şekle ait olmayan kenar/kenarları işaretleyelim.

- ☐ LÜ kenarı  
☐ ÇH kenarı  
☐ HÜ kenarı



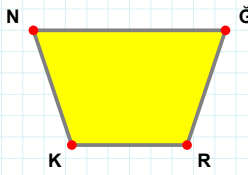
Şekle ait olmayan kenar/kenarları işaretleyelim.

- ☐ ÜH kenarı  
☐ BÜ kenarı  
☐ PH kenarı



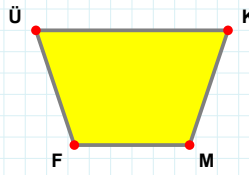
Şekle ait olmayan kenar/kenarları işaretleyelim.

- ☐ NŞ kenarı  
☐ ĞŞ kenarı  
☐ ĞN kenarı



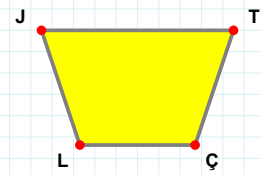
Şekle ait olmayan kenar/kenarları işaretleyelim.

- ☐ ĞR kenarı  
☐ ĞK kenarı  
☐ RK kenarı



Şekle ait olmayan kenar/kenarları işaretleyelim.

- ☐ KF kenarı  
☐ FÜ kenarı  
☐ ÜM kenarı



Şekle ait olmayan kenar/kenarları işaretleyelim.

- ☐ TL kenarı  
☐ TÇ kenarı  
☐ LJ kenarı

SORU: Aşağıdaki şekillerde verilen kenarlardan şekle ait olmayanı bulunuz.

Şekle ait olmayan kenar/kenarları işaretleyelim.

☐ ÖP kenarı  
☐ OH kenarı  
☐ HÖ kenarı

Şekle ait olmayan kenar/kenarları işaretleyelim.

☐ BÖ kenarı  
☐ ÖN kenarı  
☐ NB kenarı

Şekle ait olmayan kenar/kenarları işaretleyelim.

☐ NJ kenarı  
☐ HN kenarı  
☐ TJ kenarı

Şekle ait olmayan kenar/kenarları işaretleyelim.

☐ ĞI kenarı  
☐ ÖM kenarı  
☐ İÖ kenarı

Şekle ait olmayan kenar/kenarları işaretleyelim.

☐ ÇF kenarı  
☐ ÇZ kenarı  
☐ OÇ kenarı

Şekle ait olmayan kenar/kenarları işaretleyelim.

☐ ÖU kenarı  
☐ ÇM kenarı  
☐ ÇÖ kenarı

Şekle ait olmayan kenar/kenarları işaretleyelim.

☐ İÜ kenarı  
☐ DĞ kenarı  
☐ İD kenarı

Şekle ait olmayan kenar/kenarları işaretleyelim.

☐ ÇJ kenarı  
☐ VY kenarı  
☐ VJ kenarı

Şekle ait olmayan kenar/kenarları işaretleyelim.

☐ NS kenarı  
☐ İT kenarı  
☐ Nİ kenarı

Şekle ait olmayan kenar/kenarları işaretleyelim.

☐ VT kenarı  
☐ İB kenarı  
☐ VB kenarı

Şekle ait olmayan kenar/kenarları işaretleyelim.

☐ Cİ kenarı  
☐ KI kenarı  
☐ KI kenarı

Şekle ait olmayan kenar/kenarları işaretleyelim.

☐ ÜV kenarı  
☐ Hİ kenarı  
☐ İÜ kenarı

## SÜREÇ ODAKLI DEĞERLENDİRME ÖLÇEĞİ

Doğru Sayısı: ..... / 24

Öğretmen ilgili kutucuğu işaretler.

Geliştirilmeli (0-8)

İyi (9-14)

Çok İyi (15-20)

Mükemmel (21-24)

☐
☐
☐
☐

Hazırlayan: .....

**Bu bölüme sınıfınızın ilgili kazanıma yönelik genel durumuna ilişkin gözlem ve izlenimlerinizi, öğrencilerinizin bu kazanımla ilgili öğrenme eksikliklerini ve bu eksikliklerin giderilmesi amacıyla yaptığınız/yapmayı planladığınız faaliyetleri not edebilirsiniz.**

No	Adı - Soyadı	Toplam Puan	Değerlendirme
1			
2			
3			
4			
5			
6			
7			
8			
9			
10			
11			
12			
13			
14			
15			
16			
17			
18			
19			
20			
21			
22			
23			
24			
25			
26			
27			
28			
29			
30			
31			
32			
33			
34			
35			

Hazırlayan: ..... ..