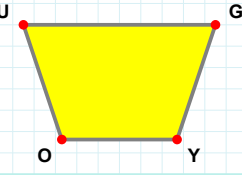
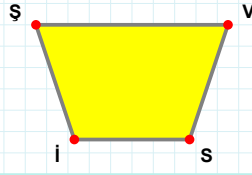


SORU: Aşağıdaki şekillerde verilen kenarlardan şekle ait olmayanı bulunuz.



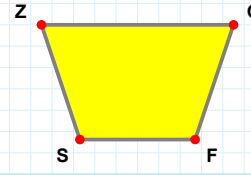
Şekle ait olmayan kenar/kenarları işaretleyelim.

- ☐ UY kenarı
☐ GO kenarı
☐ UG kenarı



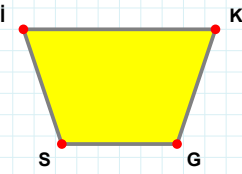
Şekle ait olmayan kenar/kenarları işaretleyelim.

- ☐ Vİ kenarı
☐ ŞS kenarı
☐ ŞV kenarı



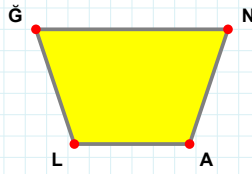
Şekle ait olmayan kenar/kenarları işaretleyelim.

- ☐ GS kenarı
☐ ZG kenarı
☐ ZF kenarı



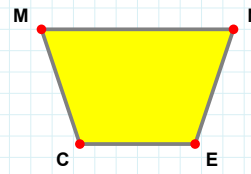
Şekle ait olmayan kenar/kenarları işaretleyelim.

- ☐ KS kenarı
☐ İK kenarı
☐ İG kenarı



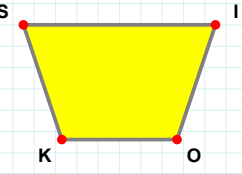
Şekle ait olmayan kenar/kenarları işaretleyelim.

- ☐ NL kenarı
☐ LĞ kenarı
☐ ĞA kenarı



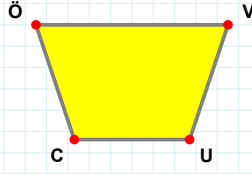
Şekle ait olmayan kenar/kenarları işaretleyelim.

- ☐ MN kenarı
☐ NC kenarı
☐ ME kenarı



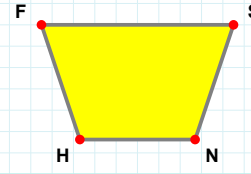
Şekle ait olmayan kenar/kenarları işaretleyelim.

- ☐ IO kenarı
☐ İK kenarı
☐ SO kenarı



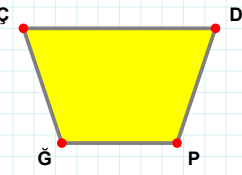
Şekle ait olmayan kenar/kenarları işaretleyelim.

- ☐ VC kenarı
☐ UC kenarı
☐ VU kenarı



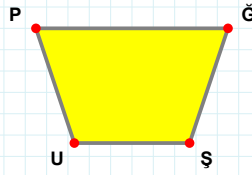
Şekle ait olmayan kenar/kenarları işaretleyelim.

- ☐ SH kenarı
☐ FS kenarı
☐ SN kenarı



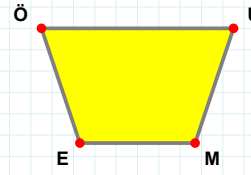
Şekle ait olmayan kenar/kenarları işaretleyelim.

- ☐ PĞ kenarı
☐ ÇP kenarı
☐ ÇD kenarı



Şekle ait olmayan kenar/kenarları işaretleyelim.

- ☐ ĞU kenarı
☐ PĞ kenarı
☐ PŞ kenarı



Şekle ait olmayan kenar/kenarları işaretleyelim.

- ☐ UE kenarı
☐ EÖ kenarı
☐ ÖM kenarı

SORU: Aşağıdaki şekillerde verilen kenarlardan şekle ait olmayanı bulunuz.

Şekle ait olmayan kenar/kenarları işaretleyelim.

☐ AG kenarı
☐ AP kenarı
☐ TP kenarı

Şekle ait olmayan kenar/kenarları işaretleyelim.

☐ VJ kenarı
☐ VS kenarı
☐ PŞ kenarı

Şekle ait olmayan kenar/kenarları işaretleyelim.

☐ ÜY kenarı
☐ GY kenarı
☐ YO kenarı

Şekle ait olmayan kenar/kenarları işaretleyelim.

☐ LR kenarı
☐ NP kenarı
☐ NR kenarı

Şekle ait olmayan kenar/kenarları işaretleyelim.

☐ BJ kenarı
☐ AO kenarı
☐ BA kenarı

Şekle ait olmayan kenar/kenarları işaretleyelim.

☐ KR kenarı
☐ IK kenarı
☐ ÇR kenarı

Şekle ait olmayan kenar/kenarları işaretleyelim.

☐ GL kenarı
☐ JG kenarı
☐ OG kenarı

Şekle ait olmayan kenar/kenarları işaretleyelim.

☐ ÇI kenarı
☐ ÇP kenarı
☐ PI kenarı

Şekle ait olmayan kenar/kenarları işaretleyelim.

☐ RA kenarı
☐ AF kenarı
☐ FR kenarı

Şekle ait olmayan kenar/kenarları işaretleyelim.

☐ IF kenarı
☐ AH kenarı
☐ IA kenarı

Şekle ait olmayan kenar/kenarları işaretleyelim.

☐ CT kenarı
☐ iT kenarı
☐ BI kenarı

Şekle ait olmayan kenar/kenarları işaretleyelim.

☐ RM kenarı
☐ ML kenarı
☐ RL kenarı

SÜREÇ ODAKLI DEĞERLENDİRME ÖLÇEĞİ

Doğru Sayısı: / 24			Öğretmen ilgili kutucuğu işaretler.
Geliştirilmeli (0-8)	İyi (9-14)	Çok İyi (15-20)	Mükemmel (21-24)
<input type="checkbox"/>	<input type="checkbox"/>	<input type="checkbox"/>	<input type="checkbox"/>

Hazırlayan:

Bu bölüme sınıfınızın ilgili kazanıma yönelik genel durumuna ilişkin gözlem ve izlenimlerinizi, öğrencilerinizin bu kazanımla ilgili öğrenme eksikliklerini ve bu eksikliklerin giderilmesi amacıyla yaptığınız/yapmayı planladığınız faaliyetleri not edebilirsiniz.

No	Adı - Soyadı	Toplam Puan	Değerlendirme
1			
2			
3			
4			
5			
6			
7			
8			
9			
10			
11			
12			
13			
14			
15			
16			
17			
18			
19			
20			
21			
22			
23			
24			
25			
26			
27			
28			
29			
30			
31			
32			
33			
34			
35			

Hazırlayan: