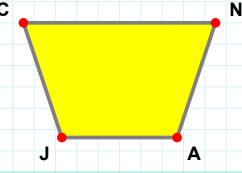
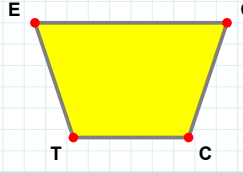


**SORU:** Aşağıdaki şekillerde verilen kenarlardan şekle ait olmayanı bulunuz.



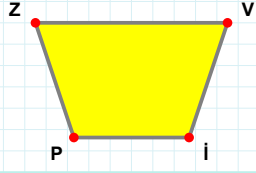
Şekle ait olmayan kenar/kenarları işaretleyelim.

- ☐ NA kenarı  
☐ CA kenarı  
☐ JC kenarı



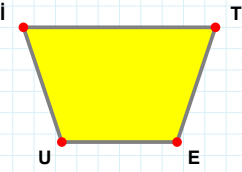
Şekle ait olmayan kenar/kenarları işaretleyelim.

- ☐ EC kenarı  
☐ EG kenarı  
☐ GC kenarı



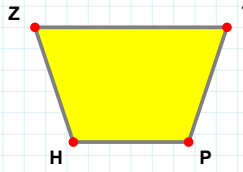
Şekle ait olmayan kenar/kenarları işaretleyelim.

- ☐ VP kenarı  
☐ İP kenarı  
☐ Zİ kenarı



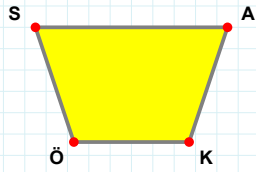
Şekle ait olmayan kenar/kenarları işaretleyelim.

- ☐ İE kenarı  
☐ Uİ kenarı  
☐ EU kenarı



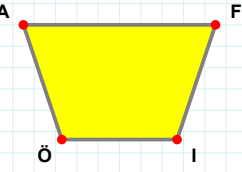
Şekle ait olmayan kenar/kenarları işaretleyelim.

- ☐ HZ kenarı  
☐ ZP kenarı  
☐ ZT kenarı



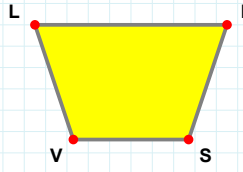
Şekle ait olmayan kenar/kenarları işaretleyelim.

- ☐ KÖ kenarı  
☐ AK kenarı  
☐ SK kenarı



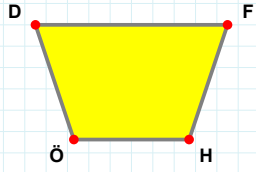
Şekle ait olmayan kenar/kenarları işaretleyelim.

- ☐ ÖA kenarı  
☐ FÖ kenarı  
☐ İÖ kenarı



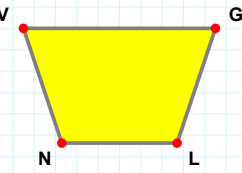
Şekle ait olmayan kenar/kenarları işaretleyelim.

- ☐ KV kenarı  
☐ LS kenarı  
☐ LK kenarı



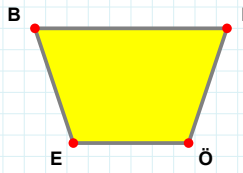
Şekle ait olmayan kenar/kenarları işaretleyelim.

- ☐ FH kenarı  
☐ HÖ kenarı  
☐ DH kenarı



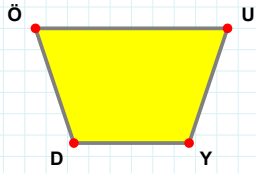
Şekle ait olmayan kenar/kenarları işaretleyelim.

- ☐ GN kenarı  
☐ NV kenarı  
☐ GL kenarı



Şekle ait olmayan kenar/kenarları işaretleyelim.

- ☐ PE kenarı  
☐ EB kenarı  
☐ BÖ kenarı



Şekle ait olmayan kenar/kenarları işaretleyelim.

- ☐ YD kenarı  
☐ ÖY kenarı  
☐ UD kenarı

SORU: Aşağıdaki şekillerde verilen kenarlardan şekle ait olmayanı bulunuz.

Şekle ait olmayan kenar/kenarları işaretleyelim.

☐ ZŞ kenarı  
☐ MZ kenarı  
☐ İZ kenarı

Şekle ait olmayan kenar/kenarları işaretleyelim.

☐ DL kenarı  
☐ KD kenarı  
☐ KJ kenarı

Şekle ait olmayan kenar/kenarları işaretleyelim.

☐ CM kenarı  
☐ DC kenarı  
☐ MD kenarı

Şekle ait olmayan kenar/kenarları işaretleyelim.

☐ AI kenarı  
☐ ZS kenarı  
☐ IS kenarı

Şekle ait olmayan kenar/kenarları işaretleyelim.

☐ TÖ kenarı  
☐ ÖO kenarı  
☐ TO kenarı

Şekle ait olmayan kenar/kenarları işaretleyelim.

☐ ĞU kenarı  
☐ KE kenarı  
☐ UK kenarı

Şekle ait olmayan kenar/kenarları işaretleyelim.

☐ ÇG kenarı  
☐ YĞ kenarı  
☐ ÇĞ kenarı

Şekle ait olmayan kenar/kenarları işaretleyelim.

☐ JA kenarı  
☐ ŞJ kenarı  
☐ NŞ kenarı

Şekle ait olmayan kenar/kenarları işaretleyelim.

☐ İÜ kenarı  
☐ GC kenarı  
☐ İC kenarı

Şekle ait olmayan kenar/kenarları işaretleyelim.

☐ YA kenarı  
☐ NY kenarı  
☐ AN kenarı

Şekle ait olmayan kenar/kenarları işaretleyelim.

☐ UO kenarı  
☐ MU kenarı  
☐ MO kenarı

Şekle ait olmayan kenar/kenarları işaretleyelim.

☐ YL kenarı  
☐ LA kenarı  
☐ AY kenarı

## SÜREÇ ODAKLI DEĞERLENDİRME ÖLÇEĞİ

Doğru Sayısı: ..... / 24

Öğretmen ilgili kutucuğu işaretler.

Geliştirilmeli (0-8)

İyi (9-14)

Çok İyi (15-20)

Mükemmel (21-24)

☐☐☐☐

Hazırlayan: .....

**Bu bölüme sınıfınızın ilgili kazanıma yönelik genel durumuna ilişkin gözlem ve izlenimlerinizi, öğrencilerinizin bu kazanımla ilgili öğrenme eksikliklerini ve bu eksikliklerin giderilmesi amacıyla yaptığınız/yapmayı planladığınız faaliyetleri not edebilirsiniz.**

No	Adı - Soyadı	Toplam Puan	Değerlendirme
1			
2			
3			
4			
5			
6			
7			
8			
9			
10			
11			
12			
13			
14			
15			
16			
17			
18			
19			
20			
21			
22			
23			
24			
25			
26			
27			
28			
29			
30			
31			
32			
33			
34			
35			

Hazırlayan: ..... ..