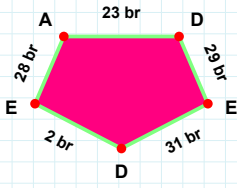
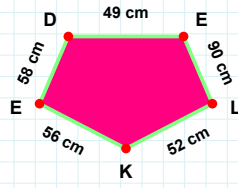


SORU: Aşağıdaki şekillerde istenen kenarın kaç birim veya santimetre olduğunu bulunuz.



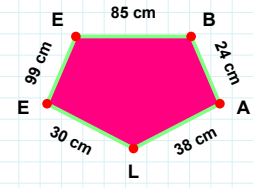
|ED| kaç brdir?

- ☐ 41 br
☐ 31 br
☐ 36 br



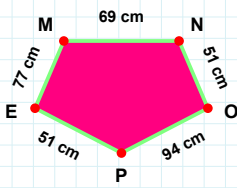
|LK| kaç cmdir?

- ☐ 52 cm
☐ 57 cm
☐ 49 cm



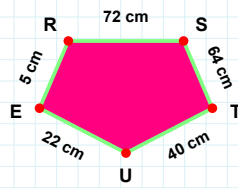
|LE| kaç cmdir?

- ☐ 40 cm
☐ 28 cm
☐ 30 cm



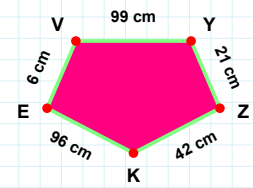
|KE| kaç cmdir?

- ☐ 96 cm
☐ 99 cm
☐ 97 cm



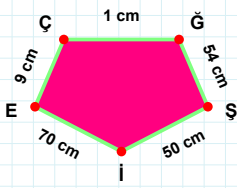
|EM| kaç cmdir?

- ☐ 77 cm
☐ 78 cm
☐ 67 cm



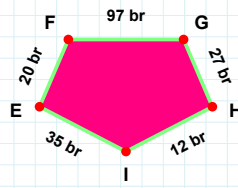
|TU| kaç cmdir?

- ☐ 39 cm
☐ 50 cm
☐ 40 cm



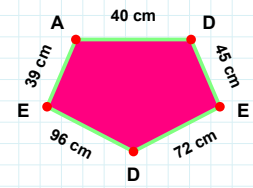
|ÇĞ| kaç cmdir?

- ☐ 11 cm
☐ 4 cm
☐ 1 cm



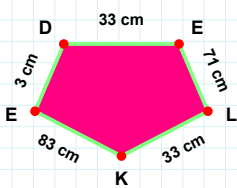
|DE| kaç cmdir?

- ☐ 42 cm
☐ 45 cm
☐ 35 cm



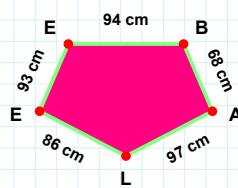
|EF| kaç brdir?

- ☐ 25 br
☐ 22 br
☐ 20 br



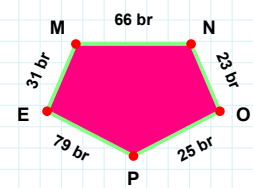
|EB| kaç cmdir?

- ☐ 93 cm
☐ 94 cm
☐ 89 cm



|PE| kaç brdir?

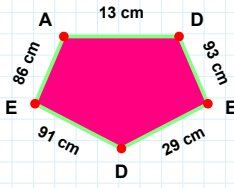
- ☐ 82 br
☐ 79 br
☐ 77 br



|EL| kaç cmdir?

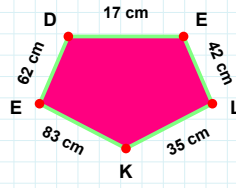
- ☐ 71 cm
☐ 72 cm
☐ 74 cm

SORU: Aşağıdaki şekillerde istenen kenarın kaç birim veya santimetre olduğunu bulunuz.



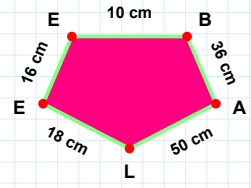
|DE| kaç cmdir?

- ☐ 92 cm
☐ 93 cm
☐ 98 cm



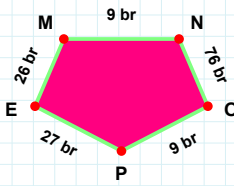
|BA| kaç cmdir?

- ☐ 26 cm
☐ 39 cm
☐ 36 cm



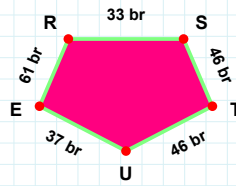
|EL| kaç cmdir?

- ☐ 52 cm
☐ 32 cm
☐ 42 cm



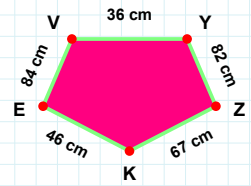
|ST| kaç brdir?

- ☐ 43 br
☐ 46 br
☐ 44 br



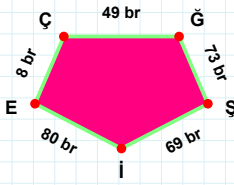
|MN| kaç brdir?

- ☐ 8 br
☐ 9 br
☐ 19 br



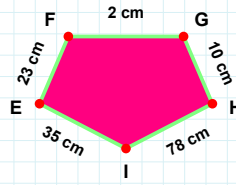
|YZ| kaç cmdir?

- ☐ 82 cm
☐ 83 cm
☐ 87 cm



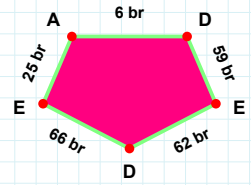
|Şİ| kaç brdir?

- ☐ 69 br
☐ 64 br
☐ 66 br



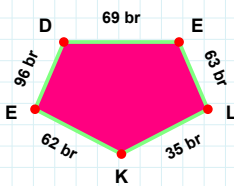
|ED| kaç brdir?

- ☐ 59 br
☐ 63 br
☐ 62 br



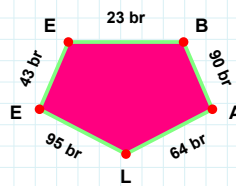
|IE| kaç cmdir?

- ☐ 38 cm
☐ 36 cm
☐ 35 cm



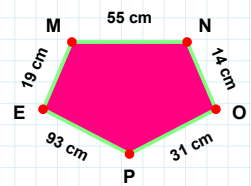
|MN| kaç cmdir?

- ☐ 60 cm
☐ 45 cm
☐ 55 cm



|LK| kaç brdir?

- ☐ 33 br
☐ 25 br
☐ 35 br



|BA| kaç brdir?

- ☐ 91 br
☐ 90 br
☐ 89 br

SÜREÇ ODAKLI DEĞERLENDİRME ÖLÇEĞİ

Doğru Sayısı: / 24

Öğretmen ilgili kutucuğu işaretler.

Geliştirilmeli (0-8)

İyi (9-14)

Çok İyi (15-20)

Mükemmel (21-24)

☐
☐
☐
☐

Hazırlayan:

Bu bölüme sınıfınızın ilgili kazanıma yönelik genel durumuna ilişkin gözlem ve izlenimlerinizi, öğrencilerinizin bu kazanımla ilgili öğrenme eksikliklerini ve bu eksikliklerin giderilmesi amacıyla yaptığınız/yapmayı planladığınız faaliyetleri not edebilirsiniz.

No	Adı - Soyadı	Toplam Puan	Değerlendirme
1			
2			
3			
4			
5			
6			
7			
8			
9			
10			
11			
12			
13			
14			
15			
16			
17			
18			
19			
20			
21			
22			
23			
24			
25			
26			
27			
28			
29			
30			
31			
32			
33			
34			
35			

Hazırlayan: