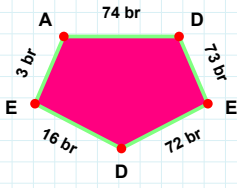
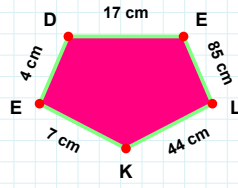


SORU: Aşağıdaki şekillerde istenen kenarın kaç birim veya santimetre olduğunu bulunuz.



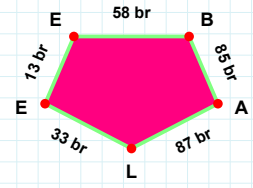
|AD| kaç brdir?

- ☐ 71 br
☐ 73 br
☐ 74 br



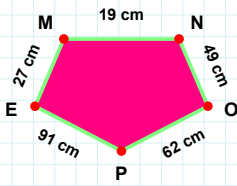
|DE| kaç cmdir?

- ☐ 16 cm
☐ 17 cm
☐ 14 cm



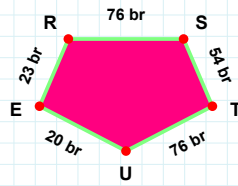
|BA| kaç brdir?

- ☐ 85 br
☐ 82 br
☐ 87 br



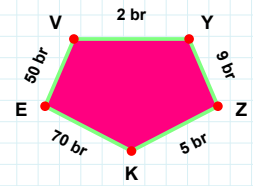
|EV| kaç brdir?

- ☐ 50 br
☐ 60 br
☐ 48 br



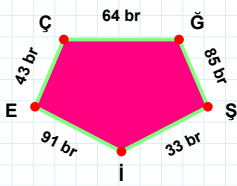
|EM| kaç cmdir?

- ☐ 22 cm
☐ 27 cm
☐ 32 cm



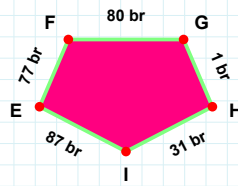
|ST| kaç brdir?

- ☐ 54 br
☐ 52 br
☐ 53 br



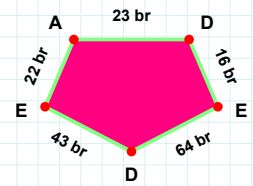
|EA| kaç brdir?

- ☐ 22 br
☐ 23 br
☐ 21 br



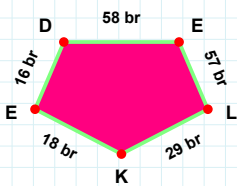
|İE| kaç brdir?

- ☐ 87 br
☐ 84 br
☐ 89 br



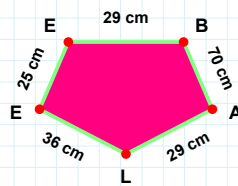
|ĜŞ| kaç brdir?

- ☐ 85 br
☐ 95 br
☐ 83 br



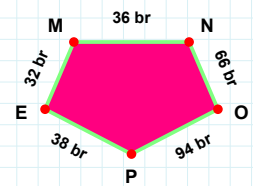
|NO| kaç brdir?

- ☐ 69 br
☐ 66 br
☐ 61 br



|EB| kaç cmdir?

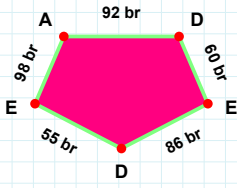
- ☐ 29 cm
☐ 31 cm
☐ 39 cm



|DE| kaç brdir?

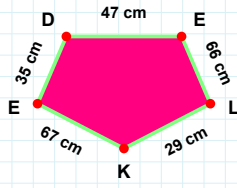
- ☐ 58 br
☐ 57 br
☐ 68 br

SORU: Aşağıdaki şekillerde istenen kenarın kaç birim veya santimetre olduğunu bulunuz.



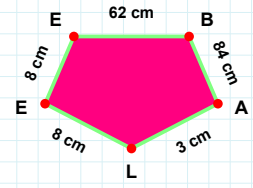
|EB| kaç cmdir?

- ☐ 63 cm
☐ 62 cm
☐ 72 cm



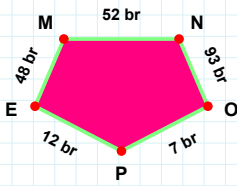
|DE| kaç brdir?

- ☐ 62 br
☐ 60 br
☐ 70 br



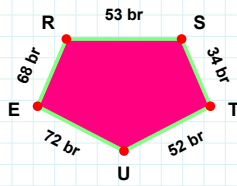
|LK| kaç cmdir?

- ☐ 27 cm
☐ 34 cm
☐ 29 cm



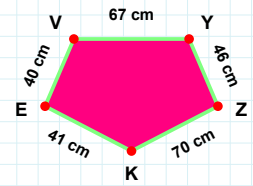
|ST| kaç brdir?

- ☐ 36 br
☐ 34 br
☐ 39 br



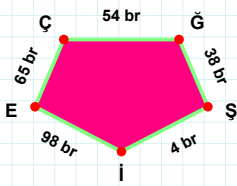
|EV| kaç cmdir?

- ☐ 42 cm
☐ 40 cm
☐ 37 cm



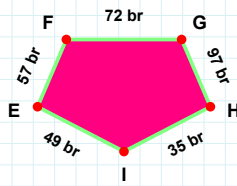
|OP| kaç brdir?

- ☐ 17 br
☐ 7 br
☐ 9 br



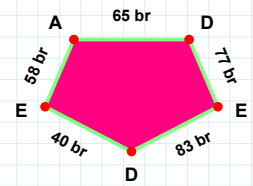
|DE| kaç brdir?

- ☐ 77 br
☐ 76 br
☐ 79 br



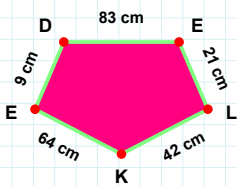
|EF| kaç brdir?

- ☐ 52 br
☐ 57 br
☐ 56 br



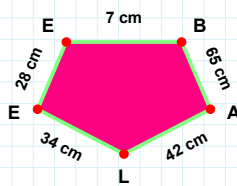
|ĞŞ| kaç brdir?

- ☐ 37 br
☐ 41 br
☐ 38 br



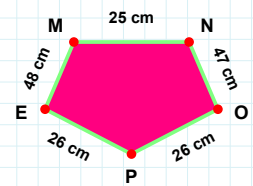
|DE| kaç cmdir?

- ☐ 78 cm
☐ 83 cm
☐ 86 cm



|BA| kaç cmdir?

- ☐ 66 cm
☐ 65 cm
☐ 67 cm



|NO| kaç cmdir?

- ☐ 49 cm
☐ 46 cm
☐ 47 cm

SÜREÇ ODAKLI DEĞERLENDİRME ÖLÇEĞİ

Doğru Sayısı: / 24

Öğretmen ilgili kutucuğu işaretler.

Geliştirilmeli (0-8)

İyi (9-14)

Çok İyi (15-20)

Mükemmel (21-24)

☐
☐
☐
☐

Hazırlayan:

Bu bölüme sınıfınızın ilgili kazanıma yönelik genel durumuna ilişkin gözlem ve izlenimlerinizi, öğrencilerinizin bu kazanımla ilgili öğrenme eksikliklerini ve bu eksikliklerin giderilmesi amacıyla yaptığınız/yapmayı planladığınız faaliyetleri not edebilirsiniz.

No	Adı - Soyadı	Toplam Puan	Değerlendirme
1			
2			
3			
4			
5			
6			
7			
8			
9			
10			
11			
12			
13			
14			
15			
16			
17			
18			
19			
20			
21			
22			
23			
24			
25			
26			
27			
28			
29			
30			
31			
32			
33			
34			
35			

Hazırlayan: