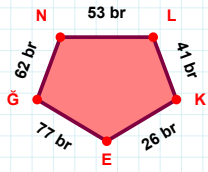
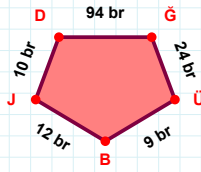


SORU: Aşağıdaki geometrik şekillerle ilgili soruları cevaplayınız.



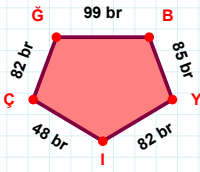
|LK| kaç brdir?

- ☐ 40 br  
☐ 41 br  
☐ 42 br



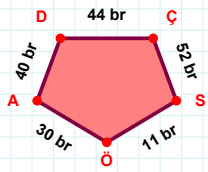
12 br hangi kenara aittir?

Kenar: .....



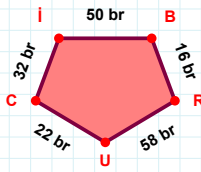
|BY| kaç brdir?

- ☐ 84 br  
☐ 85 br  
☐ 86 br



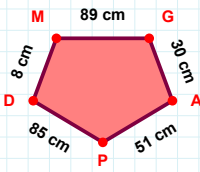
44 br hangi kenara aittir?

Kenar: .....



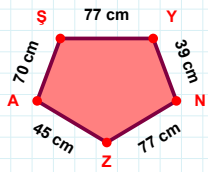
16 br hangi kenara aittir?

Kenar: .....



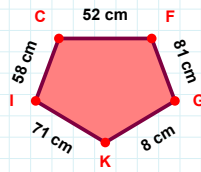
8 cm hangi kenara aittir?

- ☐ MG kenarı  
☐ GD kenarı  
☐ GA kenarı



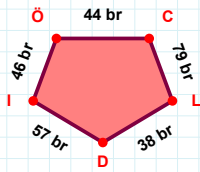
70 cm hangi kenara aittir?

- ☐ AŞ kenarı  
☐ ZY kenarı  
☐ ZA kenarı



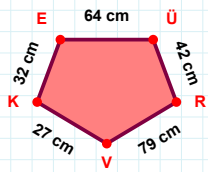
|IC| + |CF| = ....

Cevap: ..... cm



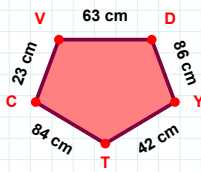
46 br hangi kenara aittir?

- ☐ İÖ kenarı  
☐ CI kenarı  
☐ CL kenarı



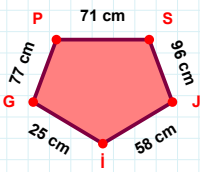
|ÜR| kaç cmdir?

- ☐ 41 cm  
☐ 42 cm  
☐ 43 cm



|CV| kaç cmdir?

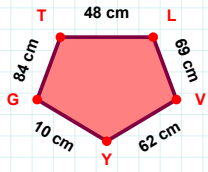
- ☐ 22 cm  
☐ 23 cm  
☐ 24 cm



25 cm hangi kenara aittir?

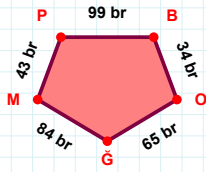
Kenar: .....

SORU: Aşağıdaki geometrik şekillerle ilgili soruları cevaplayınız.



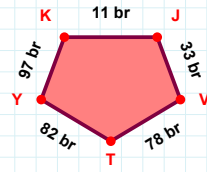
|VY| kaç cm'dir?

- ☐ 61 cm  
☐ 62 cm  
☐ 63 cm



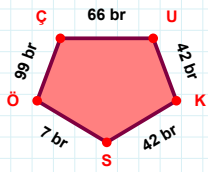
|BO| kaç br'dir?

- ☐ 33 br  
☐ 34 br  
☐ 35 br



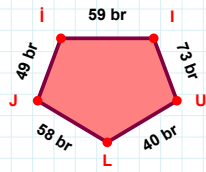
|TY| + |YK| = ....

Cevap: ..... br



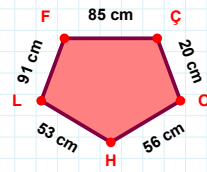
7 br hangi kenara aittir?

Kenar: .....



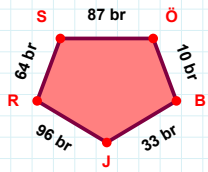
40 br hangi kenara aittir?

Kenar: .....



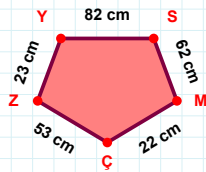
|OH| kaç cm'dir?

- ☐ 55 cm  
☐ 56 cm  
☐ 57 cm



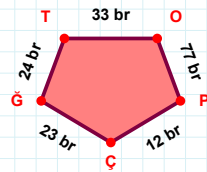
64 br hangi kenara aittir?

- ☐ RS kenarı  
☐ BJ kenarı  
☐ JS kenarı



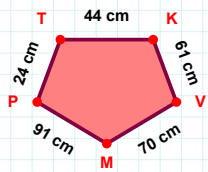
|ÇZ| kaç cm'dir?

- ☐ 52 cm  
☐ 53 cm  
☐ 54 cm



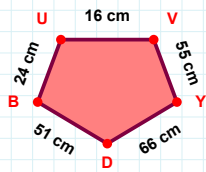
24 br hangi kenara aittir?

- ☐ PĞ kenarı  
☐ TO kenarı  
☐ ÇĞ kenarı



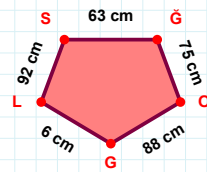
|TK| + |VM| = ....

Cevap: ..... cm



|UV| + |YD| = ....

Cevap: ..... cm



92 cm hangi kenara aittir?

- ☐ SG kenarı  
☐ ĞO kenarı  
☐ LS kenarı

## SÜREÇ ODAKLI DEĞERLENDİRME ÖLÇEĞİ

Doğru Sayısı: ..... / 24

Öğretmen ilgili kutucuğu işaretler.

Geliştirilmeli (0-8)

İyi (9-14)

Çok İyi (15-20)

Mükemmel (21-24)

☐☐☐☐

Hazırlayan: .....

Bu bölüme sınıfınızın ilgili kazanıma yönelik genel durumuna ilişkin gözlem ve izlenimlerinizi, öğrencilerinizin bu kazanımla ilgili öğrenme eksikliklerini ve bu eksikliklerin giderilmesi amacıyla yaptığınız/yapmayı planladığınız faaliyetleri not edebilirsiniz.

No	Adı - Soyadı	Toplam Puan	Değerlendirme
1			
2			
3			
4			
5			
6			
7			
8			
9			
10			
11			
12			
13			
14			
15			
16			
17			
18			
19			
20			
21			
22			
23			
24			
25			
26			
27			
28			
29			
30			
31			
32			
33			
34			
35			

Hazırlayan: .....