

Adı:

Soyadı:

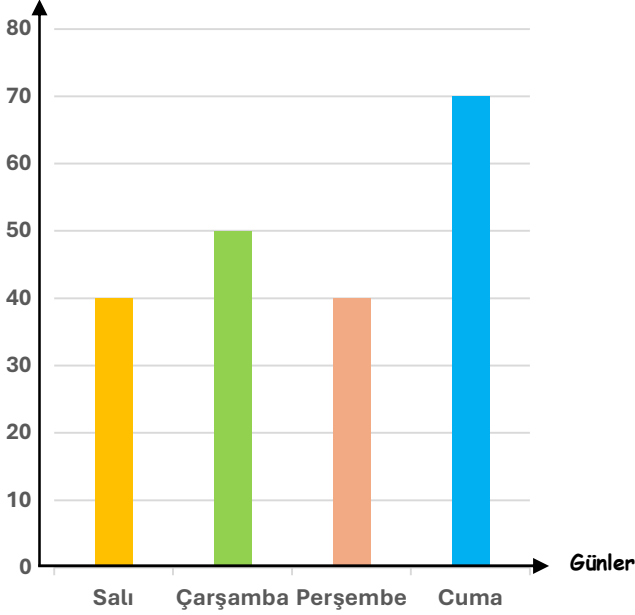
Numarası:

MATEMATİK

4.
SINIF

Aşağıdaki sütun grafiklerine göre verilen soruları cevaplayalım.

Satılan Su Sayısı



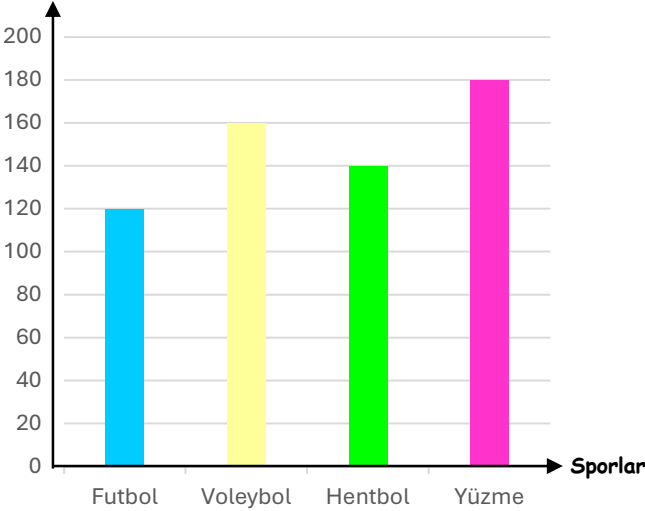
1- Salı ve cuma günü satılan toplam su sayısı kaç tanedir?

2- Cuma günü satılan su miktarı salı gününe göre kaç fazladır?

3- Dört günde toplam kaç su satılmıştır?

4- Bakkalda en az ve en çok su satılan günler hangileridir?

Öğrenci Sayısı



1- Voleybol ve hentbola giden öğrenci sayısının toplamı kaçtır?

2- Bu okulda toplam kaç öğrenci spora gitmiştir?

3- Yüzmeye gidenler futbola gidenlerden kaç kişi fazladır?

4- En az ve en çok gidilen spor hangileridir?

Adı:

Soyadı:

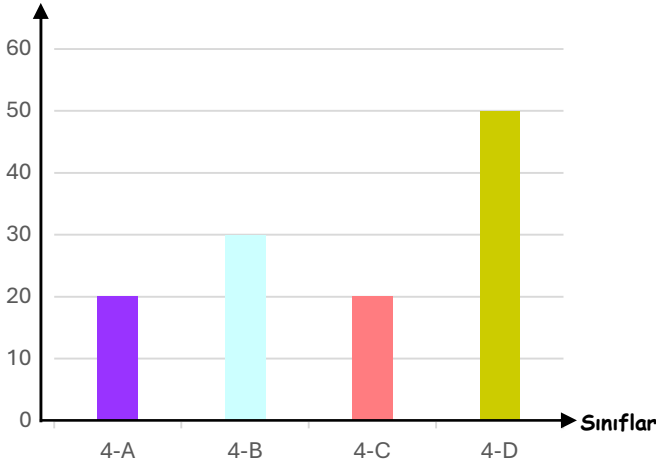
Numarası:

MATEMATİK

4.
SINIF

Aşağıdaki sütun grafiklerine göre verilen soruları cevaplayalım.

Öğrenci Sayısı

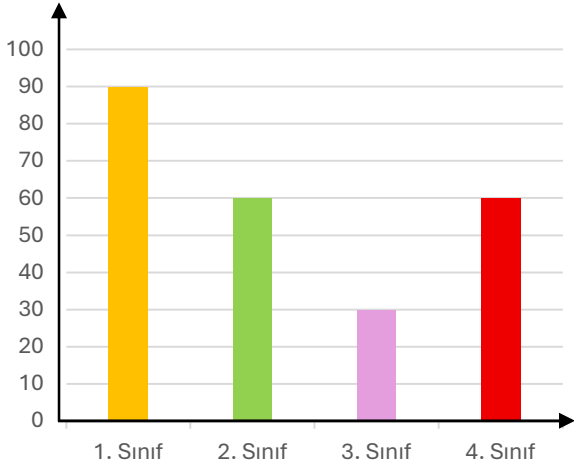


1- Hangi sınıfın öğrenci sayısı en azdır?

2- Hangi sınıfların öğrenci sayıları eşittir?

3- 4B sınıfının öğrenci sayısı 4D sınıfından kaç azdır?

4- Okuldaki 4. Sınıf öğrenci sayıları toplamı kaçtır?



1- Hangi sınıflar en fazla kitap okumuştur?

2- En az kitap okuyan sınıflar hangisidir?

3- Hangi sınıfların okuduğu kitap sayısı toplamı 90'dan 30 fazladır?

4- Hangi sınıflar eşit sayıda kitap okumuştur?