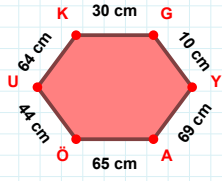
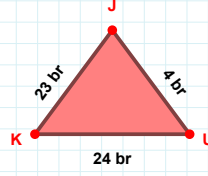


SORU: Aşağıdaki geometrik şekillerle ilgili soruları cevaplayınız.



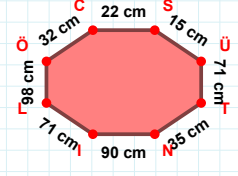
|YA| kaç cm'dir?

- ☐ 68 cm  
☐ 69 cm  
☐ 70 cm



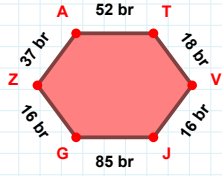
24 br hangi kenara aittir?

Kenar: .....



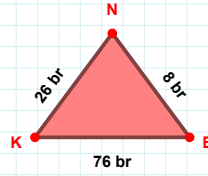
15 cm hangi kenara aittir?

Kenar: .....



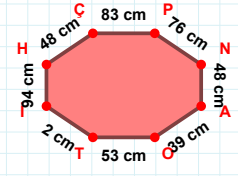
52 br hangi kenara aittir?

Kenar: .....



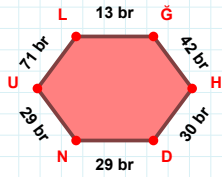
76 br hangi kenara aittir?

Kenar: .....



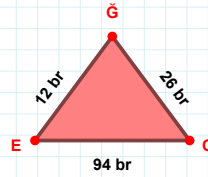
AO kenarı hangi şeklin kenarıdır?

- ☐ Üçgen  
☐ Kare  
☐ Dikdörtgen



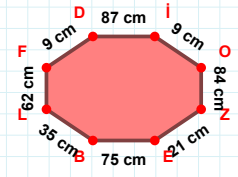
|ĞH| kaç br'dir?

- ☐ 41 br  
☐ 42 br  
☐ 43 br



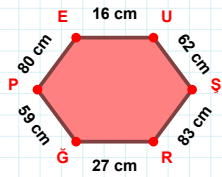
EO kenarı hangi şeklin kenarıdır?

- ☐ Üçgen  
☐ Kare  
☐ Dikdörtgen



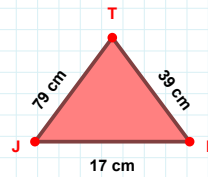
|OZ| kaç cm'dir?

- ☐ 83 cm  
☐ 84 cm  
☐ 85 cm



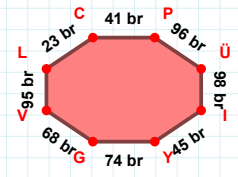
80 cm hangi kenara aittir?

Kenar: .....



39 cm hangi kenara aittir?

- ☐ XY kenarı  
☐ TJ kenarı  
☐ JI kenarı



|PÜ| + |VL| = ....

Cevap: ..... br

SORU: Aşağıdaki geometrik şekillerle ilgili soruları cevaplayınız.

$|MJ| + |JD| = \dots$   
Cevap: ..... br

$|LF|$  kaç cm'dir?  
☐ 25 cm  
☐ 26 cm  
☐ 27 cm

$|ÇT|$  kaç br'dir?  
☐ 57 br  
☐ 58 br  
☐ 59 br

BŞ kenarı hangi şeklin kenarıdır?  
☐ Üçgen  
☐ Kare  
☐ Dikdörtgen

$|BK| + |RB| = \dots$   
Cevap: ..... cm

58 cm hangi kenara aittir?  
☐ VD kenarı  
☐ FV kenarı  
☐ DF kenarı

22 br hangi kenara aittir?  
☐ BŞ kenarı  
☐ OB kenarı  
☐ OE kenarı

$|Nİ| + |İÖ| = \dots$   
Cevap: ..... cm

GU kenarı hangi şeklin kenarıdır?  
☐ Üçgen  
☐ Kare  
☐ Dikdörtgen

94 cm hangi kenara aittir?  
Kenar: .....

$|VG| + |SS| = \dots$   
Cevap: ..... br

$|VU| + |UB| = \dots$   
Cevap: ..... br

## SÜREÇ ODAKLI DEĞERLENDİRME ÖLÇEĞİ

Doğru Sayısı: ..... / 24

Öğretmen ilgili kutucuğu işaretler.

Geliştirilmeli (0-8)

İyi (9-14)

Çok İyi (15-20)

Mükemmel (21-24)

☐☐☐☐

Hazırlayan: .....

Bu bölüme sınıfınızın ilgili kazanıma yönelik genel durumuna ilişkin gözlem ve izlenimlerinizi, öğrencilerinizin bu kazanımla ilgili öğrenme eksikliklerini ve bu eksikliklerin giderilmesi amacıyla yaptığınız/yapmayı planladığınız faaliyetleri not edebilirsiniz.

No	Adı - Soyadı	Toplam Puan	Değerlendirme
1			
2			
3			
4			
5			
6			
7			
8			
9			
10			
11			
12			
13			
14			
15			
16			
17			
18			
19			
20			
21			
22			
23			
24			
25			
26			
27			
28			
29			
30			
31			
32			
33			
34			
35			

Hazırlayan: .....