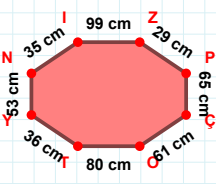
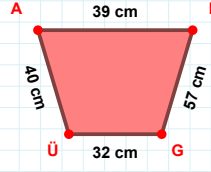


SORU: Aşağıdaki geometrik şekillerle ilgili soruları cevaplayınız.



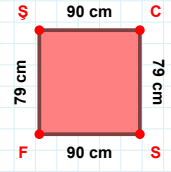
|ÇO| kaç cmdir?

- ☐ 60 cm
☐ 61 cm
☐ 62 cm



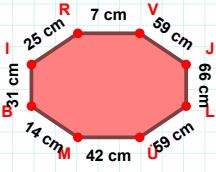
ÜA kenarı hangi şeklin kenarıdır?

- ☐ Üçgen
☐ Kare
☐ Dikdörtgen



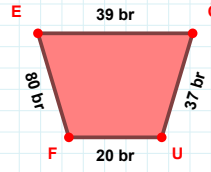
|ŞC| kaç cmdir?

- ☐ 89 cm
☐ 90 cm
☐ 91 cm



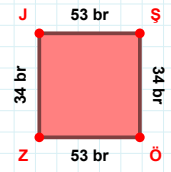
|MB| + |IR| =

Cevap: cm



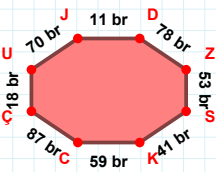
80 br hangi kenara aittir?

Kenar:



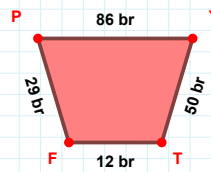
|JS| + |ŞÖ| =

Cevap: br



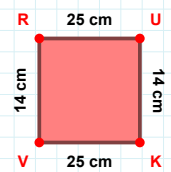
|UJ| kaç brdir?

- ☐ 69 br
☐ 70 br
☐ 71 br



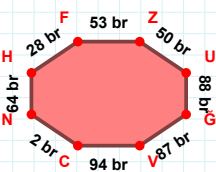
|YT| + |FP| =

Cevap: br



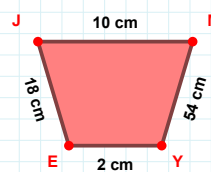
25 cm hangi kenara aittir?

Kenar:



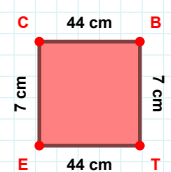
88 br hangi kenara aittir?

Kenar:



|JM| kaç cmdir?

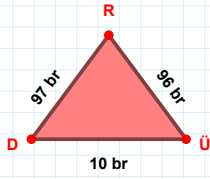
- ☐ 9 cm
☐ 10 cm
☐ 11 cm



7 cm hangi kenara aittir?

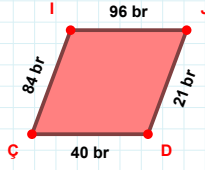
- ☐ BT kenarı
☐ TE kenarı
☐ EB kenarı

SORU: Aşağıdaki geometrik şekillerle ilgili soruları cevaplayınız.



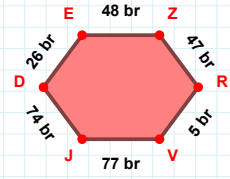
RD kenarı hangi şeklin kenarıdır?

- ☐ Üçgen
☐ Kare
☐ Dikdörtgen

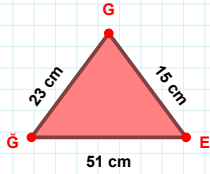


84 br hangi kenara aittir?

- ☐ ÇI kenarı
☐ ID kenarı
☐ JD kenarı

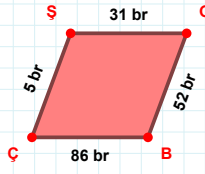
 $|DE| + |JD| = \dots$

Cevap: br



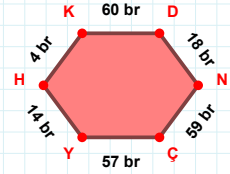
GE kenarı hangi şeklin kenarıdır?

- ☐ Üçgen
☐ Kare
☐ Dikdörtgen



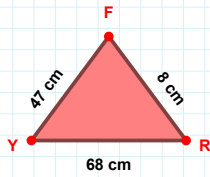
GB kenarı hangi şeklin kenarıdır?

- ☐ Üçgen
☐ Kare
☐ Dikdörtgen



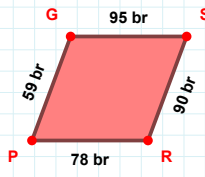
4 br hangi kenara aittir?

- ☐ NH kenarı
☐ DN kenarı
☐ NÇ kenarı



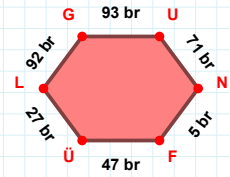
RF kenarı hangi şeklin kenarıdır?

- ☐ Üçgen
☐ Kare
☐ Dikdörtgen



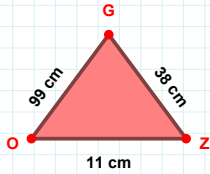
59 br hangi kenara aittir?

- ☐ PS kenarı
☐ GS kenarı
☐ SR kenarı



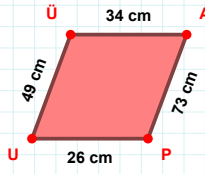
92 br hangi kenara aittir?

- ☐ LG kenarı
☐ FL kenarı
☐ FÜ kenarı



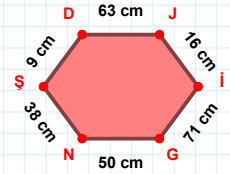
38 cm hangi kenara aittir?

Kenar:



49 cm hangi kenara aittir?

- ☐ PÜ kenarı
☐ AP kenarı
☐ ÜA kenarı



63 cm hangi kenara aittir?

Kenar:

SÜREÇ ODAKLI DEĞERLENDİRME ÖLÇEĞİ

Doğru Sayısı: / 24

Öğretmen ilgili kutucuğu işaretler.

Geliştirilmeli (0-8)

İyi (9-14)

Çok İyi (15-20)

Mükemmel (21-24)

☐
☐
☐
☐

Hazırlayan:

Bu bölüme sınıfınızın ilgili kazanıma yönelik genel durumuna ilişkin gözlem ve izlenimlerinizi, öğrencilerinizin bu kazanımla ilgili öğrenme eksikliklerini ve bu eksikliklerin giderilmesi amacıyla yaptığınız/yapmayı planladığınız faaliyetleri not edebilirsiniz.

No	Adı - Soyadı	Toplam Puan	Değerlendirme
1			
2			
3			
4			
5			
6			
7			
8			
9			
10			
11			
12			
13			
14			
15			
16			
17			
18			
19			
20			
21			
22			
23			
24			
25			
26			
27			
28			
29			
30			
31			
32			
33			
34			
35			

Hazırlayan: