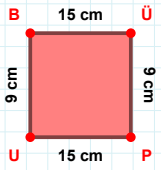
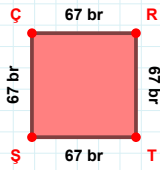


SORU: Aşağıdaki geometrik şekillerle ilgili soruları cevaplayınız.



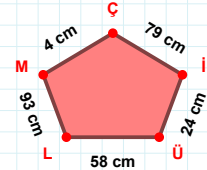
BÜ kenarı hangi şeklin kenarıdır?

- ☐ Üçgen  
☐ Kare  
☐ Dikdörtgen



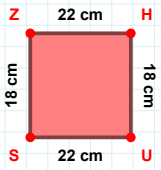
67 br hangi kenara aittir?

Kenar: .....

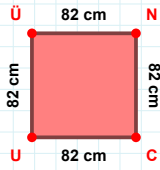


ML kenarı hangi şeklin kenarıdır?

- ☐ Üçgen  
☐ Kare  
☐ Dikdörtgen

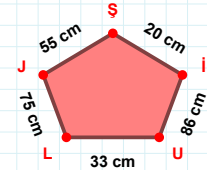
 $|HU| + |SZ| = \dots$ 

Cevap: ..... cm

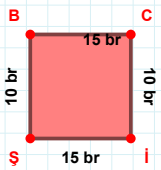


82 cm hangi kenara aittir?

Kenar: .....

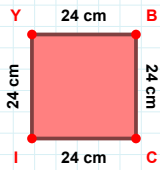
 $|SJ| + |JL| = \dots$ 

Cevap: ..... cm



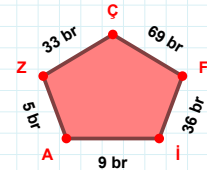
10 br hangi kenara aittir?

- ☐ Bİ kenarı  
☐ BC kenarı  
☐ ŞB kenarı



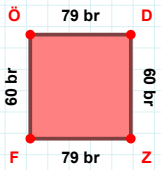
İY kenarı hangi şeklin kenarıdır?

- ☐ Üçgen  
☐ Kare  
☐ Dikdörtgen



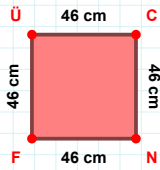
ZA kenarı hangi şeklin kenarıdır?

- ☐ Üçgen  
☐ Kare  
☐ Dikdörtgen



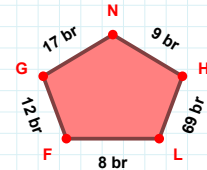
DZ kenarı hangi şeklin kenarıdır?

- ☐ Üçgen  
☐ Kare  
☐ Dikdörtgen



46 cm hangi kenara aittir?

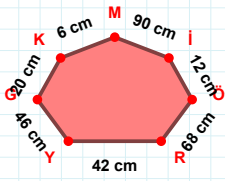
- ☐ FÜ kenarı  
☐ ÜC kenarı  
☐ FC kenarı



9 br hangi kenara aittir?

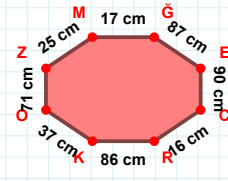
- ☐ LN kenarı  
☐ GF kenarı  
☐ NG kenarı

SORU: Aşağıdaki geometrik şekillerle ilgili soruları cevaplayınız.

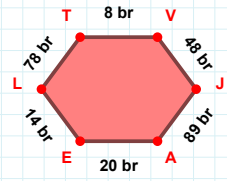


GY kenarı hangi şeklin kenarıdır?

- ☐ Üçgen  
☐ Kare  
☐ Dikdörtgen

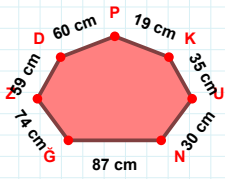
 $|RK| + |ĞE| = \dots$ 

Cevap: ..... cm

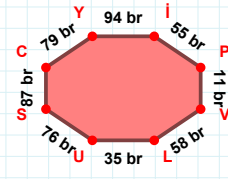


8 br hangi kenara aittir?

Kenar: .....

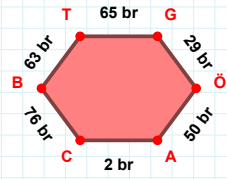
 $|UK| + |PD| = \dots$ 

Cevap: ..... cm



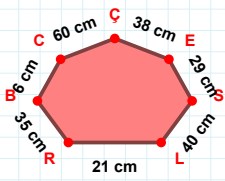
SC kenarı hangi şeklin kenarıdır?

- ☐ Üçgen  
☐ Kare  
☐ Dikdörtgen



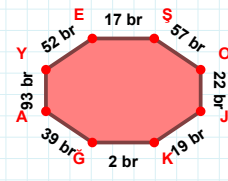
ÖA kenarı hangi şeklin kenarıdır?

- ☐ Üçgen  
☐ Kare  
☐ Dikdörtgen



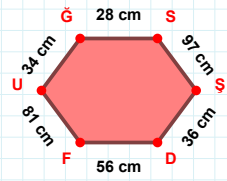
29 cm hangi kenara aittir?

Kenar: .....



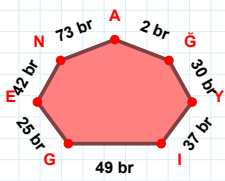
2 br hangi kenara aittir?

Kenar: .....

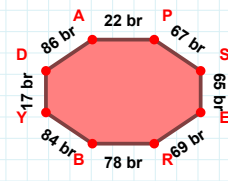


FU kenarı hangi şeklin kenarıdır?

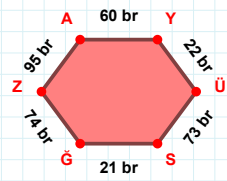
- ☐ Üçgen  
☐ Kare  
☐ Dikdörtgen

 $|IY| + |EG| = \dots$ 

Cevap: ..... br

 $|SE| + |DA| = \dots$ 

Cevap: ..... br



AY kenarı hangi şeklin kenarıdır?

- ☐ Üçgen  
☐ Kare  
☐ Dikdörtgen

## SÜREÇ ODAKLI DEĞERLENDİRME ÖLÇEĞİ

Doğru Sayısı: ..... / 24

Öğretmen ilgili kutucuğu işaretler.

Geliştirilmeli (0-8)

İyi (9-14)

Çok İyi (15-20)

Mükemmel (21-24)

☐☐☐☐

Hazırlayan: .....

Bu bölüme sınıfınızın ilgili kazanıma yönelik genel durumuna ilişkin gözlem ve izlenimlerinizi, öğrencilerinizin bu kazanımla ilgili öğrenme eksikliklerini ve bu eksikliklerin giderilmesi amacıyla yaptığınız/yapmayı planladığınız faaliyetleri not edebilirsiniz.

No	Adı - Soyadı	Toplam Puan	Değerlendirme
1			
2			
3			
4			
5			
6			
7			
8			
9			
10			
11			
12			
13			
14			
15			
16			
17			
18			
19			
20			
21			
22			
23			
24			
25			
26			
27			
28			
29			
30			
31			
32			
33			
34			
35			

Hazırlayan: .....