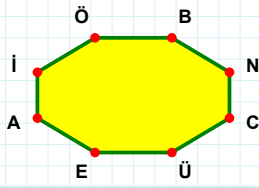
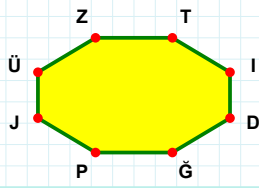


SORU: Aşağıdaki şekillerde verilen kenarlardan şekle ait olmayanı bulunuz.



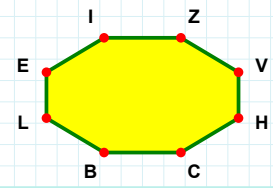
Şekle ait olmayan kenar/kenarları işaretleyelim.

- ☐ ÜA kenarı
- ☐ BC kenarı
- ☐ NE kenarı



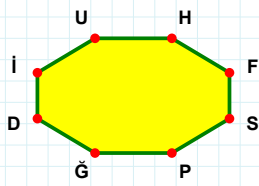
Şekle ait olmayan kenar/kenarları işaretleyelim.

- ☐ TP kenarı
- ☐ ÜZ kenarı
- ☐ ZI kenarı



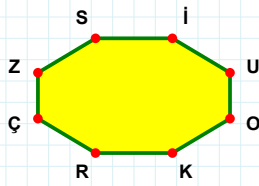
Şekle ait olmayan kenar/kenarları işaretleyelim.

- ☐ ZV kenarı
- ☐ CL kenarı
- ☐ CB kenarı



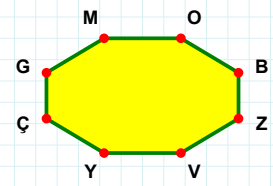
Şekle ait olmayan kenar/kenarları işaretleyelim.

- ☐ FS kenari
- ☐ FP kenari
- ☐ HP kenari



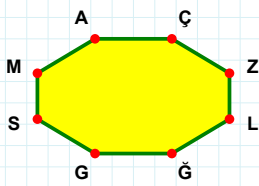
Şekle ait olmayan kenar/kenarları işaretleyelim.

- ☐ ÇZ kenarı
- ☐ Sİ kenarı
- ☐ SR kenarı



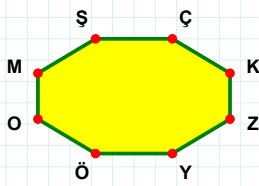
Şekle ait olmayan kenar/kenarları işaretleyelim.

- ☐ MY kenarı
- ☐ BÇ kenarı
- ☐ GM kenarı



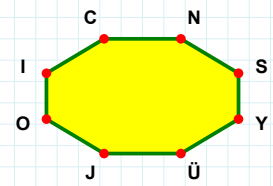
Şekle ait olmayan kenar/kenarları işaretleyelim.

- ☐ AÇ kenarı
- ☐ LG kenarı
- ☐ ZL kenarı



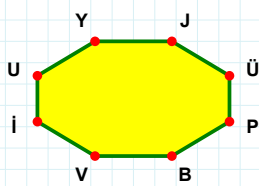
Şekle ait olmayan kenar/kenarları işaretleyelim.

- ☐ KY kenarı
- ☐ MŞ kenarı
- ☐ KZ kenarı



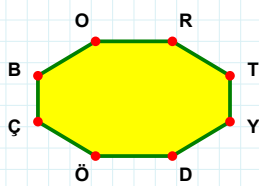
Şekle ait olmayan kenar/kenarları işaretleyelim.

- ☐ SI kenarı
- ☐ CY kenarı
- ☐ YI kenarı



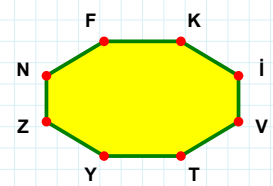
Şekle ait olmayan kenar/kenarları işaretleyelim.

- ☐ BV kenarı
- ☐ JB kenarı
- ☐ iU kenarı



**Şekle ait olmayan kenar/kenarları
işaretleyelim.**

- ☐ ÖÇ kenarı
- ☐ YÇ kenarı
- ☐ DB kenarı



**Şekle ait olmayan kenar/kenarları
işaretleyelim.**

- ☐ YZ kenarı
- ☐ KV kenarı
- ☐ KN kenarı

SORU: Aşağıdaki şekillerde verilen kenarlardan şekle ait olmayanı bulunuz.

Şekle ait olmayan kenar/kenarları işaretleyelim.

☐ ÇJ kenarı
☐ LJ kenarı
☐ ÇG kenarı

Şekle ait olmayan kenar/kenarları işaretleyelim.

☐ RC kenarı
☐ CG kenarı
☐ LO kenarı

Şekle ait olmayan kenar/kenarları işaretleyelim.

☐ LU kenarı
☐ CH kenarı
☐ İU kenarı

Şekle ait olmayan kenar/kenarları işaretleyelim.

☐ JZ kenarı
☐ ZL kenarı
☐ UÇ kenarı

Şekle ait olmayan kenar/kenarları işaretleyelim.

☐ ÖT kenarı
☐ HT kenarı
☐ ÖR kenarı

Şekle ait olmayan kenar/kenarları işaretleyelim.

☐ EÜ kenarı
☐ ST kenarı
☐ TJ kenarı

Şekle ait olmayan kenar/kenarları işaretleyelim.

☐ KÇ kenarı
☐ SK kenarı
☐ MU kenarı

Şekle ait olmayan kenar/kenarları işaretleyelim.

☐ Pİ kenarı
☐ MP kenarı
☐ YJ kenarı

Şekle ait olmayan kenar/kenarları işaretleyelim.

☐ OÜ kenarı
☐ GZ kenarı
☐ LA kenarı

Şekle ait olmayan kenar/kenarları işaretleyelim.

☐ MK kenarı
☐ EN kenarı
☐ FN kenarı

Şekle ait olmayan kenar/kenarları işaretleyelim.

☐ İT kenarı
☐ NT kenarı
☐ ŞT kenarı

Şekle ait olmayan kenar/kenarları işaretleyelim.

☐ HJ kenarı
☐ AH kenarı
☐ AJ kenarı

SÜREÇ ODAKLI DEĞERLENDİRME ÖLÇEĞİ

Doğru Sayısı: / 24

Öğretmen ilgili kutucuğu işaretler.

Geliştirilmeli (0-8)	İyi (9-14)	Çok İyi (15-20)	Mükemmel (21-24)
<input type="checkbox"/>	<input type="checkbox"/>	<input type="checkbox"/>	<input type="checkbox"/>

Hazırlayan:

Bu bölüme sınıfınızın ilgili kazanıma yönelik genel durumuna ilişkin gözlem ve izlenimlerinizi, öğrencilerinizin bu kazanımla ilgili öğrenme eksikliklerini ve bu eksikliklerin giderilmesi amacıyla yaptığınız/yapmayı planladığınız faaliyetleri not edebilirsiniz.

No	Adı - Soyadı	Toplam Puan	Değerlendirme
1			
2			
3			
4			
5			
6			
7			
8			
9			
10			
11			
12			
13			
14			
15			
16			
17			
18			
19			
20			
21			
22			
23			
24			
25			
26			
27			
28			
29			
30			
31			
32			
33			
34			
35			

Hazırlayan: