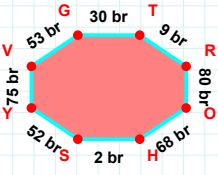
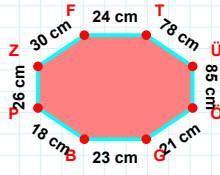


SORU: Aşağıdaki geometrik şekillerle ilgili soruları cevaplayınız.



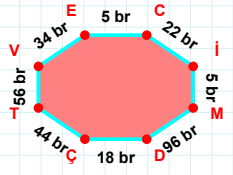
|VG| kaç brdir?

- ☐ 52 br
☐ 53 br
☐ 54 br



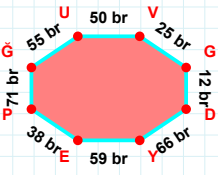
30 cm hangi kenara aittir?

- ☐ ÖZ kenarı
☐ FT kenarı
☐ ÜÖ kenarı



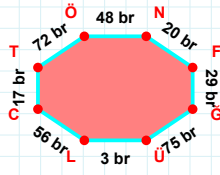
56 br hangi kenara aittir?

Kenar:



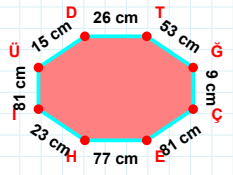
|GÜ| kaç brdir?

- ☐ 54 br
☐ 55 br
☐ 56 br



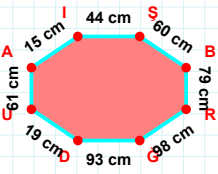
|CT| + |LC| =

Cevap: br



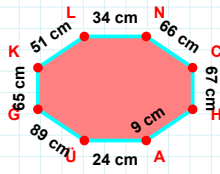
|ÜD| + |EH| =

Cevap: cm



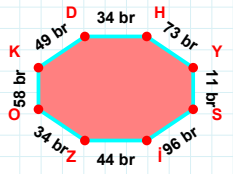
|RG| kaç cmdir?

- ☐ 97 cm
☐ 98 cm
☐ 99 cm



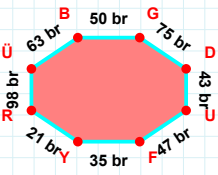
|ÜG| + |HA| =

Cevap: cm



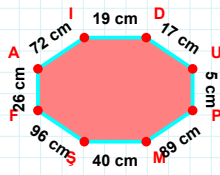
|YS| + |HY| =

Cevap: br



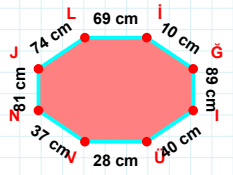
|DU| + |YR| =

Cevap: br



72 cm hangi kenara aittir?

- ☐ UI kenarı
☐ PM kenarı
☐ AI kenarı



74 cm hangi kenara aittir?

- ☐ JÜ kenarı
☐ İG kenarı
☐ NJ kenarı

SORU: Aşağıdaki geometrik şekillerle ilgili soruları cevaplayınız.

65 br hangi kenara aittir?

Kenar:

16 cm hangi kenara aittir?

☐ GU kenarı
☐ UY kenarı
☐ IR kenarı

|ZY| kaç brdir?

☐ 69 br
☐ 70 br
☐ 71 br

99 br hangi kenara aittir?

☐ VK kenarı
☐ VG kenarı
☐ SD kenarı

83 cm hangi kenara aittir?

☐ GT kenarı
☐ HK kenarı
☐ KU kenarı

74 cm hangi kenara aittir?

☐ ZY kenarı
☐ ZN kenarı
☐ SZ kenarı

74 cm hangi kenara aittir?

Kenar:

81 cm hangi kenara aittir?

☐ DÜ kenarı
☐ ĞD kenarı
☐ GÜ kenarı

|EK| kaç brdir?

☐ 12 br
☐ 13 br
☐ 14 br

14 br hangi kenara aittir?

☐ LI kenarı
☐ HD kenarı
☐ IÜ kenarı

61 br hangi kenara aittir?

☐ IR kenarı
☐ ŞO kenarı
☐ VŞ kenarı

86 cm hangi kenara aittir?

☐ RM kenarı
☐ MN kenarı
☐ VN kenarı

SÜREÇ ODAKLI DEĞERLENDİRME ÖLÇEĞİ

Doğru Sayısı: / 24

Öğretmen ilgili kutucuğu işaretler.

Geliştirilmeli (0-8)

İyi (9-14)

Çok İyi (15-20)

Mükemmel (21-24)

☐
☐
☐
☐

Hazırlayan:

Bu bölüme sınıfınızın ilgili kazanıma yönelik genel durumuna ilişkin gözlem ve izlenimlerinizi, öğrencilerinizin bu kazanımla ilgili öğrenme eksikliklerini ve bu eksikliklerin giderilmesi amacıyla yaptığınız/yapmayı planladığınız faaliyetleri not edebilirsiniz.

No	Adı - Soyadı	Toplam Puan	Değerlendirme
1			
2			
3			
4			
5			
6			
7			
8			
9			
10			
11			
12			
13			
14			
15			
16			
17			
18			
19			
20			
21			
22			
23			
24			
25			
26			
27			
28			
29			
30			
31			
32			
33			
34			
35			

Hazırlayan: