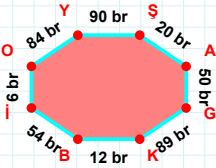
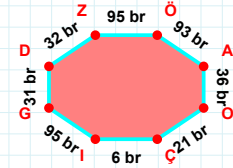


**SORU:** Aşağıdaki geometrik şekillerle ilgili soruları cevaplayınız.



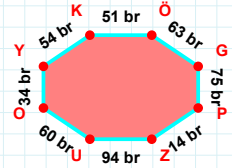
12 br hangi kenara aittir?

Kenar: .....



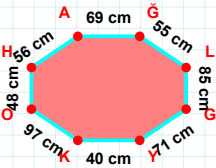
32 br hangi kenara aittir?

- ☐ GÇ kenarı  
☐ IG kenarı  
☐ DZ kenarı



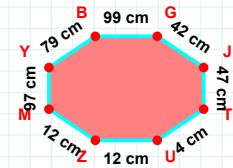
$|UO| + |GP| = \dots$

Cevap: ..... br



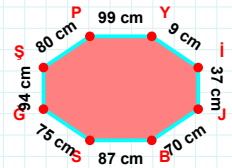
40 cm hangi kenara aittir?

Kenar: .....



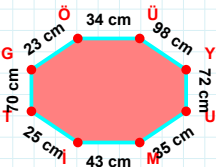
$|YB|$  kaç cm'dir?

- ☐ 78 cm  
☐ 79 cm  
☐ 80 cm



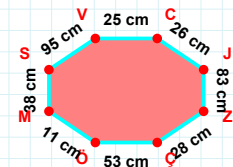
80 cm hangi kenara aittir?

- ☐ SĞ kenarı  
☐ PB kenarı  
☐ BS kenarı



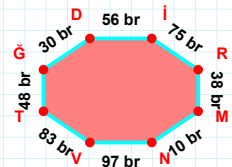
$|UM|$  kaç cm'dir?

- ☐ 34 cm  
☐ 35 cm  
☐ 36 cm



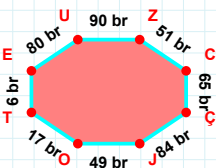
53 cm hangi kenara aittir?

Kenar: .....



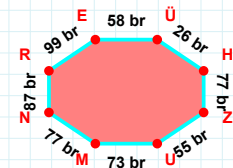
30 br hangi kenara aittir?

- ☐ TĞ kenarı  
☐ DT kenarı  
☐ DI kenarı



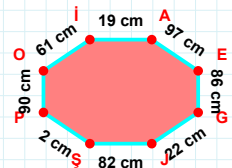
80 br hangi kenara aittir?

- ☐ TE kenarı  
☐ OC kenarı  
☐ EU kenarı



$|ZU|$  kaç br'dir?

- ☐ 54 br  
☐ 55 br  
☐ 56 br



$|JS| + |EG| = \dots$

Cevap: ..... cm

**SORU:** Aşağıdaki geometrik şekillerle ilgili soruları cevaplayınız.

**|HL| kaç brdir?**

☐ 76 br  
☐ 77 br  
☐ 78 br

**27 cm hangi kenara aittir?**

Kenar: .....

**36 cm hangi kenara aittir?**

Kenar: .....

**56 br hangi kenara aittir?**

☐ FŞ kenarı  
☐ LS kenarı  
☐ PS kenarı

**33 cm hangi kenara aittir?**

☐ YH kenarı  
☐ EF kenarı  
☐ NH kenarı

**11 br hangi kenara aittir?**

Kenar: .....

**41 br hangi kenara aittir?**

Kenar: .....

**72 cm hangi kenara aittir?**

Kenar: .....

**|VL| kaç cmdir?**

☐ 90 cm  
☐ 91 cm  
☐ 92 cm

**21 br hangi kenara aittir?**

☐ İÖ kenarı  
☐ TG kenarı  
☐ CĞ kenarı

**|BM| + |ÜV| = ....**

Cevap: ..... cm

**|SZ| kaç brdir?**

☐ 20 br  
☐ 21 br  
☐ 22 br

SÜREÇ ODAKLI DEĞERLENDİRME ÖLÇEĞİ

Doğru Sayısı: ..... / 24

Öğretmen ilgili kutucuğu işaretler.

Geliştirilmeli (0-8)	İyi (9-14)	Çok İyi (15-20)	Mükemmel (21-24)
<input type="checkbox"/>	<input type="checkbox"/>	<input type="checkbox"/>	<input type="checkbox"/>

Hazırlayan: .....

**Bu bölüme sınıfınızın ilgili kazanıma yönelik genel durumuna ilişkin gözlem ve izlenimlerinizi, öğrencilerinizin bu kazanımla ilgili öğrenme eksikliklerini ve bu eksikliklerin giderilmesi amacıyla yaptığınız/yapmayı planladığınız faaliyetleri not edebilirsiniz.**

No	Adı - Soyadı	Toplam Puan	Değerlendirme
1			
2			
3			
4			
5			
6			
7			
8			
9			
10			
11			
12			
13			
14			
15			
16			
17			
18			
19			
20			
21			
22			
23			
24			
25			
26			
27			
28			
29			
30			
31			
32			
33			
34			
35			

**Hazırlayan:** ..... ..