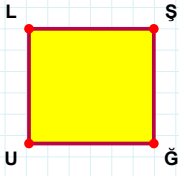
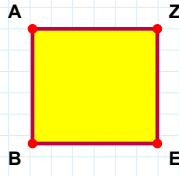


SORU: Aşağıdaki şekillerde verilen kenarlardan şekle ait olmayanı bulunuz.



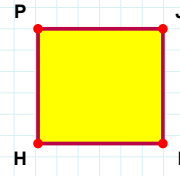
Şekle ait olmayan kenar/kenarları işaretleyelim.

- ☐ UL kenarı
☐ LŞ kenarı
☐ ŞÜ kenarı



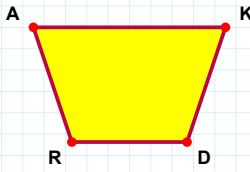
Şekle ait olmayan kenar/kenarları işaretleyelim.

- ☐ ZB kenarı
☐ AE kenarı
☐ EB kenarı



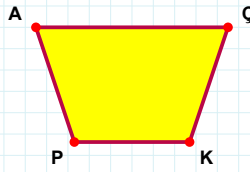
Şekle ait olmayan kenar/kenarları işaretleyelim.

- ☐ PI kenarı
☐ IH kenarı
☐ JH kenarı



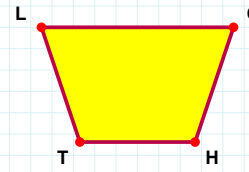
Şekle ait olmayan kenar/kenarları işaretleyelim.

- ☐ DR kenarı
☐ AD kenarı
☐ RA kenarı



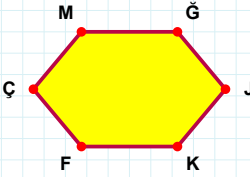
Şekle ait olmayan kenar/kenarları işaretleyelim.

- ☐ AÇ kenarı
☐ ÇP kenarı
☐ AK kenarı



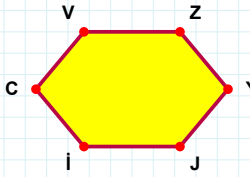
Şekle ait olmayan kenar/kenarları işaretleyelim.

- ☐ TL kenarı
☐ LH kenarı
☐ HT kenarı



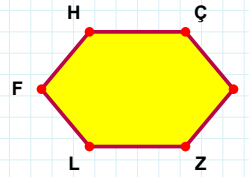
Şekle ait olmayan kenar/kenarları işaretleyelim.

- ☐ ÇM kenarı
☐ ĞF kenarı
☐ MK kenarı



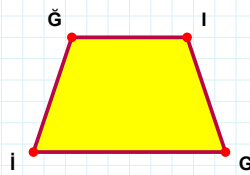
Şekle ait olmayan kenar/kenarları işaretleyelim.

- ☐ İC kenarı
☐ VZ kenarı
☐ VY kenarı



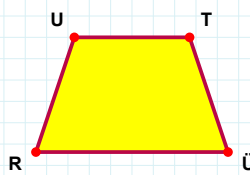
Şekle ait olmayan kenar/kenarları işaretleyelim.

- ☐ ÇL kenarı
☐ ÇĞ kenarı
☐ HZ kenarı



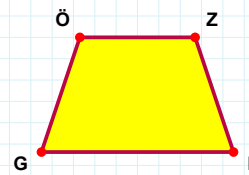
Şekle ait olmayan kenar/kenarları işaretleyelim.

- ☐ ĞĞ kenarı
☐ Ğİ kenarı
☐ İİ kenarı



Şekle ait olmayan kenar/kenarları işaretleyelim.

- ☐ TR kenarı
☐ UÜ kenarı
☐ TÜ kenarı



Şekle ait olmayan kenar/kenarları işaretleyelim.

- ☐ GÖ kenarı
☐ ZG kenarı
☐ ZN kenarı

SORU: Aşağıdaki şekillerde verilen kenarlardan şekle ait olmayanı bulunuz.

Şekle ait olmayan kenar/kenarları işaretleyelim.

☐ IN kenarı
☐ BI kenarı
☐ CO kenarı

Şekle ait olmayan kenar/kenarları işaretleyelim.

☐ İR kenarı
☐ DA kenarı
☐ İM kenarı

Şekle ait olmayan kenar/kenarları işaretleyelim.

☐ GG kenarı
☐ GA kenarı
☐ AJ kenarı

Şekle ait olmayan kenar/kenarları işaretleyelim.

☐ VB kenarı
☐ BG kenarı
☐ BE kenarı

Şekle ait olmayan kenar/kenarları işaretleyelim.

☐ UI kenarı
☐ IK kenarı
☐ ÇK kenarı

Şekle ait olmayan kenar/kenarları işaretleyelim.

☐ KB kenarı
☐ KH kenarı
☐ BF kenarı

Şekle ait olmayan kenar/kenarları işaretleyelim.

☐ JY kenarı
☐ ÇD kenarı
☐ ÇY kenarı

Şekle ait olmayan kenar/kenarları işaretleyelim.

☐ UL kenarı
☐ ÇU kenarı
☐ LP kenarı

Şekle ait olmayan kenar/kenarları işaretleyelim.

☐ VG kenarı
☐ GÖ kenarı
☐ RG kenarı

Şekle ait olmayan kenar/kenarları işaretleyelim.

☐ ÖL kenarı
☐ CU kenarı
☐ CÖ kenarı

Şekle ait olmayan kenar/kenarları işaretleyelim.

☐ ŞF kenarı
☐ FJ kenarı
☐ JV kenarı

Şekle ait olmayan kenar/kenarları işaretleyelim.

☐ DŞ kenarı
☐ DJ kenarı
☐ ŞÖ kenarı

SÜREÇ ODAKLI DEĞERLENDİRME ÖLÇEĞİ

Doğru Sayısı: / 24

Öğretmen ilgili kutucuğu işaretler.

Geliştirilmeli (0-8)

İyi (9-14)

Çok İyi (15-20)

Mükemmel (21-24)



Hazırlayan:

Bu bölüme sınıfınızın ilgili kazanıma yönelik genel durumuna ilişkin gözlem ve izlenimlerinizi, öğrencilerinizin bu kazanımla ilgili öğrenme eksikliklerini ve bu eksikliklerin giderilmesi amacıyla yaptığınız/yapmayı planladığınız faaliyetleri not edebilirsiniz.

No	Adı - Soyadı	Toplam Puan	Değerlendirme
1			
2			
3			
4			
5			
6			
7			
8			
9			
10			
11			
12			
13			
14			
15			
16			
17			
18			
19			
20			
21			
22			
23			
24			
25			
26			
27			
28			
29			
30			
31			
32			
33			
34			
35			

Hazırlayan: