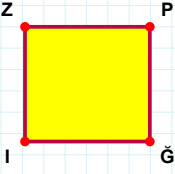
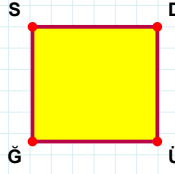


**SORU:** Aşağıdaki şekillerde verilen kenarlardan şekle ait olmayanı bulunuz.



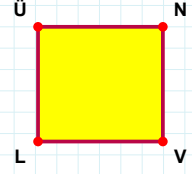
Şekle ait olmayan kenar/kenarları işaretleyelim.

- ☐ PI kenarı  
☐ Ğİ kenarı  
☐ ZĞ kenarı



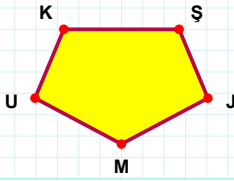
Şekle ait olmayan kenar/kenarları işaretleyelim.

- ☐ ĞS kenarı  
☐ SÜ kenarı  
☐ DÜ kenarı



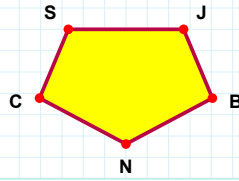
Şekle ait olmayan kenar/kenarları işaretleyelim.

- ☐ ÜN kenarı  
☐ LÜ kenarı  
☐ NL kenarı



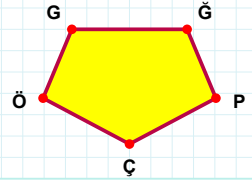
Şekle ait olmayan kenar/kenarları işaretleyelim.

- ☐ ŞM kenarı  
☐ KJ kenarı  
☐ KŞ kenarı



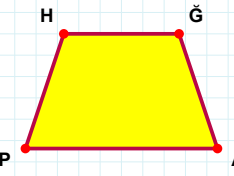
Şekle ait olmayan kenar/kenarları işaretleyelim.

- ☐ BN kenarı  
☐ SJ kenarı  
☐ SN kenarı



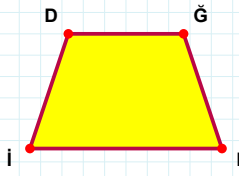
Şekle ait olmayan kenar/kenarları işaretleyelim.

- ☐ GÇ kenarı  
☐ ĞP kenarı  
☐ ĞÇ kenarı



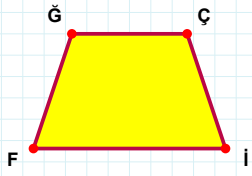
Şekle ait olmayan kenar/kenarları işaretleyelim.

- ☐ HA kenarı  
☐ ĞP kenarı  
☐ HĞ kenarı




Şekle ait olmayan kenar/kenarları işaretleyelim.

- ☐ DP kenarı  
☐ PI kenarı  
☐ DĞ kenarı




Şekle ait olmayan kenar/kenarları işaretleyelim.

- ☐ İF kenarı  
☐ Çİ kenarı  
☐ Ğİ kenarı




Şekle ait olmayan kenar/kenarları işaretleyelim.

- ☐ ZL kenarı  
☐ ZH kenarı  
☐ CL kenarı



Şekle ait olmayan kenar/kenarları işaretleyelim.

- ☐ VT kenarı  
☐ VC kenarı  
☐ IC kenarı



Şekle ait olmayan kenar/kenarları işaretleyelim.

- ☐ EB kenarı  
☐ OY kenarı  
☐ EO kenarı

**SORU:** Aşağıdaki şekillerde verilen kenarlardan şekle ait olmayanı bulunuz.

Şekle ait olmayan kenar/kenarları işaretleyelim.

☐ SZ kenarı  
☐ JE kenarı  
☐ JS kenarı

Şekle ait olmayan kenar/kenarları işaretleyelim.

☐ ŞO kenarı  
☐ TO kenarı  
☐ ĞT kenarı

Şekle ait olmayan kenar/kenarları işaretleyelim.

☐ TĞ kenarı  
☐ Oİ kenarı  
☐ Ğİ kenarı

Şekle ait olmayan kenar/kenarları işaretleyelim.

☐ OT kenarı  
☐ ÜH kenarı  
☐ OH kenarı

Şekle ait olmayan kenar/kenarları işaretleyelim.

☐ ŞA kenarı  
☐ OA kenarı  
☐ ÖO kenarı

Şekle ait olmayan kenar/kenarları işaretleyelim.

☐ TĞ kenarı  
☐ TA kenarı  
☐ Ğİ kenarı

Şekle ait olmayan kenar/kenarları işaretleyelim.

☐ MA kenarı  
☐ AŞ kenarı  
☐ MZ kenarı

Şekle ait olmayan kenar/kenarları işaretleyelim.

☐ SN kenarı  
☐ KJ kenarı  
☐ NK kenarı

Şekle ait olmayan kenar/kenarları işaretleyelim.

☐ LĞ kenarı  
☐ YL kenarı  
☐ OĞ kenarı

Şekle ait olmayan kenar/kenarları işaretleyelim.

☐ ÇZ kenarı  
☐ PZ kenarı  
☐ ZC kenarı

Şekle ait olmayan kenar/kenarları işaretleyelim.

☐ HC kenarı  
☐ GO kenarı  
☐ CO kenarı

Şekle ait olmayan kenar/kenarları işaretleyelim.

☐ FV kenarı  
☐ NE kenarı  
☐ EV kenarı

## SÜREÇ ODAKLI DEĞERLENDİRME ÖLÇEĞİ

Doğru Sayısı: ..... / 24

Öğretmen ilgili kutucuğu işaretler.

Geliştirilmeli (0-8)

İyi (9-14)

Çok İyi (15-20)

Mükemmel (21-24)

☐
☐
☐
☐

Hazırlayan: .....

Bu bölüme sınıfınızın ilgili kazanıma yönelik genel durumuna ilişkin gözlem ve izlenimlerinizi, öğrencilerinizin bu kazanımla ilgili öğrenme eksikliklerini ve bu eksikliklerin giderilmesi amacıyla yaptığınız/yapmayı planladığınız faaliyetleri not edebilirsiniz.

No	Adı - Soyadı	Toplam Puan	Değerlendirme
1			
2			
3			
4			
5			
6			
7			
8			
9			
10			
11			
12			
13			
14			
15			
16			
17			
18			
19			
20			
21			
22			
23			
24			
25			
26			
27			
28			
29			
30			
31			
32			
33			
34			
35			

Hazırlayan: ..... ..