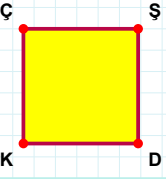
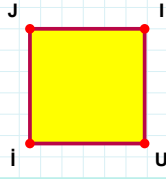


SORU: Aşağıdaki şekillerde verilen kenarlardan şekle ait olmayanı bulunuz.



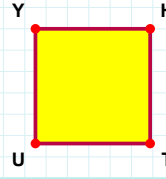
Şekle ait olmayan kenar/kenarları işaretleyelim.

- ☐ DK kenarı
☐ ŞK kenarı
☐ ŞD kenarı



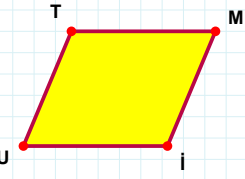
Şekle ait olmayan kenar/kenarları işaretleyelim.

- ☐ JU kenarı
☐ İJ kenarı
☐ İİ kenarı



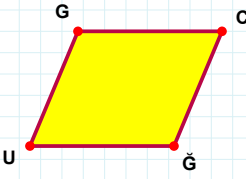
Şekle ait olmayan kenar/kenarları işaretleyelim.

- ☐ HU kenarı
☐ YT kenarı
☐ HT kenarı



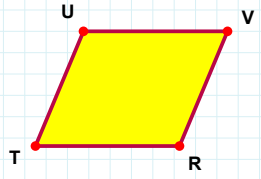
Şekle ait olmayan kenar/kenarları işaretleyelim.

- ☐ MU kenarı
☐ Mİ kenarı
☐ Tİ kenarı



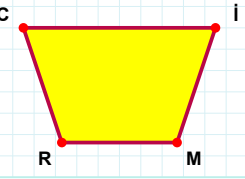
Şekle ait olmayan kenar/kenarları işaretleyelim.

- ☐ CU kenarı
☐ CĞ kenarı
☐ GĞ kenarı



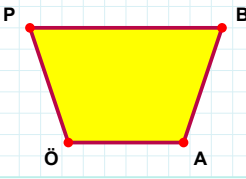
Şekle ait olmayan kenar/kenarları işaretleyelim.

- ☐ TU kenarı
☐ VT kenarı
☐ UR kenarı



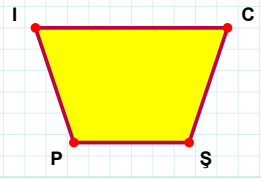
Şekle ait olmayan kenar/kenarları işaretleyelim.

- ☐ CM kenarı
☐ MR kenarı
☐ RC kenarı



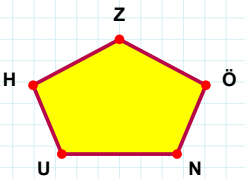
Şekle ait olmayan kenar/kenarları işaretleyelim.

- ☐ PA kenarı
☐ BA kenarı
☐ PB kenarı



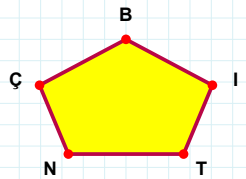
Şekle ait olmayan kenar/kenarları işaretleyelim.

- ☐ İŞ kenarı
☐ Pİ kenarı
☐ CP kenarı



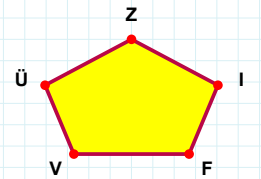
Şekle ait olmayan kenar/kenarları işaretleyelim.

- ☐ UÖ kenarı
☐ NÖ kenarı
☐ HU kenarı



Şekle ait olmayan kenar/kenarları işaretleyelim.

- ☐ NT kenarı
☐ BN kenarı
☐ ÇT kenarı



Şekle ait olmayan kenar/kenarları işaretleyelim.

- ☐ Üİ kenarı
☐ ÜV kenarı
☐ VF kenarı

SORU: Aşağıdaki şekillerde verilen kenarlardan şekle ait olmayanı bulunuz.

Şekle ait olmayan kenar/kenarları işaretleyelim.

☐ ÇV kenarı
☐ ÖM kenarı
☐ ÇÖ kenarı

Şekle ait olmayan kenar/kenarları işaretleyelim.

☐ EP kenarı
☐ PR kenarı
☐ RO kenarı

Şekle ait olmayan kenar/kenarları işaretleyelim.

☐ ÖV kenarı
☐ JR kenarı
☐ VR kenarı

Şekle ait olmayan kenar/kenarları işaretleyelim.

☐ ÇL kenarı
☐ ÇĞ kenarı
☐ ĞL kenarı

Şekle ait olmayan kenar/kenarları işaretleyelim.

☐ EĞ kenarı
☐ AE kenarı
☐ ĞU kenarı

Şekle ait olmayan kenar/kenarları işaretleyelim.

☐ ŞR kenarı
☐ OŞ kenarı
☐ OB kenarı

Şekle ait olmayan kenar/kenarları işaretleyelim.

☐ CU kenarı
☐ IC kenarı
☐ IU kenarı

Şekle ait olmayan kenar/kenarları işaretleyelim.

☐ MŞ kenarı
☐ NM kenarı
☐ ŞĞ kenarı

Şekle ait olmayan kenar/kenarları işaretleyelim.

☐ SN kenarı
☐ BU kenarı
☐ BS kenarı

Şekle ait olmayan kenar/kenarları işaretleyelim.

☐ DI kenarı
☐ CB kenarı
☐ DC kenarı

Şekle ait olmayan kenar/kenarları işaretleyelim.

☐ KB kenarı
☐ KI kenarı
☐ İM kenarı

Şekle ait olmayan kenar/kenarları işaretleyelim.

☐ ĞN kenarı
☐ NB kenarı
☐ BI kenarı

SÜREÇ ODAKLI DEĞERLENDİRME ÖLÇEĞİ

Doğru Sayısı: / 24

Öğretmen ilgili kutucuğu işaretler.

Geliştirilmeli (0-8)

İyi (9-14)

Çok İyi (15-20)

Mükemmel (21-24)



Hazırlayan:

Bu bölüme sınıfınızın ilgili kazanıma yönelik genel durumuna ilişkin gözlem ve izlenimlerinizi, öğrencilerinizin bu kazanımla ilgili öğrenme eksikliklerini ve bu eksikliklerin giderilmesi amacıyla yaptığınız/yapmayı planladığınız faaliyetleri not edebilirsiniz.

No	Adı - Soyadı	Toplam Puan	Değerlendirme
1			
2			
3			
4			
5			
6			
7			
8			
9			
10			
11			
12			
13			
14			
15			
16			
17			
18			
19			
20			
21			
22			
23			
24			
25			
26			
27			
28			
29			
30			
31			
32			
33			
34			
35			

Hazırlayan: