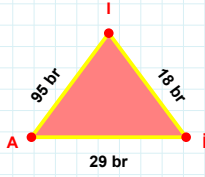
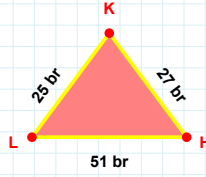


SORU: Aşağıdaki geometrik şekillerle ilgili soruları cevaplayınız.

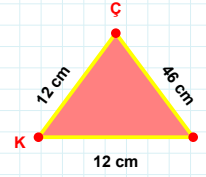
|II| kaç brdir?

- ☐ 17 br
☐ 18 br
☐ 19 br



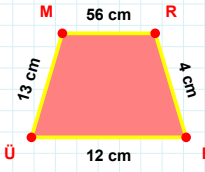
27 br hangi kenara aittir?

- ☐ XY kenarı
☐ LH kenarı
☐ KL kenarı



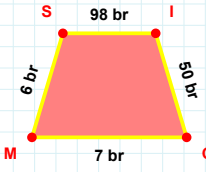
|KZ| + |ÇK| =

Cevap: cm



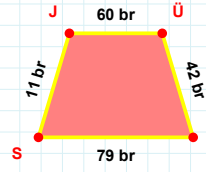
BÜ kenarı hangi şeklin kenarıdır?

- ☐ Üçgen
☐ Kare
☐ Dikdörtgen



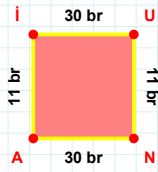
98 br hangi kenara aittir?

Kenar:



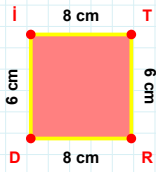
11 br hangi kenara aittir?

- ☐ JY kenarı
☐ YS kenarı
☐ ÜY kenarı



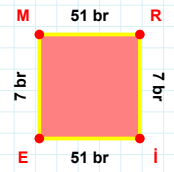
11 br hangi kenara aittir?

- ☐ UN kenarı
☐ Nİ kenarı
☐ AI kenarı



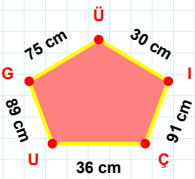
RD kenarı hangi şeklin kenarıdır?

- ☐ Üçgen
☐ Kare
☐ Dikdörtgen



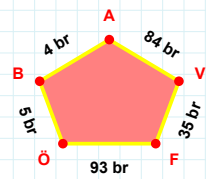
7 br hangi kenara aittir?

- ☐ Rİ kenarı
☐ İE kenarı
☐ ER kenarı



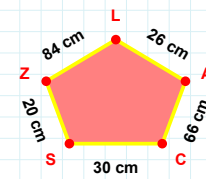
|Çİ| kaç cmdir?

- ☐ 90 cm
☐ 91 cm
☐ 92 cm



|AB| kaç brdir?

- ☐ 3 br
☐ 4 br
☐ 5 br



26 cm hangi kenara aittir?

- ☐ SC kenarı
☐ SL kenarı
☐ LZ kenarı

SORU: Aşağıdaki geometrik şekillerle ilgili soruları cevaplayınız.

$|OG| + |GH| = \dots$
Cevap: br

10 br hangi kenara aittir?
Kenar:

$|KS|$ kaç cm'dir?
☐ 29 cm
☐ 30 cm
☐ 31 cm

65 cm hangi kenara aittir?
☐ ZR kenarı
☐ ÖA kenarı
☐ ÜÖ kenarı

$|BG|$ kaç br'dir?
☐ 69 br
☐ 70 br
☐ 71 br

YZ kenarı hangi şeklin kenarıdır?
☐ Üçgen
☐ Kare
☐ Dikdörtgen

87 cm hangi kenara aittir?
☐ İH kenarı
☐ Rİ kenarı
☐ LS kenarı

OÜ kenarı hangi şeklin kenarıdır?
☐ Üçgen
☐ Kare
☐ Dikdörtgen

$|ES| + |GR| = \dots$
Cevap: br

CS kenarı hangi şeklin kenarıdır?
☐ Üçgen
☐ Kare
☐ Dikdörtgen

87 cm hangi kenara aittir?
Kenar:

46 cm hangi kenara aittir?
☐ FA kenarı
☐ LF kenarı
☐ CF kenarı

SÜREÇ ODAKLI DEĞERLENDİRME ÖLÇEĞİ

Doğru Sayısı: / 24

Öğretmen ilgili kutucuğu işaretler.

Geliştirilmeli (0-8)	İyi (9-14)	Çok İyi (15-20)	Mükemmel (21-24)
<input type="checkbox"/>	<input type="checkbox"/>	<input type="checkbox"/>	<input type="checkbox"/>

Hazırlayan:

Bu bölüme sınıfınızın ilgili kazanıma yönelik genel durumuna ilişkin gözlem ve izlenimlerinizi, öğrencilerinizin bu kazanımla ilgili öğrenme eksikliklerini ve bu eksikliklerin giderilmesi amacıyla yaptığınız/yapmayı planladığınız faaliyetleri not edebilirsiniz.

No	Adı - Soyadı	Toplam Puan	Değerlendirme
1			
2			
3			
4			
5			
6			
7			
8			
9			
10			
11			
12			
13			
14			
15			
16			
17			
18			
19			
20			
21			
22			
23			
24			
25			
26			
27			
28			
29			
30			
31			
32			
33			
34			
35			

Hazırlayan: