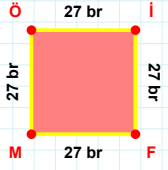
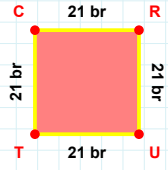


**SORU:** Aşağıdaki geometrik şekillerle ilgili soruları cevaplayınız.

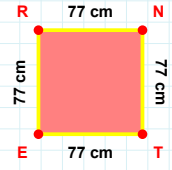
27 br hangi kenara aittir?

Kenar: .....



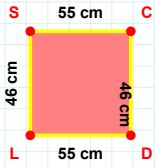
21 br hangi kenara aittir?

- ☐ RU kenarı  
☐ CR kenarı  
☐ UC kenarı



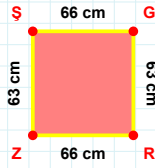
77 cm hangi kenara aittir?

Kenar: .....



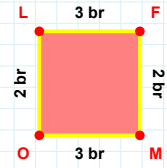
|CD| kaç cm'dir?

- ☐ 45 cm  
☐ 46 cm  
☐ 47 cm



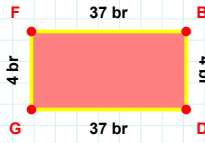
RZ kenarı hangi şeklin kenarıdır?

- ☐ Üçgen  
☐ Kare  
☐ Dikdörtgen



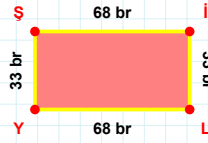
|OL| + |MO| = ....

Cevap: ..... br



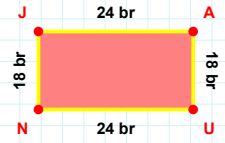
|GF| kaç br'dir?

- ☐ 3 br  
☐ 4 br  
☐ 5 br



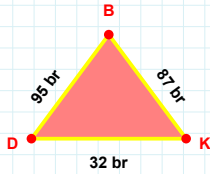
33 br hangi kenara aittir?

- ☐ Şİ kenarı  
☐ YŞ kenarı  
☐ İY kenarı



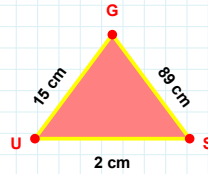
|UN| kaç br'dir?

- ☐ 23 br  
☐ 24 br  
☐ 25 br



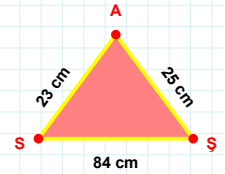
32 br hangi kenara aittir?

Kenar: .....



89 cm hangi kenara aittir?

- ☐ GU kenarı  
☐ XY kenarı  
☐ SG kenarı



|AS| + |SŞ| = ....

Cevap: ..... cm

**SORU:** Aşağıdaki geometrik şekillerle ilgili soruları cevaplayınız.

**|EP| kaç brdir?**

☐ 17 br  
☐ 18 br  
☐ 19 br

**30 cm hangi kenara aittir?**

Kenar: .....

**ÜÇ kenarı hangi şeklin kenarıdır?**

☐ Üçgen  
☐ Kare  
☐ Dikdörtgen

**|OB| + |AP| = ....**

Cevap: ..... cm

**|RF| + |FG| = ....**

Cevap: ..... cm

**56 cm hangi kenara aittir?**

☐ TY kenarı  
☐ YD kenarı  
☐ JY kenarı

**|SE| + |IS| = ....**

Cevap: ..... br

**35 cm hangi kenara aittir?**

Kenar: .....

**|LY| + |YT| = ....**

Cevap: ..... br

**|DU| kaç brdir?**

☐ 65 br  
☐ 66 br  
☐ 67 br

**91 cm hangi kenara aittir?**

Kenar: .....

**19 br hangi kenara aittir?**

☐ LT kenarı  
☐ TO kenarı  
☐ LY kenarı

SÜREÇ ODAKLI DEĞERLENDİRME ÖLÇEĞİ

Doğru Sayısı: ..... / 24

Öğretmen ilgili kutucuğu işaretler.

Geliştirilmeli (0-8)

İyi (9-14)

Çok İyi (15-20)

Mükemmel (21-24)

☐
☐
☐
☐

Hazırlayan: .....

**Bu bölüme sınıfınızın ilgili kazanıma yönelik genel durumuna ilişkin gözlem ve izlenimlerinizi, öğrencilerinizin bu kazanımla ilgili öğrenme eksikliklerini ve bu eksikliklerin giderilmesi amacıyla yaptığınız/yapmayı planladığınız faaliyetleri not edebilirsiniz.**

No	Adı - Soyadı	Toplam Puan	Değerlendirme
1			
2			
3			
4			
5			
6			
7			
8			
9			
10			
11			
12			
13			
14			
15			
16			
17			
18			
19			
20			
21			
22			
23			
24			
25			
26			
27			
28			
29			
30			
31			
32			
33			
34			
35			

**Hazırlayan:** ..... ..