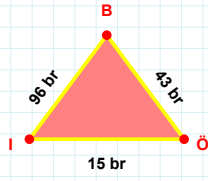
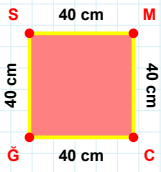


SORU: Aşağıdaki geometrik şekillerle ilgili soruları cevaplayınız.

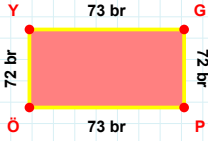
15 br hangi kenara aittir?

Kenar:



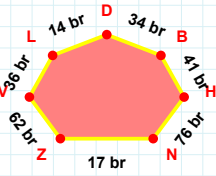
CÇ kenarı hangi şeklin kenarıdır?

- ☐ Üçgen
☐ Kare
☐ Dikdörtgen



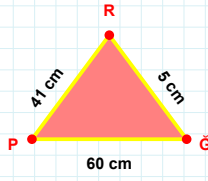
73 br hangi kenara aittir?

Kenar:



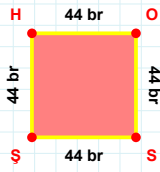
76 br hangi kenara aittir?

Kenar:



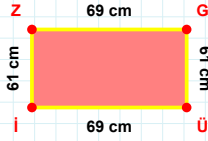
RP kenarı hangi şeklin kenarıdır?

- ☐ Üçgen
☐ Kare
☐ Dikdörtgen



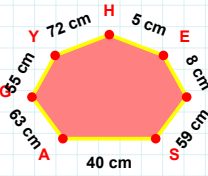
|ŞH| kaç brdir?

- ☐ 43 br
☐ 44 br
☐ 45 br



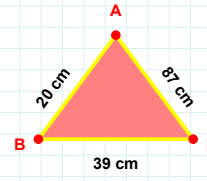
69 cm hangi kenara aittir?

Kenar:



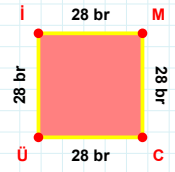
|YG| + |GA| =

Cevap: cm



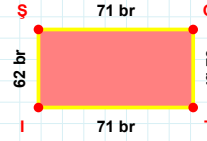
87 cm hangi kenara aittir?

- ☐ XY kenarı
☐ BN kenarı
☐ NA kenarı



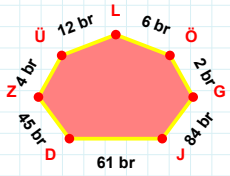
|Üİ| kaç brdir?

- ☐ 27 br
☐ 28 br
☐ 29 br



ŞG kenarı hangi şeklin kenarıdır?

- ☐ Üçgen
☐ Kare
☐ Dikdörtgen



ÖL kenarı hangi şeklin kenarıdır?

- ☐ Üçgen
☐ Kare
☐ Dikdörtgen

SORU: Aşağıdaki geometrik şekillerle ilgili soruları cevaplayınız.

52 br hangi kenara aittir?
Kenar:

10 cm hangi kenara aittir?
☐ MG kenarı
☐ CG kenarı
☐ CM kenarı

PK kenarı hangi şeklin kenarıdır?
☐ Üçgen
☐ Kare
☐ Dikdörtgen

40 cm hangi kenara aittir?
☐ ŞN kenarı
☐ DO kenarı
☐ SD kenarı

FN kenarı hangi şeklin kenarıdır?
☐ Üçgen
☐ Kare
☐ Dikdörtgen

|MJ| kaç brdir?
☐ 70 br
☐ 71 br
☐ 72 br

İG kenarı hangi şeklin kenarıdır?
☐ Üçgen
☐ Kare
☐ Dikdörtgen

|MJ| + |HU| =
Cevap: cm

YR kenarı hangi şeklin kenarıdır?
☐ Üçgen
☐ Kare
☐ Dikdörtgen

9 cm hangi kenara aittir?
Kenar:

44 cm hangi kenara aittir?
☐ Üİ kenarı
☐ İE kenarı
☐ ÜE kenarı

|iZ| + |ZL| =
Cevap: cm

SÜREÇ ODAKLI DEĞERLENDİRME ÖLÇEĞİ

Doğru Sayısı: / 24

Öğretmen ilgili kutucuğu işaretler.

Geliştirilmeli (0-8)

İyi (9-14)

Çok İyi (15-20)

Mükemmel (21-24)

☐
☐
☐
☐

Hazırlayan:

Bu bölüme sınıfınızın ilgili kazanıma yönelik genel durumuna ilişkin gözlem ve izlenimlerinizi, öğrencilerinizin bu kazanımla ilgili öğrenme eksikliklerini ve bu eksikliklerin giderilmesi amacıyla yaptığınız/yapmayı planladığınız faaliyetleri not edebilirsiniz.

No	Adı - Soyadı	Toplam Puan	Değerlendirme
1			
2			
3			
4			
5			
6			
7			
8			
9			
10			
11			
12			
13			
14			
15			
16			
17			
18			
19			
20			
21			
22			
23			
24			
25			
26			
27			
28			
29			
30			
31			
32			
33			
34			
35			

Hazırlayan: