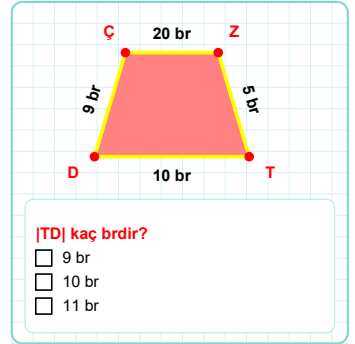
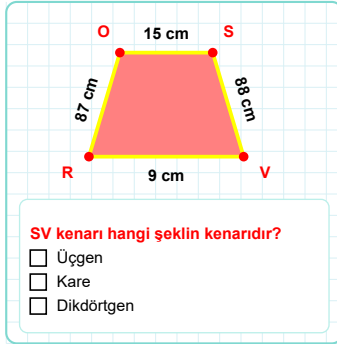
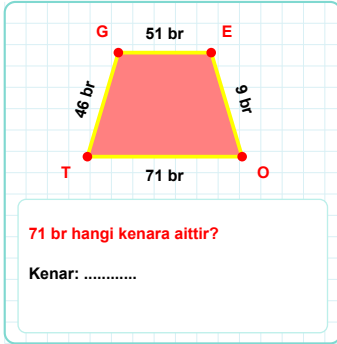
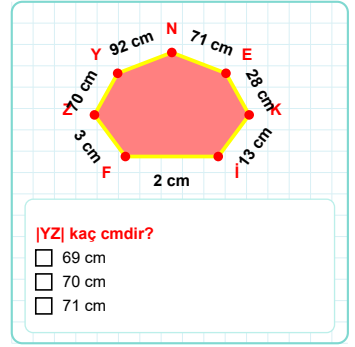
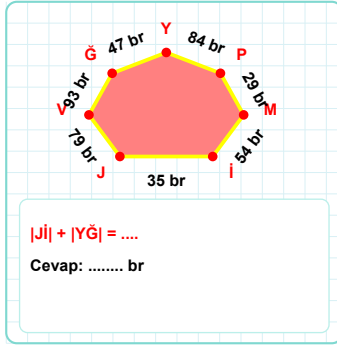
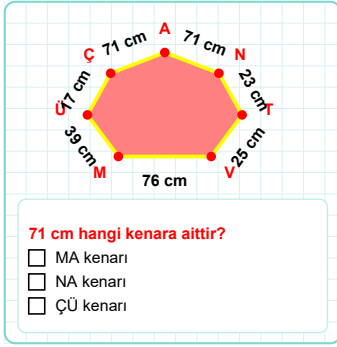
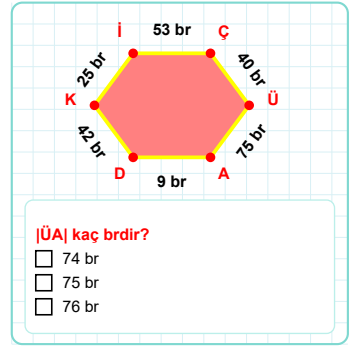
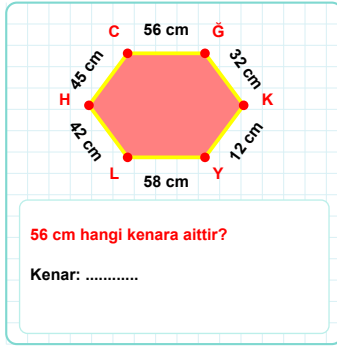
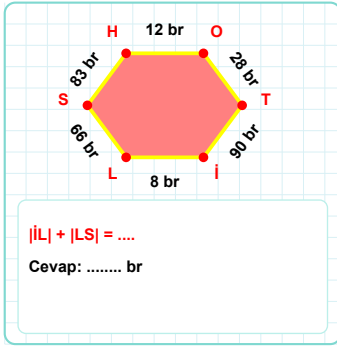
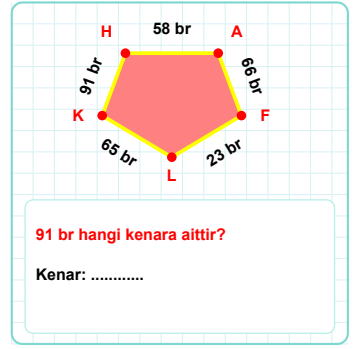
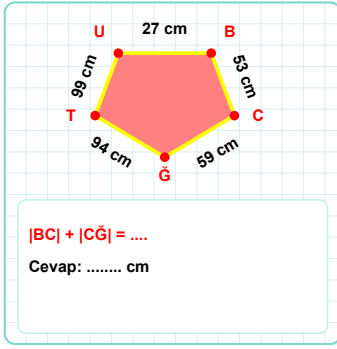


SORU: Aşağıdaki geometrik şekillerle ilgili soruları cevaplayınız.



SORU: Aşağıdaki geometrik şekillerle ilgili soruları cevaplayınız.

29 cm hangi kenara aittir?
Kenar:

|ST| kaç cm'dir?
☐ 29 cm
☐ 30 cm
☐ 31 cm

GD kenarı hangi şeklin kenarıdır?
☐ Üçgen
☐ Kare
☐ Dikdörtgen

|HÖ| kaç br'dir?
☐ 97 br
☐ 98 br
☐ 99 br

38 cm hangi kenara aittir?
☐ CU kenarı
☐ JÖ kenarı
☐ JC kenarı

Eİ kenarı hangi şeklin kenarıdır?
☐ Üçgen
☐ Kare
☐ Dikdörtgen

ZE kenarı hangi şeklin kenarıdır?
☐ Üçgen
☐ Kare
☐ Dikdörtgen

11 cm hangi kenara aittir?
☐ ZR kenarı
☐ YZ kenarı
☐ XY kenarı

49 cm hangi kenara aittir?
Kenar:

|TE| kaç br'dir?
☐ 28 br
☐ 29 br
☐ 30 br

68 cm hangi kenara aittir?
Kenar:

|RT| + |DR| =
Cevap: br

SÜREÇ ODAKLI DEĞERLENDİRME ÖLÇEĞİ

Doğru Sayısı: / 24

Öğretmen ilgili kutucuğu işaretler.

Geliştirilmeli (0-8)

İyi (9-14)

Çok İyi (15-20)

Mükemmel (21-24)

☐
☐
☐
☐

Hazırlayan:

Bu bölüme sınıfınızın ilgili kazanıma yönelik genel durumuna ilişkin gözlem ve izlenimlerinizi, öğrencilerinizin bu kazanımla ilgili öğrenme eksikliklerini ve bu eksikliklerin giderilmesi amacıyla yaptığınız/yapmayı planladığınız faaliyetleri not edebilirsiniz.

No	Adı - Soyadı	Toplam Puan	Değerlendirme
1			
2			
3			
4			
5			
6			
7			
8			
9			
10			
11			
12			
13			
14			
15			
16			
17			
18			
19			
20			
21			
22			
23			
24			
25			
26			
27			
28			
29			
30			
31			
32			
33			
34			
35			

Hazırlayan: