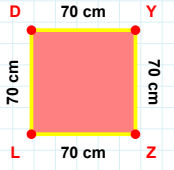
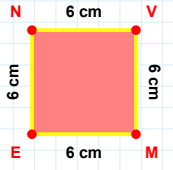
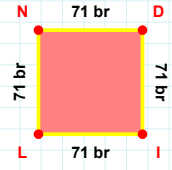


**SORU:** Aşağıdaki geometrik şekillerle ilgili soruları cevaplayınız.**70 cm hangi kenara aittir?**

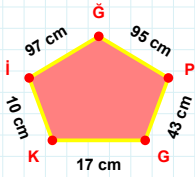
- ☐ ZD kenarı  
☐ ZL kenarı  
☐ LD kenarı

**|ME| kaç cm'dir?**

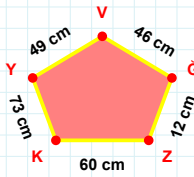
- ☐ 5 cm  
☐ 6 cm  
☐ 7 cm

**LN kenarı hangi şeklin kenarıdır?**

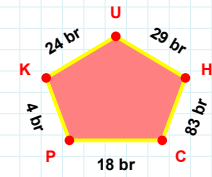
- ☐ Üçgen  
☐ Kare  
☐ Dikdörtgen

**KG kenarı hangi şeklin kenarıdır?**

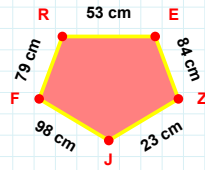
- ☐ Üçgen  
☐ Kare  
☐ Dikdörtgen

**KZ kenarı hangi şeklin kenarıdır?**

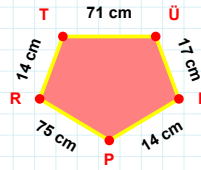
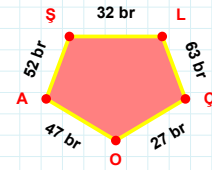
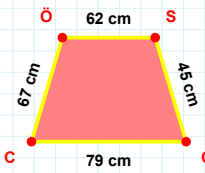
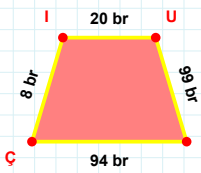
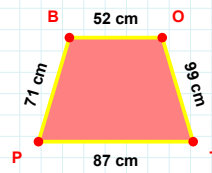
- ☐ Üçgen  
☐ Kare  
☐ Dikdörtgen

**KP kenarı hangi şeklin kenarıdır?**

- ☐ Üçgen  
☐ Kare  
☐ Dikdörtgen

**79 cm hangi kenara aittir?**

- ☐ EZ kenarı  
☐ RZ kenarı  
☐ ZJ kenarı

**75 cm hangi kenara aittir?****Kenar: .....****|LC| + |AS| = ....****Cevap: ..... br****45 cm hangi kenara aittir?****Kenar: .....****|IU| + |NÇ| = ....****Cevap: ..... br****PB kenarı hangi şeklin kenarıdır?**

- ☐ Üçgen  
☐ Kare  
☐ Dikdörtgen

**SORU:** Aşağıdaki geometrik şekillerle ilgili soruları cevaplayınız.

41 br hangi kenara aittir?  
Kenar: .....

47 br hangi kenara aittir?  
Kenar: .....

|DP| kaç cmdir?  
☐ 11 cm  
☐ 12 cm  
☐ 13 cm

GH kenarı hangi şeklin kenarıdır?  
☐ Üçgen  
☐ Kare  
☐ Dikdörtgen

|TM| kaç cmdir?  
☐ 2 cm  
☐ 3 cm  
☐ 4 cm

|EI| + |SB| = ....  
Cevap: ..... br

|ÖO| kaç brdir?  
☐ 56 br  
☐ 57 br  
☐ 58 br

|GZ| + |JD| = ....  
Cevap: ..... br

57 cm hangi kenara aittir?  
Kenar: .....

|KJ| + |JF| = ....  
Cevap: ..... br

|HI| kaç cmdir?  
☐ 82 cm  
☐ 83 cm  
☐ 84 cm

9 br hangi kenara aittir?  
Kenar: .....

SÜREÇ ODAKLI DEĞERLENDİRME ÖLÇEĞİ

Doğru Sayısı: ..... / 24

Öğretmen ilgili kutucuğu işaretler.

Geliştirilmeli (0-8)

İyi (9-14)

Çok İyi (15-20)

Mükemmel (21-24)

☐
☐
☐
☐

Hazırlayan: .....

**Bu bölüme sınıfınızın ilgili kazanıma yönelik genel durumuna ilişkin gözlem ve izlenimlerinizi, öğrencilerinizin bu kazanımla ilgili öğrenme eksikliklerini ve bu eksikliklerin giderilmesi amacıyla yaptığınız/yapmayı planladığınız faaliyetleri not edebilirsiniz.**

No	Adı - Soyadı	Toplam Puan	Değerlendirme
1			
2			
3			
4			
5			
6			
7			
8			
9			
10			
11			
12			
13			
14			
15			
16			
17			
18			
19			
20			
21			
22			
23			
24			
25			
26			
27			
28			
29			
30			
31			
32			
33			
34			
35			

**Hazırlayan:** ..... ..