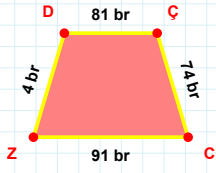
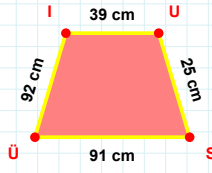


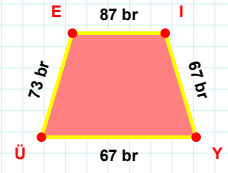
SORU: Aşağıdaki geometrik şekillerle ilgili soruları cevaplayınız.

DÇ kenarı hangi şeklin kenarındır?

- ☐ Üçgen
☐ Kare
☐ Dikdörtgen

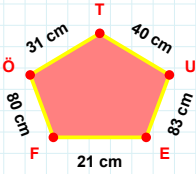
 $|SÜ| + |ÜI| = \dots$

Cevap: cm



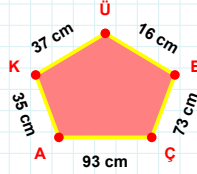
YÜ kenarı hangi şeklin kenarındır?

- ☐ Üçgen
☐ Kare
☐ Dikdörtgen



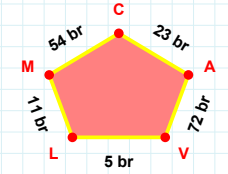
TÖ kenarı hangi şeklin kenarındır?

- ☐ Üçgen
☐ Kare
☐ Dikdörtgen



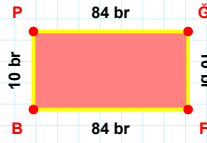
ÇB kenarı hangi şeklin kenarındır?

- ☐ Üçgen
☐ Kare
☐ Dikdörtgen

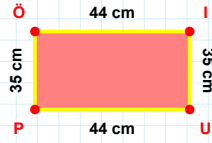


23 br hangi kenara aittir?

- ☐ VM kenarı
☐ AC kenarı
☐ LV kenarı

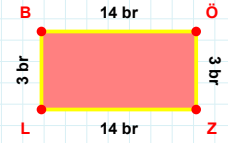
 $|GF|$ kaç brdir?

- ☐ 9 br
☐ 10 br
☐ 11 br

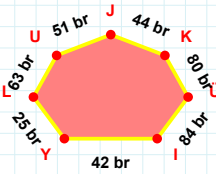


35 cm hangi kenara aittir?

- ☐ ÖI kenarı
☐ PÖ kenarı
☐ UÖ kenarı

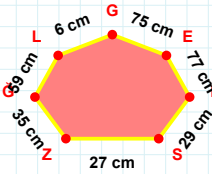
 $|ÖZ| + |ZL| = \dots$

Cevap: br

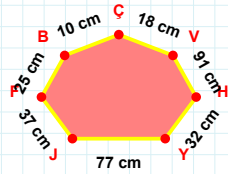


44 br hangi kenara aittir?

Kenar:

 $|LĞ|$ kaç cmdir?

- ☐ 58 cm
☐ 59 cm
☐ 60 cm

 $|JY| + |YH| = \dots$

Cevap: cm

SORU: Aşağıdaki geometrik şekillerle ilgili soruları cevaplayınız.

|GT| kaç brdir?

☐ 47 br
☐ 48 br
☐ 49 br

|CA| + |AZ| =

Cevap: br

AV kenarı hangi şeklin kenarıdır?

☐ Üçgen
☐ Kare
☐ Dikdörtgen

GÇ kenarı hangi şeklin kenarıdır?

☐ Üçgen
☐ Kare
☐ Dikdörtgen

BV kenarı hangi şeklin kenarıdır?

☐ Üçgen
☐ Kare
☐ Dikdörtgen

96 br hangi kenara aittir?

☐ YL kenarı
☐ İY kenarı
☐ PY kenarı

YÜ kenarı hangi şeklin kenarıdır?

☐ Üçgen
☐ Kare
☐ Dikdörtgen

|İA| kaç cmdir?

☐ 71 cm
☐ 72 cm
☐ 73 cm

|DH| kaç brdir?

☐ 51 br
☐ 52 br
☐ 53 br

|Yİ| kaç cmdir?

☐ 13 cm
☐ 14 cm
☐ 15 cm

27 cm hangi kenara aittir?

Kenar:

33 cm hangi kenara aittir?

Kenar:

SÜREÇ ODAKLI DEĞERLENDİRME ÖLÇEĞİ

Doğru Sayısı: / 24

Öğretmen ilgili kutucuğu işaretler.

Geliştirilmeli (0-8)

İyi (9-14)

Çok İyi (15-20)

Mükemmel (21-24)

☐
☐
☐
☐

Hazırlayan:

Bu bölüme sınıfınızın ilgili kazanıma yönelik genel durumuna ilişkin gözlem ve izlenimlerinizi, öğrencilerinizin bu kazanımla ilgili öğrenme eksikliklerini ve bu eksikliklerin giderilmesi amacıyla yaptığınız/yapmayı planladığınız faaliyetleri not edebilirsiniz.

No	Adı - Soyadı	Toplam Puan	Değerlendirme
1			
2			
3			
4			
5			
6			
7			
8			
9			
10			
11			
12			
13			
14			
15			
16			
17			
18			
19			
20			
21			
22			
23			
24			
25			
26			
27			
28			
29			
30			
31			
32			
33			
34			
35			

Hazırlayan: