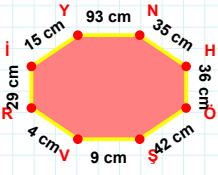
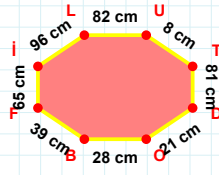


SORU: Aşağıdaki geometrik şekillerle ilgili soruları cevaplayınız.



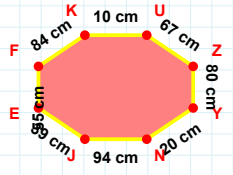
42 cm hangi kenara aittir?

Kenar:



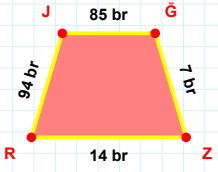
$|IL| + |DO| = \dots$

Cevap: cm



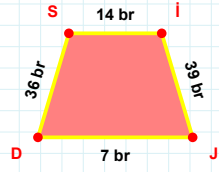
$|JE|$ kaç cm'dir?

- ☐ 38 cm
☐ 39 cm
☐ 40 cm



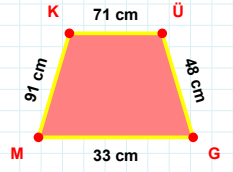
JG kenarı hangi şeklin kenarıdır?

- ☐ Üçgen
☐ Kare
☐ Dikdörtgen



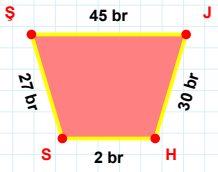
39 br hangi kenara aittir?

Kenar:



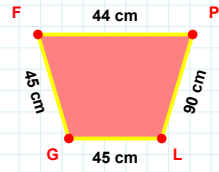
71 cm hangi kenara aittir?

Kenar:



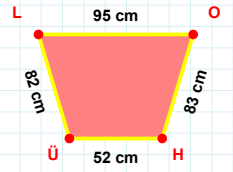
$|SJ|$ kaç br'dir?

- ☐ 44 br
☐ 45 br
☐ 46 br



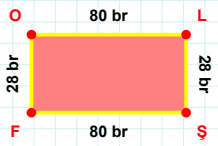
$|LG| + |PL| = \dots$

Cevap: cm



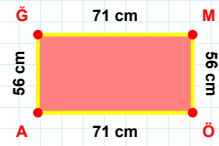
$|HÜ|$ kaç cm'dir?

- ☐ 51 cm
☐ 52 cm
☐ 53 cm



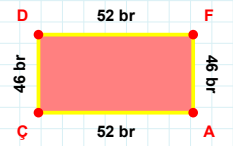
$|LŞ| + |OL| = \dots$

Cevap: br



$|MÖ| + |ÖA| = \dots$

Cevap: cm



$|FA|$ kaç br'dir?

- ☐ 45 br
☐ 46 br
☐ 47 br

SORU: Aşağıdaki geometrik şekillerle ilgili soruları cevaplayınız.

83 cm hangi kenara aittir?
Kenar:

66 cm hangi kenara aittir?
☐ MA kenarı
☐ TA kenarı
☐ TM kenarı

63 br hangi kenara aittir?
☐ OÜ kenarı
☐ OI kenarı
☐ IF kenarı

6 br hangi kenara aittir?
Kenar:

$|İİ| + |FI| = \dots$
Cevap: br

$|AD| + |ÜG| = \dots$
Cevap: br

$|PÜ| + |ÖP| = \dots$
Cevap: br

48 cm hangi kenara aittir?
☐ XY kenarı
☐ ÜJ kenarı
☐ VÜ kenarı

34 cm hangi kenara aittir?
Kenar:

$|ŞÜ|$ kaç brdir?
☐ 40 br
☐ 41 br
☐ 42 br

$|VE|$ kaç cmdir?
☐ 51 cm
☐ 52 cm
☐ 53 cm

$|NÜ|$ kaç brdir?
☐ 28 br
☐ 29 br
☐ 30 br

SÜREÇ ODAKLI DEĞERLENDİRME ÖLÇEĞİ

Doğru Sayısı: / 24

Öğretmen ilgili kutucuğu işaretler.

Geliştirilmeli (0-8)

İyi (9-14)

Çok İyi (15-20)

Mükemmel (21-24)

☐
☐
☐
☐

Hazırlayan:

Bu bölüme sınıfınızın ilgili kazanıma yönelik genel durumuna ilişkin gözlem ve izlenimlerinizi, öğrencilerinizin bu kazanımla ilgili öğrenme eksikliklerini ve bu eksikliklerin giderilmesi amacıyla yaptığınız/yapmayı planladığınız faaliyetleri not edebilirsiniz.

No	Adı - Soyadı	Toplam Puan	Değerlendirme
1			
2			
3			
4			
5			
6			
7			
8			
9			
10			
11			
12			
13			
14			
15			
16			
17			
18			
19			
20			
21			
22			
23			
24			
25			
26			
27			
28			
29			
30			
31			
32			
33			
34			
35			

Hazırlayan: