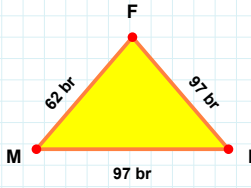
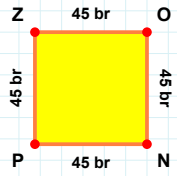


**SORU:** Aşağıdaki şekilleri inceleyiniz. Verilen kenar bilgisinin hangi şekle ait olduğunu işaretleyiniz.



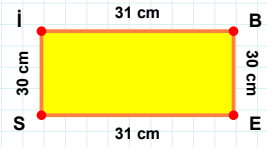
|ON| kenarı hangi şeklin kenarıdır?

- ☐ Üçgen  
☐ Dikdörtgen  
☐ Kare



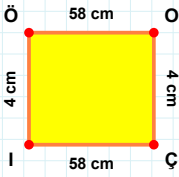
|IB| kenarı hangi şeklin kenarıdır?

- ☐ Üçgen  
☐ Kare  
☐ Dikdörtgen



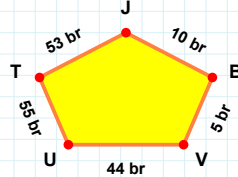
|IF| kenarı hangi şeklin kenarıdır?

- ☐ Kare  
☐ Dikdörtgen  
☐ Üçgen



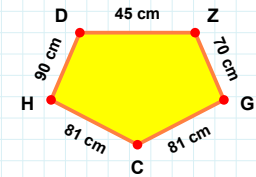
|ZG| kenarı hangi şeklin kenarıdır?

- ☐ Dikey Dikdörtgen  
☐ Beşgen  
☐ Ters Beşgen



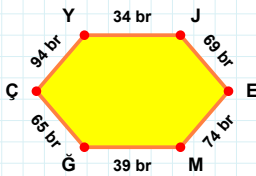
|OÇ| kenarı hangi şeklin kenarıdır?

- ☐ Dikey Dikdörtgen  
☐ Beşgen  
☐ Ters Beşgen



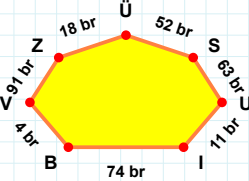
5 br hangi şeklin kenarıdır?

- ☐ Dikey Dikdörtgen  
☐ Beşgen  
☐ Ters Beşgen



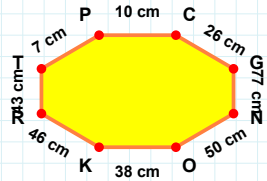
|PC| kenarı hangi şeklin kenarıdır?

- ☐ Sekizgen  
☐ Yediggen  
☐ Altıgen



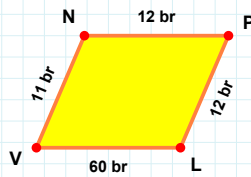
|ĞÇ| kenarı hangi şeklin kenarıdır?

- ☐ Altıgen  
☐ Yediggen  
☐ Sekizgen



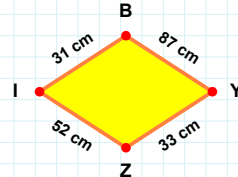
63 br hangi şeklin kenarıdır?

- ☐ Altıgen  
☐ Sekizgen  
☐ Yediggen



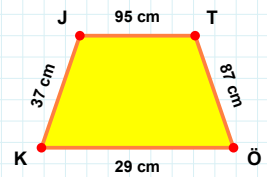
|JT| kenarı hangi şeklin kenarıdır?

- ☐ Eşkenar Dörtgen  
☐ Yamuk  
☐ Paralelkenar



|VN| kenarı hangi şeklin kenarıdır?

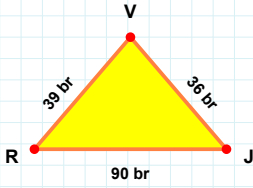
- ☐ Eşkenar Dörtgen  
☐ Paralelkenar  
☐ Yamuk



33 cm hangi şeklin kenarıdır?

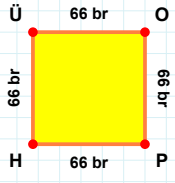
- ☐ Paralelkenar  
☐ Eşkenar Dörtgen  
☐ Yamuk

**SORU:** Aşağıdaki şekilleri inceleyiniz. Verilen kenar bilgisinin hangi şekle ait olduğunu işaretleyiniz.



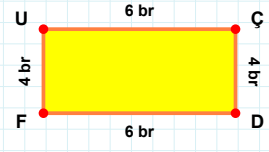
**[DJ] kenarı hangi şeklin kenarıdır?**

- ☐ Kare  
☐ Üçgen  
☐ Dikdörtgen



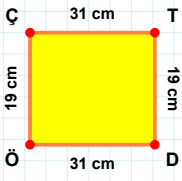
**[JV] kenarı hangi şeklin kenarıdır?**

- ☐ Dikdörtgen  
☐ Kare  
☐ Üçgen



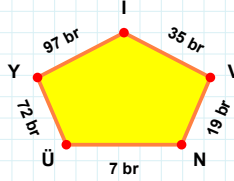
**[PH] kenarı hangi şeklin kenarıdır?**

- ☐ Üçgen  
☐ Dikdörtgen  
☐ Kare



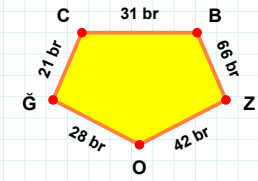
**[CB] kenarı hangi şeklin kenarıdır?**

- ☐ Ters Beşgen  
☐ Dikey Dikdörtgen  
☐ Beşgen



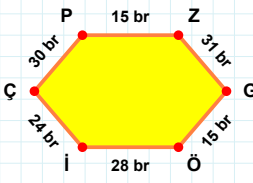
**[DÖ] kenarı hangi şeklin kenarıdır?**

- ☐ Beşgen  
☐ Dikey Dikdörtgen  
☐ Ters Beşgen



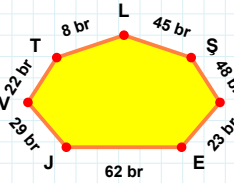
**7 br hangi şeklin kenarıdır?**

- ☐ Dikey Dikdörtgen  
☐ Ters Beşgen  
☐ Beşgen



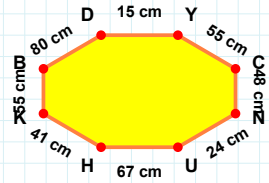
**[DY] kenarı hangi şeklin kenarıdır?**

- ☐ Altıgen  
☐ Yediggen  
☐ Sekizgen



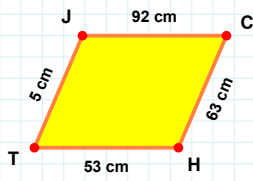
**[GÖ] kenarı hangi şeklin kenarıdır?**

- ☐ Altıgen  
☐ Yediggen  
☐ Sekizgen



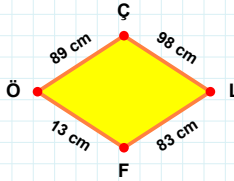
**48 br hangi şeklin kenarıdır?**

- ☐ Yediggen  
☐ Altıgen  
☐ Sekizgen



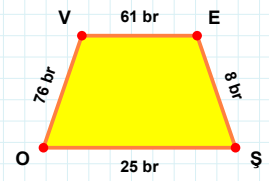
**89 cm hangi şeklin kenarıdır?**

- ☐ Yamuk  
☐ Paralelkenar  
☐ Eşkenar Dörtgen



**[EŞ] kenarı hangi şeklin kenarıdır?**

- ☐ Yamuk  
☐ Eşkenar Dörtgen  
☐ Paralelkenar



**[HT] kenarı hangi şeklin kenarıdır?**

- ☐ Eşkenar Dörtgen  
☐ Paralelkenar  
☐ Yamuk

### SÜREÇ ODAKLI DEĞERLENDİRME ÖLÇEĞİ

Doğru Sayısı: ..... / 24

Öğretmen ilgili kutucuğu işaretler.

Geliştirilmeli (0-8)

İyi (9-14)

Çok İyi (15-20)

Mükemmel (21-24)

☐
☐
☐
☐

Hazırlayan: .....

Bu bölüme sınıfınızın ilgili kazanıma yönelik genel durumuna ilişkin gözlem ve izlenimlerinizi, öğrencilerinizin bu kazanımla ilgili öğrenme eksikliklerini ve bu eksikliklerin giderilmesi amacıyla yaptığınız/yapmayı planladığınız faaliyetleri not edebilirsiniz.

No	Adı - Soyadı	Toplam Puan	Değerlendirme
1			
2			
3			
4			
5			
6			
7			
8			
9			
10			
11			
12			
13			
14			
15			
16			
17			
18			
19			
20			
21			
22			
23			
24			
25			
26			
27			
28			
29			
30			
31			
32			
33			
34			
35			

Hazırlayan: ..... ..