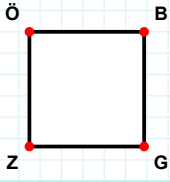
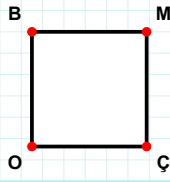


SORU: Aşağıdaki şekillerde verilen kenarlardan şekle ait olmayanı bulunuz.



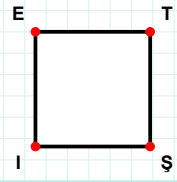
Şekle ait olmayan kenar/kenarları işaretleyelim.

- ☐ ZÖ kenarı
☐ BZ kenarı
☐ ÖG kenarı



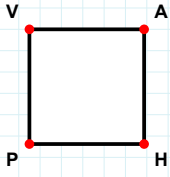
Şekle ait olmayan kenar/kenarları işaretleyelim.

- ☐ BM kenarı
☐ ÇO kenarı
☐ MO kenarı



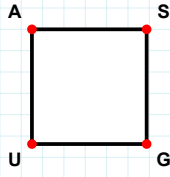
Şekle ait olmayan kenar/kenarları işaretleyelim.

- ☐ TI kenarı
☐ TŞ kenarı
☐ EŞ kenarı



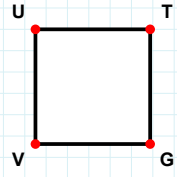
Şekle ait olmayan kenar/kenarları işaretleyelim.

- ☐ PV kenarı
☐ VH kenarı
☐ AP kenarı



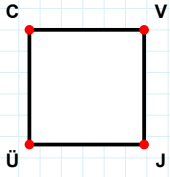
Şekle ait olmayan kenar/kenarları işaretleyelim.

- ☐ AG kenarı
☐ SU kenarı
☐ GU kenarı



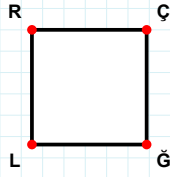
Şekle ait olmayan kenar/kenarları işaretleyelim.

- ☐ UG kenarı
☐ TV kenarı
☐ VU kenarı



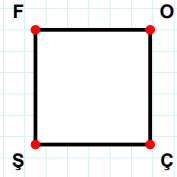
Şekle ait olmayan kenar/kenarları işaretleyelim.

- ☐ VÜ kenarı
☐ JÜ kenarı
☐ CJ kenarı



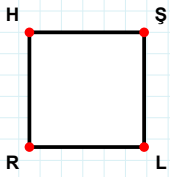
Şekle ait olmayan kenar/kenarları işaretleyelim.

- ☐ RĞ kenarı
☐ ÇL kenarı
☐ ĞL kenarı



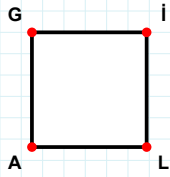
Şekle ait olmayan kenar/kenarları işaretleyelim.

- ☐ FÇ kenarı
☐ ŞF kenarı
☐ OÇ kenarı



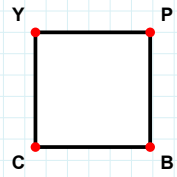
Şekle ait olmayan kenar/kenarları işaretleyelim.

- ☐ RH kenarı
☐ ŞR kenarı
☐ ŞL kenarı



Şekle ait olmayan kenar/kenarları işaretleyelim.

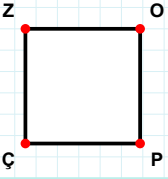
- ☐ AG kenarı
☐ İA kenarı
☐ İL kenarı



Şekle ait olmayan kenar/kenarları işaretleyelim.

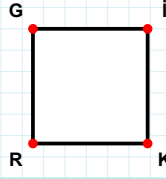
- ☐ PC kenarı
☐ CY kenarı
☐ YB kenarı

SORU: Aşağıdaki şekillerde verilen kenarlardan şekle ait olmayanı bulunuz.



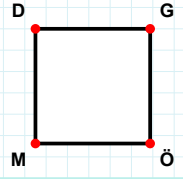
Şekle ait olmayan kenar/kenarları işaretleyelim.

- ☐ OÇ kenarı
☐ ZP kenarı
☐ PÇ kenarı



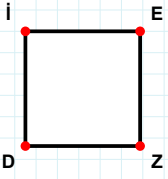
Şekle ait olmayan kenar/kenarları işaretleyelim.

- ☐ İR kenarı
☐ İK kenarı
☐ KR kenarı



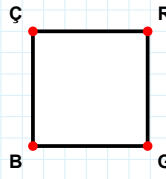
Şekle ait olmayan kenar/kenarları işaretleyelim.

- ☐ DÖ kenarı
☐ MD kenarı
☐ GM kenarı



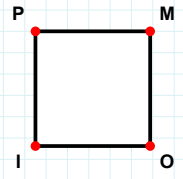
Şekle ait olmayan kenar/kenarları işaretleyelim.

- ☐ İZ kenarı
☐ ZD kenarı
☐ İE kenarı



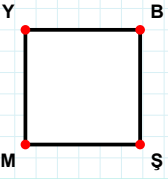
Şekle ait olmayan kenar/kenarları işaretleyelim.

- ☐ BÇ kenarı
☐ ÇR kenarı
☐ RB kenarı



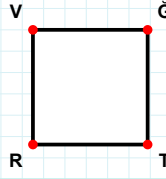
Şekle ait olmayan kenar/kenarları işaretleyelim.

- ☐ MI kenarı
☐ IP kenarı
☐ PO kenarı



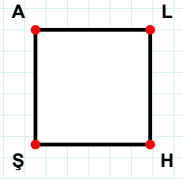
Şekle ait olmayan kenar/kenarları işaretleyelim.

- ☐ BM kenarı
☐ YŞ kenarı
☐ BŞ kenarı



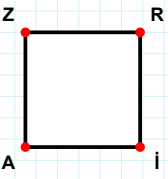
Şekle ait olmayan kenar/kenarları işaretleyelim.

- ☐ VT kenarı
☐ RV kenarı
☐ VĞ kenarı



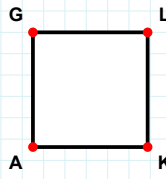
Şekle ait olmayan kenar/kenarları işaretleyelim.

- ☐ LH kenarı
☐ AH kenarı
☐ LŞ kenarı



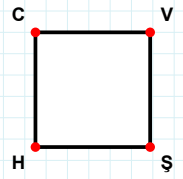
Şekle ait olmayan kenar/kenarları işaretleyelim.

- ☐ RA kenarı
☐ Zİ kenarı
☐ Rİ kenarı



Şekle ait olmayan kenar/kenarları işaretleyelim.

- ☐ GL kenarı
☐ LA kenarı
☐ GK kenarı



Şekle ait olmayan kenar/kenarları işaretleyelim.

- ☐ HC kenarı
☐ CŞ kenarı
☐ VH kenarı

SÜREÇ ODAKLI DEĞERLENDİRME ÖLÇEĞİ

Doğru Sayısı: / 24

Öğretmen ilgili kutucuğu işaretler.

Geliştirilmeli (0-8)

İyi (9-14)

Çok İyi (15-20)

Mükemmel (21-24)

☐
☐
☐
☐

Hazırlayan:

Bu bölüme sınıfınızın ilgili kazanıma yönelik genel durumuna ilişkin gözlem ve izlenimlerinizi, öğrencilerinizin bu kazanımla ilgili öğrenme eksikliklerini ve bu eksikliklerin giderilmesi amacıyla yaptığınız/yapmayı planladığınız faaliyetleri not edebilirsiniz.

No	Adı - Soyadı	Toplam Puan	Değerlendirme
1			
2			
3			
4			
5			
6			
7			
8			
9			
10			
11			
12			
13			
14			
15			
16			
17			
18			
19			
20			
21			
22			
23			
24			
25			
26			
27			
28			
29			
30			
31			
32			
33			
34			
35			

Hazırlayan: