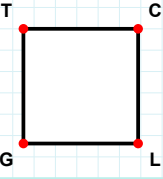
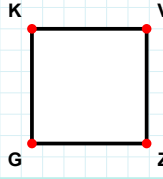


SORU: Aşağıdaki şekillerde verilen kenarlardan şekle ait olmayanı bulunuz.



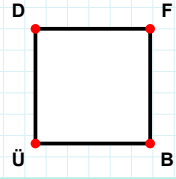
Şekle ait olmayan kenar/kenarları işaretleyelim.

- ☐ CG kenarı
☐ CL kenarı
☐ TC kenarı



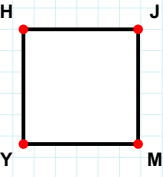
Şekle ait olmayan kenar/kenarları işaretleyelim.

- ☐ VZ kenarı
☐ KZ kenarı
☐ GK kenarı



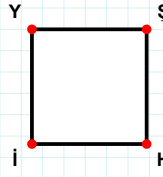
Şekle ait olmayan kenar/kenarları işaretleyelim.

- ☐ DB kenarı
☐ BÜ kenarı
☐ FÜ kenarı



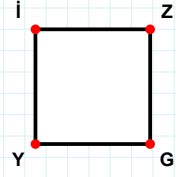
Şekle ait olmayan kenar/kenarları işaretleyelim.

- ☐ HJ kenarı
☐ JY kenarı
☐ YH kenarı



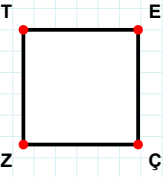
Şekle ait olmayan kenar/kenarları işaretleyelim.

- ☐ Şİ kenarı
☐ YH kenarı
☐ YŞ kenarı



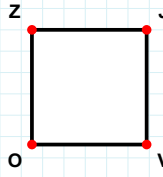
Şekle ait olmayan kenar/kenarları işaretleyelim.

- ☐ GY kenarı
☐ İG kenarı
☐ ZG kenarı



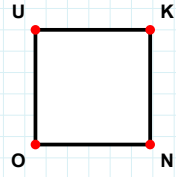
Şekle ait olmayan kenar/kenarları işaretleyelim.

- ☐ TÇ kenarı
☐ ÇZ kenarı
☐ ZT kenarı



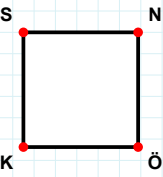
Şekle ait olmayan kenar/kenarları işaretleyelim.

- ☐ JO kenarı
☐ ZV kenarı
☐ OZ kenarı



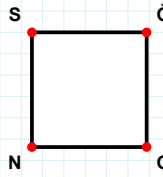
Şekle ait olmayan kenar/kenarları işaretleyelim.

- ☐ KO kenarı
☐ NO kenarı
☐ UN kenarı



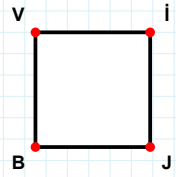
Şekle ait olmayan kenar/kenarları işaretleyelim.

- ☐ SÖ kenarı
☐ KS kenarı
☐ NK kenarı



Şekle ait olmayan kenar/kenarları işaretleyelim.

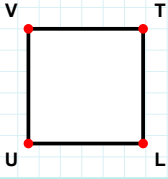
- ☐ NS kenarı
☐ GN kenarı
☐ ĞN kenarı



Şekle ait olmayan kenar/kenarları işaretleyelim.

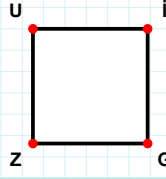
- ☐ JB kenarı
☐ İB kenarı
☐ BV kenarı

SORU: Aşağıdaki şekillerde verilen kenarlardan şekle ait olmayanı bulunuz.



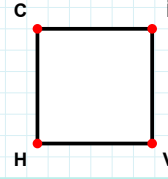
Şekle ait olmayan kenar/kenarları işaretleyelim.

- ☐ TU kenarı
☐ UV kenarı
☐ LU kenarı



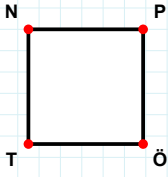
Şekle ait olmayan kenar/kenarları işaretleyelim.

- ☐ ZU kenarı
☐ UG kenarı
☐ UI kenarı



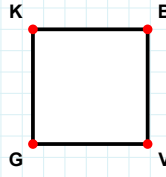
Şekle ait olmayan kenar/kenarları işaretleyelim.

- ☐ IV kenarı
☐ HC kenarı
☐ İH kenarı



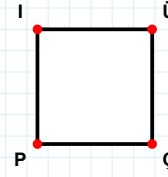
Şekle ait olmayan kenar/kenarları işaretleyelim.

- ☐ NÖ kenarı
☐ ÖT kenarı
☐ PT kenarı



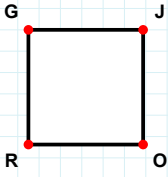
Şekle ait olmayan kenar/kenarları işaretleyelim.

- ☐ BV kenarı
☐ BG kenarı
☐ KB kenarı



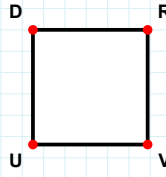
Şekle ait olmayan kenar/kenarları işaretleyelim.

- ☐ İÇ kenarı
☐ ÜP kenarı
☐ PI kenarı



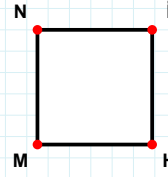
Şekle ait olmayan kenar/kenarları işaretleyelim.

- ☐ JO kenarı
☐ GO kenarı
☐ JR kenarı



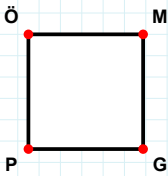
Şekle ait olmayan kenar/kenarları işaretleyelim.

- ☐ RU kenarı
☐ DR kenarı
☐ DV kenarı



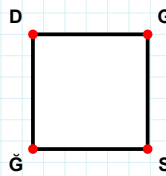
Şekle ait olmayan kenar/kenarları işaretleyelim.

- ☐ NH kenarı
☐ MN kenarı
☐ İH kenarı



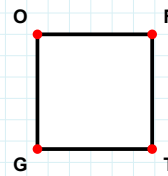
Şekle ait olmayan kenar/kenarları işaretleyelim.

- ☐ ÖG kenarı
☐ MG kenarı
☐ MP kenarı



Şekle ait olmayan kenar/kenarları işaretleyelim.

- ☐ DG kenarı
☐ GĞ kenarı
☐ DS kenarı



Şekle ait olmayan kenar/kenarları işaretleyelim.

- ☐ OF kenarı
☐ FG kenarı
☐ OT kenarı

SÜREÇ ODAKLI DEĞERLENDİRME ÖLÇEĞİ

Doğru Sayısı: / 24

Öğretmen ilgili kutucuğu işaretler.

Geliştirilmeli (0-8)

İyi (9-14)

Çok İyi (15-20)

Mükemmel (21-24)

☐
☐
☐
☐

Hazırlayan:

Bu bölüme sınıfınızın ilgili kazanıma yönelik genel durumuna ilişkin gözlem ve izlenimlerinizi, öğrencilerinizin bu kazanımla ilgili öğrenme eksikliklerini ve bu eksikliklerin giderilmesi amacıyla yaptığınız/yapmayı planladığınız faaliyetleri not edebilirsiniz.

No	Adı - Soyadı	Toplam Puan	Değerlendirme
1			
2			
3			
4			
5			
6			
7			
8			
9			
10			
11			
12			
13			
14			
15			
16			
17			
18			
19			
20			
21			
22			
23			
24			
25			
26			
27			
28			
29			
30			
31			
32			
33			
34			
35			

Hazırlayan: