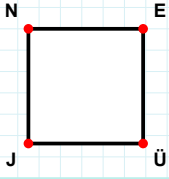
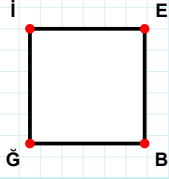


SORU: Aşağıdaki şekillerde verilen kenarlardan şekle ait olmayanı bulunuz.



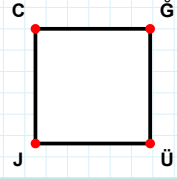
Şekle ait olmayan kenar/kenarları işaretleyelim.

- ☐ EJ kenarı
☐ NE kenarı
☐ NÜ kenarı



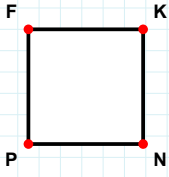
Şekle ait olmayan kenar/kenarları işaretleyelim.

- ☐ EB kenarı
☐ İB kenarı
☐ EĞ kenarı



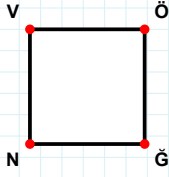
Şekle ait olmayan kenar/kenarları işaretleyelim.

- ☐ CÜ kenarı
☐ ĞJ kenarı
☐ JC kenarı



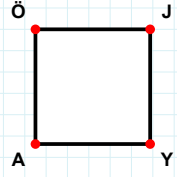
Şekle ait olmayan kenar/kenarları işaretleyelim.

- ☐ KP kenarı
☐ FN kenarı
☐ FK kenarı



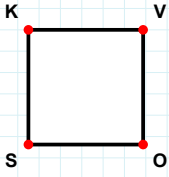
Şekle ait olmayan kenar/kenarları işaretleyelim.

- ☐ NV kenarı
☐ ÖN kenarı
☐ VĞ kenarı



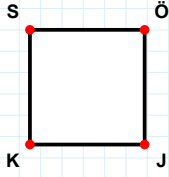
Şekle ait olmayan kenar/kenarları işaretleyelim.

- ☐ JA kenarı
☐ ÖY kenarı
☐ AÖ kenarı



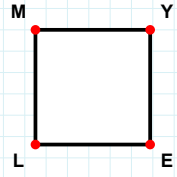
Şekle ait olmayan kenar/kenarları işaretleyelim.

- ☐ KO kenarı
☐ SK kenarı
☐ VO kenarı



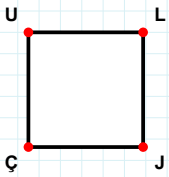
Şekle ait olmayan kenar/kenarları işaretleyelim.

- ☐ ÖK kenarı
☐ ÖJ kenarı
☐ SJ kenarı



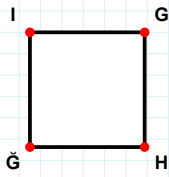
Şekle ait olmayan kenar/kenarları işaretleyelim.

- ☐ LM kenarı
☐ ME kenarı
☐ YL kenarı



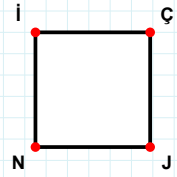
Şekle ait olmayan kenar/kenarları işaretleyelim.

- ☐ LJ kenarı
☐ LÇ kenarı
☐ ÇU kenarı



Şekle ait olmayan kenar/kenarları işaretleyelim.

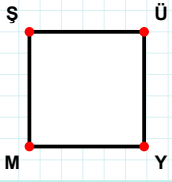
- ☐ İH kenarı
☐ ĞĞ kenarı
☐ ĞH kenarı



Şekle ait olmayan kenar/kenarları işaretleyelim.

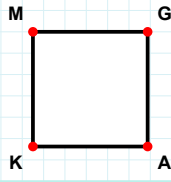
- ☐ ÇN kenarı
☐ İJ kenarı
☐ Nİ kenarı

SORU: Aşağıdaki şekillerde verilen kenarlardan şekle ait olmayanı bulunuz.



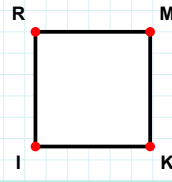
Şekle ait olmayan kenar/kenarları işaretleyelim.

- ☐ MŞ kenarı
☐ ŞY kenarı
☐ YM kenarı



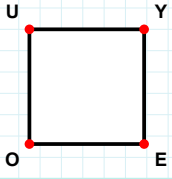
Şekle ait olmayan kenar/kenarları işaretleyelim.

- ☐ GK kenarı
☐ KM kenarı
☐ GA kenarı



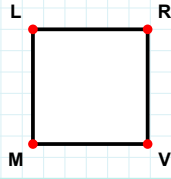
Şekle ait olmayan kenar/kenarları işaretleyelim.

- ☐ RK kenarı
☐ IR kenarı
☐ RM kenarı



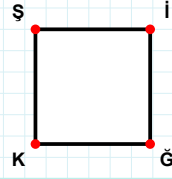
Şekle ait olmayan kenar/kenarları işaretleyelim.

- ☐ UY kenarı
☐ OU kenarı
☐ YO kenarı



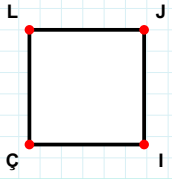
Şekle ait olmayan kenar/kenarları işaretleyelim.

- ☐ RV kenarı
☐ RM kenarı
☐ LV kenarı



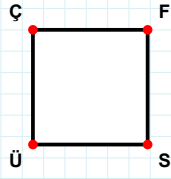
Şekle ait olmayan kenar/kenarları işaretleyelim.

- ☐ ĞK kenarı
☐ ŞĞ kenarı
☐ İK kenarı



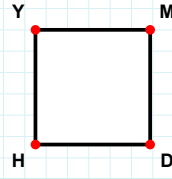
Şekle ait olmayan kenar/kenarları işaretleyelim.

- ☐ IÇ kenarı
☐ LI kenarı
☐ ÇL kenarı



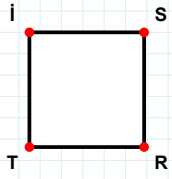
Şekle ait olmayan kenar/kenarları işaretleyelim.

- ☐ FÜ kenarı
☐ ÇS kenarı
☐ FS kenarı



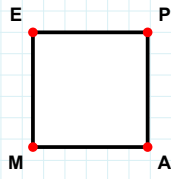
Şekle ait olmayan kenar/kenarları işaretleyelim.

- ☐ MH kenarı
☐ YD kenarı
☐ YM kenarı



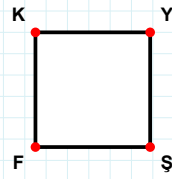
Şekle ait olmayan kenar/kenarları işaretleyelim.

- ☐ İR kenarı
☐ Tİ kenarı
☐ RT kenarı



Şekle ait olmayan kenar/kenarları işaretleyelim.

- ☐ ME kenarı
☐ AM kenarı
☐ EA kenarı



Şekle ait olmayan kenar/kenarları işaretleyelim.

- ☐ KY kenarı
☐ YF kenarı
☐ ŞF kenarı

SÜREÇ ODAKLI DEĞERLENDİRME ÖLÇEĞİ

Doğru Sayısı: / 24

Öğretmen ilgili kutucuğu işaretler.

Geliştirilmeli (0-8)

İyi (9-14)

Çok İyi (15-20)

Mükemmel (21-24)



Hazırlayan:

Bu bölüme sınıfınızın ilgili kazanıma yönelik genel durumuna ilişkin gözlem ve izlenimlerinizi, öğrencilerinizin bu kazanımla ilgili öğrenme eksikliklerini ve bu eksikliklerin giderilmesi amacıyla yaptığınız/yapmayı planladığınız faaliyetleri not edebilirsiniz.

No	Adı - Soyadı	Toplam Puan	Değerlendirme
1			
2			
3			
4			
5			
6			
7			
8			
9			
10			
11			
12			
13			
14			
15			
16			
17			
18			
19			
20			
21			
22			
23			
24			
25			
26			
27			
28			
29			
30			
31			
32			
33			
34			
35			

Hazırlayan: