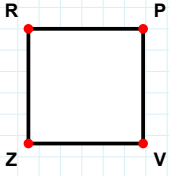
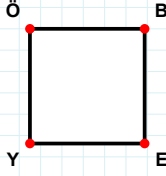


SORU: Aşağıdaki şekillerde verilen kenarlardan şekle ait olmayanı bulunuz.



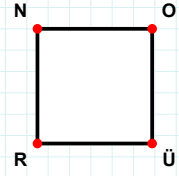
Şekle ait olmayan kenar/kenarları işaretleyelim.

- ☐ VZ kenarı
☐ RV kenarı
☐ RP kenarı



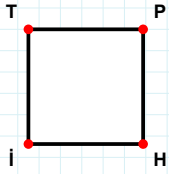
Şekle ait olmayan kenar/kenarları işaretleyelim.

- ☐ ÖE kenarı
☐ EY kenarı
☐ BY kenarı



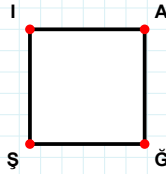
Şekle ait olmayan kenar/kenarları işaretleyelim.

- ☐ OR kenarı
☐ OÜ kenarı
☐ NO kenarı



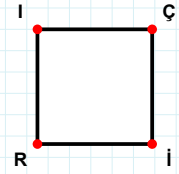
Şekle ait olmayan kenar/kenarları işaretleyelim.

- ☐ TP kenarı
☐ PI kenarı
☐ TH kenarı



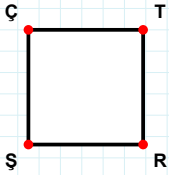
Şekle ait olmayan kenar/kenarları işaretleyelim.

- ☐ AĞ kenarı
☐ İĞ kenarı
☐ ĞŞ kenarı



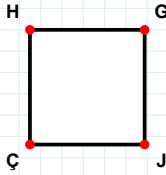
Şekle ait olmayan kenar/kenarları işaretleyelim.

- ☐ İİ kenarı
☐ Çİ kenarı
☐ ÇR kenarı



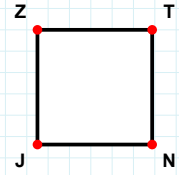
Şekle ait olmayan kenar/kenarları işaretleyelim.

- ☐ ÇR kenarı
☐ RŞ kenarı
☐ TŞ kenarı



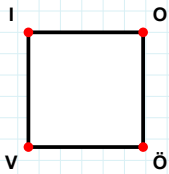
Şekle ait olmayan kenar/kenarları işaretleyelim.

- ☐ HJ kenarı
☐ GÇ kenarı
☐ GJ kenarı



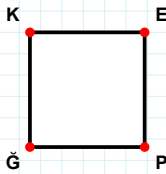
Şekle ait olmayan kenar/kenarları işaretleyelim.

- ☐ TJ kenarı
☐ ZN kenarı
☐ NJ kenarı



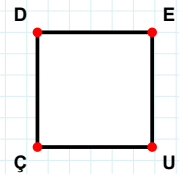
Şekle ait olmayan kenar/kenarları işaretleyelim.

- ☐ İÖ kenarı
☐ OV kenarı
☐ VI kenarı



Şekle ait olmayan kenar/kenarları işaretleyelim.

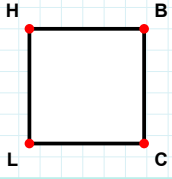
- ☐ KP kenarı
☐ ĞK kenarı
☐ EĞ kenarı



Şekle ait olmayan kenar/kenarları işaretleyelim.

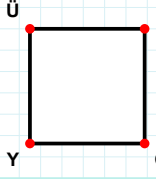
- ☐ DU kenarı
☐ EÇ kenarı
☐ DE kenarı

SORU: Aşağıdaki şekillerde verilen kenarlardan şekle ait olmayanı bulunuz.



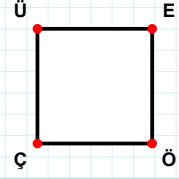
Şekle ait olmayan kenar/kenarları işaretleyelim.

- ☐ BC kenarı
☐ BL kenarı
☐ HB kenarı



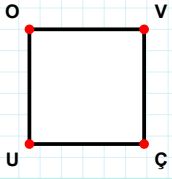
Şekle ait olmayan kenar/kenarları işaretleyelim.

- ☐ ÜG kenarı
☐ GY kenarı
☐ YÜ kenarı



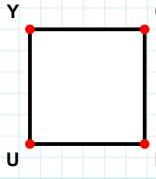
Şekle ait olmayan kenar/kenarları işaretleyelim.

- ☐ ÜÖ kenarı
☐ ÖÇ kenarı
☐ ÜE kenarı



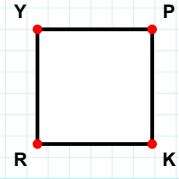
Şekle ait olmayan kenar/kenarları işaretleyelim.

- ☐ VU kenarı
☐ UO kenarı
☐ OÇ kenarı



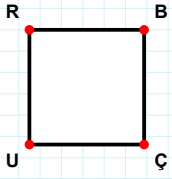
Şekle ait olmayan kenar/kenarları işaretleyelim.

- ☐ CD kenarı
☐ YC kenarı
☐ YD kenarı



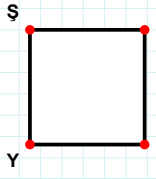
Şekle ait olmayan kenar/kenarları işaretleyelim.

- ☐ YK kenarı
☐ PK kenarı
☐ PR kenarı



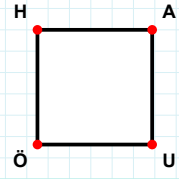
Şekle ait olmayan kenar/kenarları işaretleyelim.

- ☐ RB kenarı
☐ RÇ kenarı
☐ BÇ kenarı



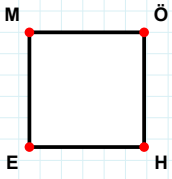
Şekle ait olmayan kenar/kenarları işaretleyelim.

- ☐ İY kenarı
☐ İE kenarı
☐ ŞE kenarı



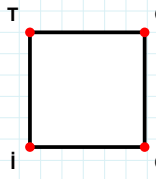
Şekle ait olmayan kenar/kenarları işaretleyelim.

- ☐ AÖ kenarı
☐ UÖ kenarı
☐ HU kenarı



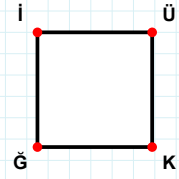
Şekle ait olmayan kenar/kenarları işaretleyelim.

- ☐ MÖ kenarı
☐ ÖE kenarı
☐ EM kenarı



Şekle ait olmayan kenar/kenarları işaretleyelim.

- ☐ Gİ kenarı
☐ TO kenarı
☐ TG kenarı



Şekle ait olmayan kenar/kenarları işaretleyelim.

- ☐ ÜĞ kenarı
☐ İK kenarı
☐ KĞ kenarı

SÜREÇ ODAKLI DEĞERLENDİRME ÖLÇEĞİ

Doğru Sayısı: / 24

Öğretmen ilgili kutucuğu işaretler.

Geliştirilmeli (0-8)

İyi (9-14)

Çok İyi (15-20)

Mükemmel (21-24)



Hazırlayan:

Bu bölüme sınıfınızın ilgili kazanıma yönelik genel durumuna ilişkin gözlem ve izlenimlerinizi, öğrencilerinizin bu kazanımla ilgili öğrenme eksikliklerini ve bu eksikliklerin giderilmesi amacıyla yaptığınız/yapmayı planladığınız faaliyetleri not edebilirsiniz.

No	Adı - Soyadı	Toplam Puan	Değerlendirme
1			
2			
3			
4			
5			
6			
7			
8			
9			
10			
11			
12			
13			
14			
15			
16			
17			
18			
19			
20			
21			
22			
23			
24			
25			
26			
27			
28			
29			
30			
31			
32			
33			
34			
35			

Hazırlayan: