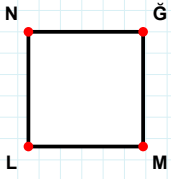
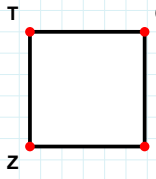


SORU: Aşağıdaki şekillerde verilen kenarlardan şekle ait olmayanı bulunuz.

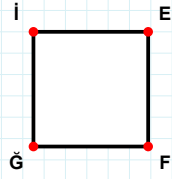
Şekle ait olmayan kenar/kenarları işaretleyelim.

- ☐ NĞ kenarı
☐ LN kenarı
☐ ĞL kenarı



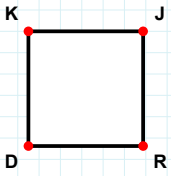
Şekle ait olmayan kenar/kenarları işaretleyelim.

- ☐ TI kenarı
☐ TÇ kenarı
☐ ÇZ kenarı



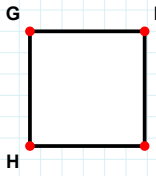
Şekle ait olmayan kenar/kenarları işaretleyelim.

- ☐ Ğİ kenarı
☐ FĞ kenarı
☐ İF kenarı



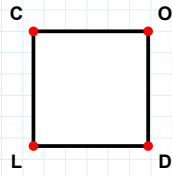
Şekle ait olmayan kenar/kenarları işaretleyelim.

- ☐ KR kenarı
☐ KJ kenarı
☐ JD kenarı



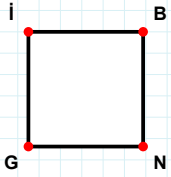
Şekle ait olmayan kenar/kenarları işaretleyelim.

- ☐ GM kenarı
☐ MH kenarı
☐ GI kenarı



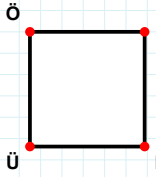
Şekle ait olmayan kenar/kenarları işaretleyelim.

- ☐ CD kenarı
☐ LC kenarı
☐ CO kenarı



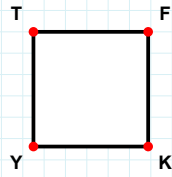
Şekle ait olmayan kenar/kenarları işaretleyelim.

- ☐ İN kenarı
☐ NG kenarı
☐ BG kenarı



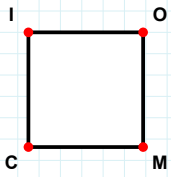
Şekle ait olmayan kenar/kenarları işaretleyelim.

- ☐ JÜ kenarı
☐ ÜÖ kenarı
☐ ÖR kenarı



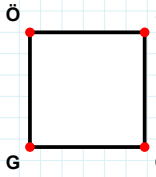
Şekle ait olmayan kenar/kenarları işaretleyelim.

- ☐ TF kenarı
☐ FK kenarı
☐ FY kenarı



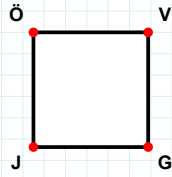
Şekle ait olmayan kenar/kenarları işaretleyelim.

- ☐ CI kenarı
☐ MC kenarı
☐ IM kenarı



Şekle ait olmayan kenar/kenarları işaretleyelim.

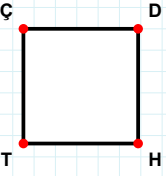
- ☐ ÖŞ kenarı
☐ ŞG kenarı
☐ ÇG kenarı



Şekle ait olmayan kenar/kenarları işaretleyelim.

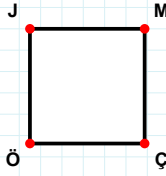
- ☐ ÖG kenarı
☐ VG kenarı
☐ GJ kenarı

SORU: Aşağıdaki şekillerde verilen kenarlardan şekle ait olmayanı bulunuz.



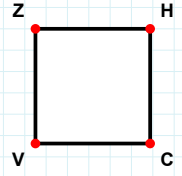
Şekle ait olmayan kenar/kenarları işaretleyelim.

- ☐ TÇ kenarı
☐ HT kenarı
☐ ÇH kenarı



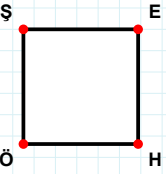
Şekle ait olmayan kenar/kenarları işaretleyelim.

- ☐ JÇ kenarı
☐ MÖ kenarı
☐ JM kenarı



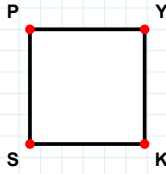
Şekle ait olmayan kenar/kenarları işaretleyelim.

- ☐ ZC kenarı
☐ ZH kenarı
☐ VZ kenarı



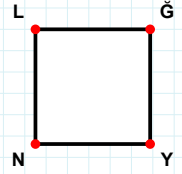
Şekle ait olmayan kenar/kenarları işaretleyelim.

- ☐ ŞH kenarı
☐ HÖ kenarı
☐ EÖ kenarı



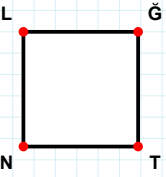
Şekle ait olmayan kenar/kenarları işaretleyelim.

- ☐ PK kenarı
☐ KS kenarı
☐ YK kenarı



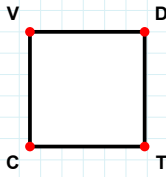
Şekle ait olmayan kenar/kenarları işaretleyelim.

- ☐ ĞY kenarı
☐ LĞ kenarı
☐ LY kenarı



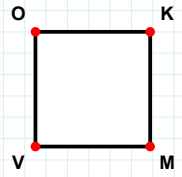
Şekle ait olmayan kenar/kenarları işaretleyelim.

- ☐ ĞT kenarı
☐ LĞ kenarı
☐ LT kenarı



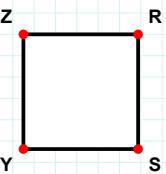
Şekle ait olmayan kenar/kenarları işaretleyelim.

- ☐ DC kenarı
☐ VD kenarı
☐ DT kenarı



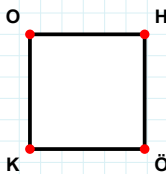
Şekle ait olmayan kenar/kenarları işaretleyelim.

- ☐ MV kenarı
☐ VO kenarı
☐ KV kenarı



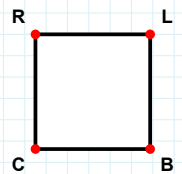
Şekle ait olmayan kenar/kenarları işaretleyelim.

- ☐ ZS kenarı
☐ SY kenarı
☐ RY kenarı



Şekle ait olmayan kenar/kenarları işaretleyelim.

- ☐ ÖK kenarı
☐ HÖ kenarı
☐ HK kenarı



Şekle ait olmayan kenar/kenarları işaretleyelim.

- ☐ RB kenarı
☐ LB kenarı
☐ BC kenarı

SÜREÇ ODAKLI DEĞERLENDİRME ÖLÇEĞİ

Doğru Sayısı: / 24

Öğretmen ilgili kutucuğu işaretler.

Geliştirilmeli (0-8)

İyi (9-14)

Çok İyi (15-20)

Mükemmel (21-24)



Hazırlayan:

Bu bölüme sınıfınızın ilgili kazanıma yönelik genel durumuna ilişkin gözlem ve izlenimlerinizi, öğrencilerinizin bu kazanımla ilgili öğrenme eksikliklerini ve bu eksikliklerin giderilmesi amacıyla yaptığınız/yapmayı planladığınız faaliyetleri not edebilirsiniz.

No	Adı - Soyadı	Toplam Puan	Değerlendirme
1			
2			
3			
4			
5			
6			
7			
8			
9			
10			
11			
12			
13			
14			
15			
16			
17			
18			
19			
20			
21			
22			
23			
24			
25			
26			
27			
28			
29			
30			
31			
32			
33			
34			
35			

Hazırlayan: