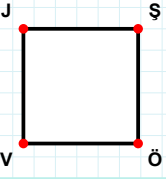
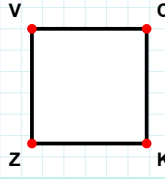


**SORU:** Aşağıdaki şekillerde verilen kenarlardan şekle ait olmayanı bulunuz.



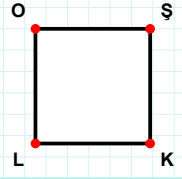
Şekle ait olmayan kenar/kenarları işaretleyelim.

- ☐ JÖ kenarı  
☐ ŞV kenarı  
☐ VJ kenarı



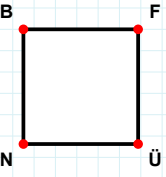
Şekle ait olmayan kenar/kenarları işaretleyelim.

- ☐ ZV kenarı  
☐ CK kenarı  
☐ VK kenarı



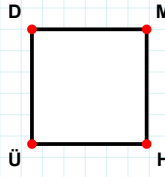
Şekle ait olmayan kenar/kenarları işaretleyelim.

- ☐ ŞK kenarı  
☐ ŞL kenarı  
☐ OK kenarı



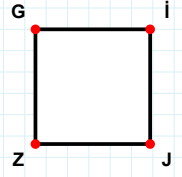
Şekle ait olmayan kenar/kenarları işaretleyelim.

- ☐ BÜ kenarı  
☐ FN kenarı  
☐ FÜ kenarı



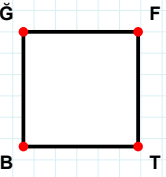
Şekle ait olmayan kenar/kenarları işaretleyelim.

- ☐ MÜ kenarı  
☐ DH kenarı  
☐ HÜ kenarı



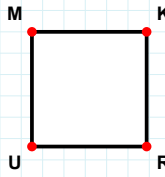
Şekle ait olmayan kenar/kenarları işaretleyelim.

- ☐ JZ kenarı  
☐ GJ kenarı  
☐ İZ kenarı



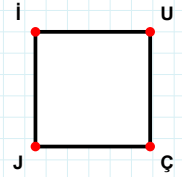
Şekle ait olmayan kenar/kenarları işaretleyelim.

- ☐ FB kenarı  
☐ ĞT kenarı  
☐ ĞF kenarı



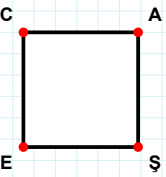
Şekle ait olmayan kenar/kenarları işaretleyelim.

- ☐ MR kenarı  
☐ MK kenarı  
☐ KU kenarı



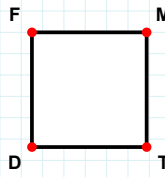
Şekle ait olmayan kenar/kenarları işaretleyelim.

- ☐ ÇJ kenarı  
☐ UJ kenarı  
☐ İÇ kenarı



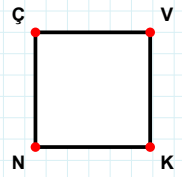
Şekle ait olmayan kenar/kenarları işaretleyelim.

- ☐ AE kenarı  
☐ CA kenarı  
☐ ŞE kenarı



Şekle ait olmayan kenar/kenarları işaretleyelim.

- ☐ MD kenarı  
☐ MT kenarı  
☐ FM kenarı



Şekle ait olmayan kenar/kenarları işaretleyelim.

- ☐ VN kenarı  
☐ VK kenarı  
☐ ÇK kenarı

**SORU:** Aşağıdaki şekillerde verilen kenarlardan şekle ait olmayanı bulunuz.

Şekle ait olmayan kenar/kenarları işaretleyelim.

☐ Ğİ kenarı

☐ ĞÜ kenarı

☐ Üİ kenarı

Şekle ait olmayan kenar/kenarları işaretleyelim.

☐ OV kenarı

☐ YV kenarı

☐ VL kenarı

Şekle ait olmayan kenar/kenarları işaretleyelim.

☐ LM kenarı

☐ GM kenarı

☐ SG kenarı

Şekle ait olmayan kenar/kenarları işaretleyelim.

☐ ÇL kenarı

☐ ÇĞ kenarı

☐ ZL kenarı

Şekle ait olmayan kenar/kenarları işaretleyelim.

☐ GN kenarı

☐ NV kenarı

☐ VM kenarı

Şekle ait olmayan kenar/kenarları işaretleyelim.

☐ FŞ kenarı

☐ FP kenarı

☐ JP kenarı

Şekle ait olmayan kenar/kenarları işaretleyelim.

☐ UI kenarı

☐ UĞ kenarı

☐ İA kenarı

Şekle ait olmayan kenar/kenarları işaretleyelim.

☐ LĞ kenarı

☐ Ğİ kenarı

☐ İF kenarı

Şekle ait olmayan kenar/kenarları işaretleyelim.

☐ DR kenarı

☐ ÜD kenarı

☐ DV kenarı

Şekle ait olmayan kenar/kenarları işaretleyelim.

☐ SL kenarı

☐ NS kenarı

☐ ĞL kenarı

Şekle ait olmayan kenar/kenarları işaretleyelim.

☐ VK kenarı

☐ SI kenarı

☐ SV kenarı

Şekle ait olmayan kenar/kenarları işaretleyelim.

☐ TI kenarı

☐ İA kenarı

☐ PI kenarı

## SÜREÇ ODAKLI DEĞERLENDİRME ÖLÇEĞİ

Doğru Sayısı: ..... / 24

Öğretmen ilgili kutucuğu işaretler.

Geliştirilmeli (0-8)

İyi (9-14)

Çok İyi (15-20)

Mükemmel (21-24)

☐
☐
☐
☐

Hazırlayan: .....

Bu bölüme sınıfınızın ilgili kazanıma yönelik genel durumuna ilişkin gözlem ve izlenimlerinizi, öğrencilerinizin bu kazanımla ilgili öğrenme eksikliklerini ve bu eksikliklerin giderilmesi amacıyla yaptığınız/yapmayı planladığınız faaliyetleri not edebilirsiniz.

No	Adı - Soyadı	Toplam Puan	Değerlendirme
1			
2			
3			
4			
5			
6			
7			
8			
9			
10			
11			
12			
13			
14			
15			
16			
17			
18			
19			
20			
21			
22			
23			
24			
25			
26			
27			
28			
29			
30			
31			
32			
33			
34			
35			

Hazırlayan: ..... ..