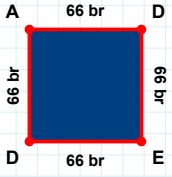
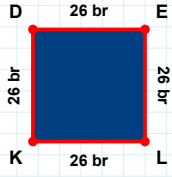


SORU: Aşağıdaki şekillerde istenen kenarın kaç birim veya santimetre olduğunu bulunuz.



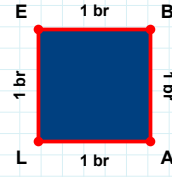
|AL| kaç brdir?

- ☐ 11 br  
☐ 1 br  
☐ 3 br



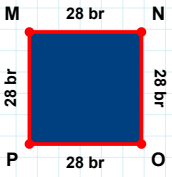
|DE| kaç brdir?

- ☐ 26 br  
☐ 21 br  
☐ 25 br



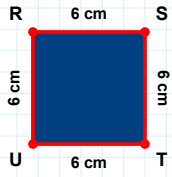
|AD| kaç brdir?

- ☐ 66 br  
☐ 71 br  
☐ 65 br



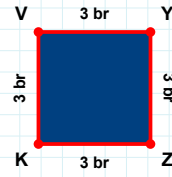
|ST| kaç cmdir?

- ☐ 8 cm  
☐ 5 cm  
☐ 6 cm



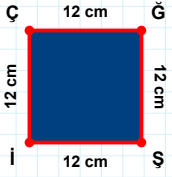
|MN| kaç brdir?

- ☐ 26 br  
☐ 25 br  
☐ 28 br



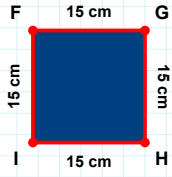
|KV| kaç brdir?

- ☐ 3 br  
☐ 6 br  
☐ 2 br



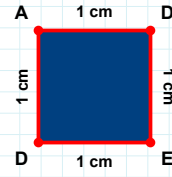
|DA| kaç cmdir?

- ☐ 6 cm  
☐ 1 cm  
☐ 3 cm



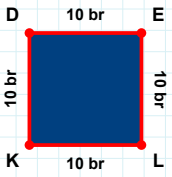
|GH| kaç cmdir?

- ☐ 15 cm  
☐ 17 cm  
☐ 10 cm



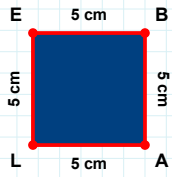
|ÇĞ| kaç cmdir?

- ☐ 15 cm  
☐ 17 cm  
☐ 12 cm



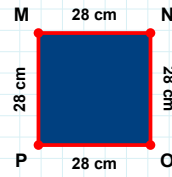
|AL| kaç cmdir?

- ☐ 4 cm  
☐ 5 cm  
☐ 3 cm



|DE| kaç brdir?

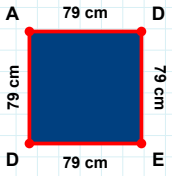
- ☐ 8 br  
☐ 10 br  
☐ 9 br



|OP| kaç cmdir?

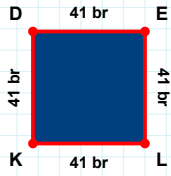
- ☐ 30 cm  
☐ 28 cm  
☐ 25 cm

SORU: Aşağıdaki şekillerde istenen kenarın kaç birim veya santimetre olduğunu bulunuz.



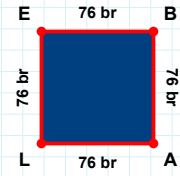
|DE| kaç cm'dir?

- ☐ 79 cm  
☐ 81 cm  
☐ 78 cm



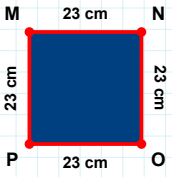
|KD| kaç br'dir?

- ☐ 39 br  
☐ 41 br  
☐ 51 br



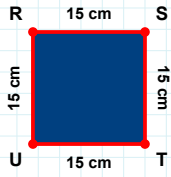
|LE| kaç br'dir?

- ☐ 86 br  
☐ 76 br  
☐ 78 br



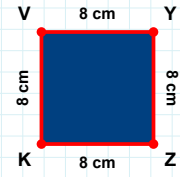
|ST| kaç cm'dir?

- ☐ 20 cm  
☐ 15 cm  
☐ 12 cm



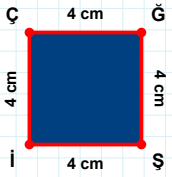
|VY| kaç cm'dir?

- ☐ 8 cm  
☐ 5 cm  
☐ 11 cm



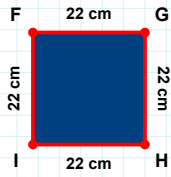
|MN| kaç cm'dir?

- ☐ 23 cm  
☐ 24 cm  
☐ 28 cm



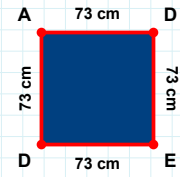
|İF| kaç cm'dir?

- ☐ 20 cm  
☐ 22 cm  
☐ 12 cm



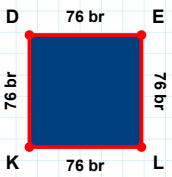
|ED| kaç cm'dir?

- ☐ 73 cm  
☐ 83 cm  
☐ 78 cm



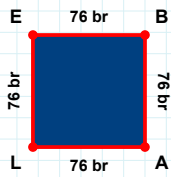
|ÇĞ| kaç cm'dir?

- ☐ 1 cm  
☐ 4 cm  
☐ 9 cm



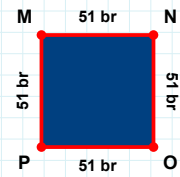
|EL| kaç br'dir?

- ☐ 66 br  
☐ 76 br  
☐ 86 br



|AL| kaç br'dir?

- ☐ 76 br  
☐ 73 br  
☐ 81 br



|OP| kaç br'dir?

- ☐ 51 br  
☐ 50 br  
☐ 56 br

## SÜREÇ ODAKLI DEĞERLENDİRME ÖLÇEĞİ

Doğru Sayısı: ..... / 24

Öğretmen ilgili kutucuğu işaretler.

Geliştirilmeli (0-8)

İyi (9-14)

Çok İyi (15-20)

Mükemmel (21-24)



Hazırlayan: .....

Bu bölüme sınıfınızın ilgili kazanıma yönelik genel durumuna ilişkin gözlem ve izlenimlerinizi, öğrencilerinizin bu kazanımla ilgili öğrenme eksikliklerini ve bu eksikliklerin giderilmesi amacıyla yaptığınız/yapmayı planladığınız faaliyetleri not edebilirsiniz.

No	Adı - Soyadı	Toplam Puan	Değerlendirme
1			
2			
3			
4			
5			
6			
7			
8			
9			
10			
11			
12			
13			
14			
15			
16			
17			
18			
19			
20			
21			
22			
23			
24			
25			
26			
27			
28			
29			
30			
31			
32			
33			
34			
35			

Hazırlayan: .....