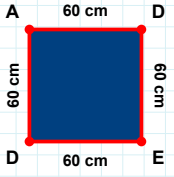
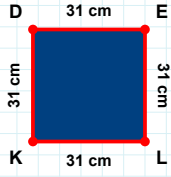


SORU: Aşağıdaki şekillerde istenen kenarın kaç birim veya santimetre olduğunu bulunuz.



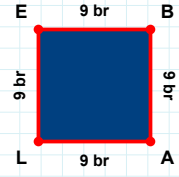
|DE| kaç cmdir?

- ☐ 60 cm
☐ 58 cm
☐ 65 cm



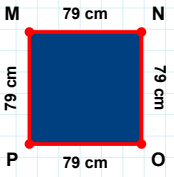
|BA| kaç brdir?

- ☐ 6 br
☐ 14 br
☐ 9 br



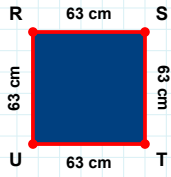
|EL| kaç cmdir?

- ☐ 34 cm
☐ 30 cm
☐ 31 cm



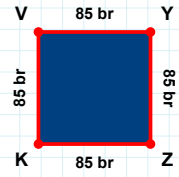
|NO| kaç cmdir?

- ☐ 78 cm
☐ 81 cm
☐ 79 cm



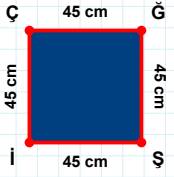
|UR| kaç cmdir?

- ☐ 63 cm
☐ 66 cm
☐ 61 cm



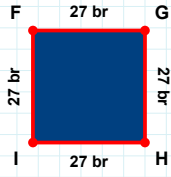
|YZ| kaç brdir?

- ☐ 85 br
☐ 88 br
☐ 82 br



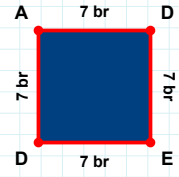
|Şİ| kaç cmdir?

- ☐ 45 cm
☐ 46 cm
☐ 47 cm



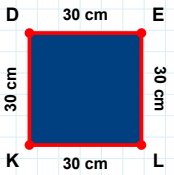
|DE| kaç brdir?

- ☐ 6 br
☐ 7 br
☐ 9 br



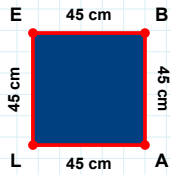
|GH| kaç brdir?

- ☐ 25 br
☐ 27 br
☐ 29 br



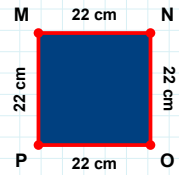
|PM| kaç cmdir?

- ☐ 32 cm
☐ 22 cm
☐ 25 cm



|KD| kaç cmdir?

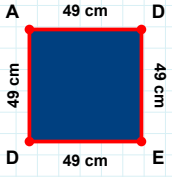
- ☐ 33 cm
☐ 30 cm
☐ 28 cm



|EB| kaç cmdir?

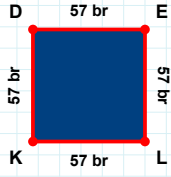
- ☐ 43 cm
☐ 45 cm
☐ 42 cm

SORU: Aşağıdaki şekillerde istenen kenarın kaç birim veya santimetre olduğunu bulunuz.



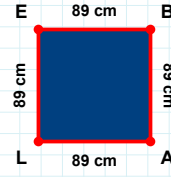
|DA| kaç cmdir?

- ☐ 49 cm
☐ 59 cm
☐ 50 cm



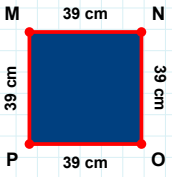
|DE| kaç brdir?

- ☐ 57 br
☐ 62 br
☐ 55 br



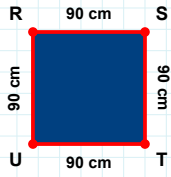
|EB| kaç cmdir?

- ☐ 92 cm
☐ 91 cm
☐ 89 cm



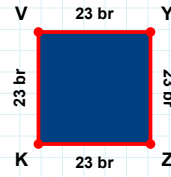
|MN| kaç cmdir?

- ☐ 36 cm
☐ 37 cm
☐ 39 cm



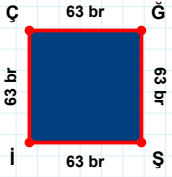
|ST| kaç cmdir?

- ☐ 89 cm
☐ 90 cm
☐ 80 cm



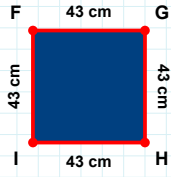
|KV| kaç brdir?

- ☐ 13 br
☐ 20 br
☐ 23 br



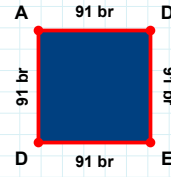
|İÇ| kaç brdir?

- ☐ 68 br
☐ 63 br
☐ 64 br



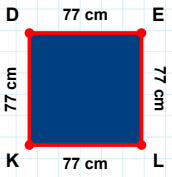
|ED| kaç brdir?

- ☐ 93 br
☐ 91 br
☐ 81 br



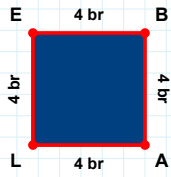
|FG| kaç cmdir?

- ☐ 43 cm
☐ 38 cm
☐ 40 cm



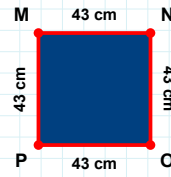
|OP| kaç cmdir?

- ☐ 48 cm
☐ 45 cm
☐ 43 cm



|LE| kaç cmdir?

- ☐ 74 cm
☐ 77 cm
☐ 76 cm



|LE| kaç brdir?

- ☐ 4 br
☐ 14 br
☐ 6 br

SÜREÇ ODAKLI DEĞERLENDİRME ÖLÇEĞİ

Doğru Sayısı: / 24

Öğretmen ilgili kutucuğu işaretler.

Geliştirilmeli (0-8)

İyi (9-14)

Çok İyi (15-20)

Mükemmel (21-24)



Hazırlayan:

Bu bölüme sınıfınızın ilgili kazanıma yönelik genel durumuna ilişkin gözlem ve izlenimlerinizi, öğrencilerinizin bu kazanımla ilgili öğrenme eksikliklerini ve bu eksikliklerin giderilmesi amacıyla yaptığınız/yapmayı planladığınız faaliyetleri not edebilirsiniz.

No	Adı - Soyadı	Toplam Puan	Değerlendirme
1			
2			
3			
4			
5			
6			
7			
8			
9			
10			
11			
12			
13			
14			
15			
16			
17			
18			
19			
20			
21			
22			
23			
24			
25			
26			
27			
28			
29			
30			
31			
32			
33			
34			
35			

Hazırlayan: