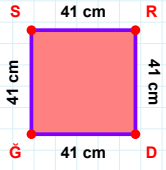
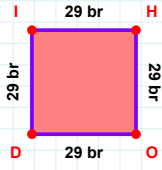
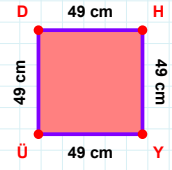
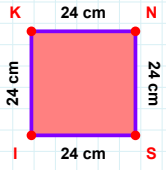
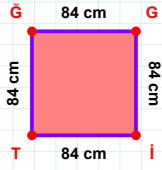


SORU: Aşağıdaki geometrik şekillerle ilgili soruları cevaplayınız.**|DĞ| kaç cmdir?**

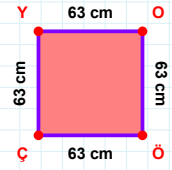
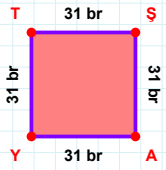
- ☐ 40 cm
☐ 41 cm
☐ 42 cm

**|HO| + |OD| =****Cevap:** br**|YÜ| kaç cmdir?**

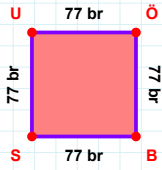
- ☐ 48 cm
☐ 49 cm
☐ 50 cm

**|KN| + |NS| =****Cevap:** cm**|TĞ| kaç cmdir?**

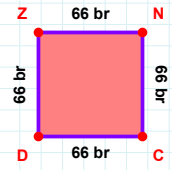
- ☐ 83 cm
☐ 84 cm
☐ 85 cm

**63 cm hangi kenara aittir?****Kenar:****|AY| kaç brdir?**

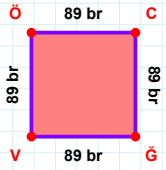
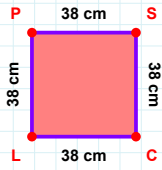
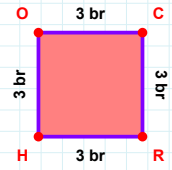
- ☐ 30 br
☐ 31 br
☐ 32 br

**77 br hangi kenara aittir?**

- ☐ BS kenarı
☐ SU kenarı
☐ SÖ kenarı

**|ZN| kaç brdir?**

- ☐ 65 br
☐ 66 br
☐ 67 br

**89 br hangi kenara aittir?****Kenar:****|LP| + |CL| =****Cevap:** cm**3 br hangi kenara aittir?**

- ☐ CR kenarı
☐ HC kenarı
☐ RH kenarı

SORU: Aşağıdaki geometrik şekillerle ilgili soruları cevaplayınız.

87 cm hangi kenara aittir?

☐ GS kenarı
☐ ÖG kenarı
☐ SÖ kenarı

|GR| kaç brdir?

☐ 27 br
☐ 28 br
☐ 29 br

|YZ| + |ZF| =

Cevap: cm

|TÜ| kaç brdir?

☐ 46 br
☐ 47 br
☐ 48 br

84 cm hangi kenara aittir?

☐ İC kenarı
☐ Gİ kenarı
☐ Cİ kenarı

18 br hangi kenara aittir?

☐ DÜ kenarı
☐ LR kenarı
☐ RÜ kenarı

46 br hangi kenara aittir?

☐ YÜ kenarı
☐ TÜ kenarı
☐ ÜZ kenarı

6 br hangi kenara aittir?

Kenar:

90 cm hangi kenara aittir?

☐ OU kenarı
☐ ÇO kenarı
☐ OZ kenarı

15 cm hangi kenara aittir?

Kenar:

27 cm hangi kenara aittir?

Kenar:

|ÜF| + |UÜ| =

Cevap: br

SÜREÇ ODAKLI DEĞERLENDİRME ÖLÇEĞİ

Doğru Sayısı: / 24

Öğretmen ilgili kutucuğu işaretler.

Geliştirilmeli (0-8)

İyi (9-14)

Çok İyi (15-20)

Mükemmel (21-24)

☐
☐
☐
☐

Hazırlayan:

Bu bölüme sınıfınızın ilgili kazanıma yönelik genel durumuna ilişkin gözlem ve izlenimlerinizi, öğrencilerinizin bu kazanımla ilgili öğrenme eksikliklerini ve bu eksikliklerin giderilmesi amacıyla yaptığınız/yapmayı planladığınız faaliyetleri not edebilirsiniz.

No	Adı - Soyadı	Toplam Puan	Değerlendirme
1			
2			
3			
4			
5			
6			
7			
8			
9			
10			
11			
12			
13			
14			
15			
16			
17			
18			
19			
20			
21			
22			
23			
24			
25			
26			
27			
28			
29			
30			
31			
32			
33			
34			
35			

Hazırlayan: