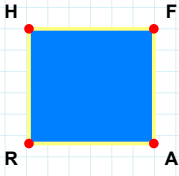
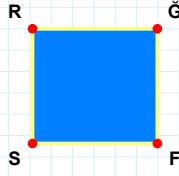


SORU: Aşağıdaki şekillerde verilen kenarlardan şekle ait olmayanı bulunuz.



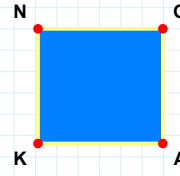
Şekle ait olmayan kenar/kenarları işaretleyelim.

- ☐ HA kenarı
☐ AR kenarı
☐ RH kenarı



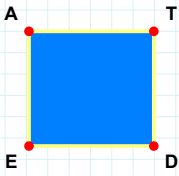
Şekle ait olmayan kenar/kenarları işaretleyelim.

- ☐ RF kenarı
☐ ĞS kenarı
☐ ĞF kenarı



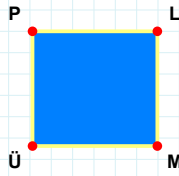
Şekle ait olmayan kenar/kenarları işaretleyelim.

- ☐ NA kenarı
☐ GA kenarı
☐ NG kenarı



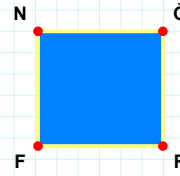
Şekle ait olmayan kenar/kenarları işaretleyelim.

- ☐ EA kenarı
☐ AD kenarı
☐ TD kenarı



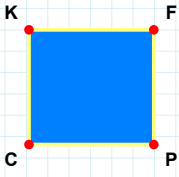
Şekle ait olmayan kenar/kenarları işaretleyelim.

- ☐ LÜ kenarı
☐ ÜP kenarı
☐ PM kenarı



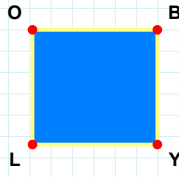
Şekle ait olmayan kenar/kenarları işaretleyelim.

- ☐ NR kenarı
☐ ĞF kenarı
☐ FN kenarı



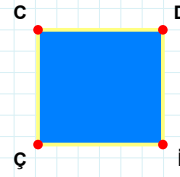
Şekle ait olmayan kenar/kenarları işaretleyelim.

- ☐ FC kenarı
☐ KP kenarı
☐ CK kenarı



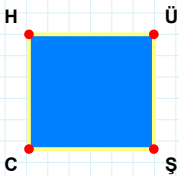
Şekle ait olmayan kenar/kenarları işaretleyelim.

- ☐ BL kenarı
☐ OY kenarı
☐ LO kenarı



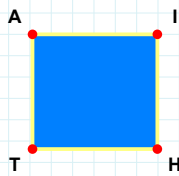
Şekle ait olmayan kenar/kenarları işaretleyelim.

- ☐ DI kenarı
☐ DÇ kenarı
☐ CI kenarı



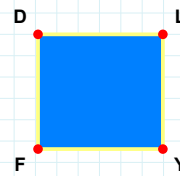
Şekle ait olmayan kenar/kenarları işaretleyelim.

- ☐ HŞ kenarı
☐ ÜC kenarı
☐ CH kenarı



Şekle ait olmayan kenar/kenarları işaretleyelim.

- ☐ AI kenarı
☐ HT kenarı
☐ IT kenarı



Şekle ait olmayan kenar/kenarları işaretleyelim.

- ☐ LF kenarı
☐ FD kenarı
☐ LY kenarı

SORU: Aşağıdaki şekillerde verilen kenarlardan şekle ait olmayanı bulunuz.

Şekle ait olmayan kenar/kenarları işaretleyelim.

☐ VD kenarı

☐ ND kenarı

☐ NĞ kenarı

Şekle ait olmayan kenar/kenarları işaretleyelim.

☐ AN kenarı

☐ NĞ kenarı

☐ MN kenarı

Şekle ait olmayan kenar/kenarları işaretleyelim.

☐ ZY kenarı

☐ BZ kenarı

☐ ZÖ kenarı

Şekle ait olmayan kenar/kenarları işaretleyelim.

☐ BÖ kenarı

☐ UT kenarı

☐ BU kenarı

Şekle ait olmayan kenar/kenarları işaretleyelim.

☐ ÜN kenarı

☐ ÖÜ kenarı

☐ YÖ kenarı

Şekle ait olmayan kenar/kenarları işaretleyelim.

☐ VA kenarı

☐ YN kenarı

☐ AY kenarı

Şekle ait olmayan kenar/kenarları işaretleyelim.

☐ JV kenarı

☐ CJ kenarı

☐ JP kenarı

Şekle ait olmayan kenar/kenarları işaretleyelim.

☐ ÇB kenarı

☐ İB kenarı

☐ ÇR kenarı

Şekle ait olmayan kenar/kenarları işaretleyelim.

☐ OJ kenarı

☐ AC kenarı

☐ CJ kenarı

Şekle ait olmayan kenar/kenarları işaretleyelim.

☐ ZB kenarı

☐ ZJ kenarı

☐ AJ kenarı

Şekle ait olmayan kenar/kenarları işaretleyelim.

☐ ZM kenarı

☐ ZE kenarı

☐ ME kenarı

Şekle ait olmayan kenar/kenarları işaretleyelim.

☐ ŞY kenarı

☐ YL kenarı

☐ LŞ kenarı

SÜREÇ ODAKLI DEĞERLENDİRME ÖLÇEĞİ

Doğru Sayısı: / 24

Öğretmen ilgili kutucuğu işaretler.

Geliştirilmeli (0-8)

İyi (9-14)

Çok İyi (15-20)

Mükemmel (21-24)

☐☐☐☐

Hazırlayan:

Bu bölüme sınıfınızın ilgili kazanıma yönelik genel durumuna ilişkin gözlem ve izlenimlerinizi, öğrencilerinizin bu kazanımla ilgili öğrenme eksikliklerini ve bu eksikliklerin giderilmesi amacıyla yaptığınız/yapmayı planladığınız faaliyetleri not edebilirsiniz.

No	Adı - Soyadı	Toplam Puan	Değerlendirme
1			
2			
3			
4			
5			
6			
7			
8			
9			
10			
11			
12			
13			
14			
15			
16			
17			
18			
19			
20			
21			
22			
23			
24			
25			
26			
27			
28			
29			
30			
31			
32			
33			
34			
35			

Hazırlayan: