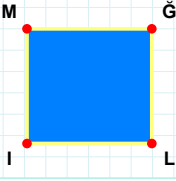


**SORU:** Aşağıdaki şekillerde verilen kenarlardan şekle ait olmayanı bulunuz.

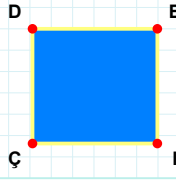


Şekle ait olmayan kenar/kenarları işaretleyelim.

☐ Ğİ kenarı

☐ ML kenarı

☐ LI kenarı

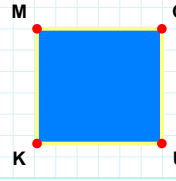


Şekle ait olmayan kenar/kenarları işaretleyelim.

☐ DE kenarı

☐ EI kenarı

☐ DI kenarı

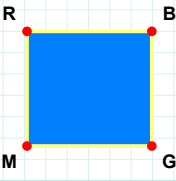


Şekle ait olmayan kenar/kenarları işaretleyelim.

☐ MU kenarı

☐ KM kenarı

☐ MĞ kenarı

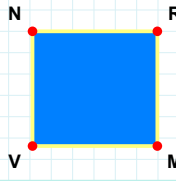


Şekle ait olmayan kenar/kenarları işaretleyelim.

☐ GM kenarı

☐ RG kenarı

☐ BM kenarı

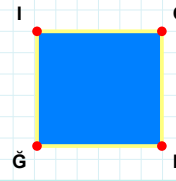


Şekle ait olmayan kenar/kenarları işaretleyelim.

☐ NM kenarı

☐ RV kenarı

☐ VN kenarı

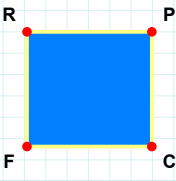


Şekle ait olmayan kenar/kenarları işaretleyelim.

☐ CĞ kenarı

☐ İH kenarı

☐ İC kenarı

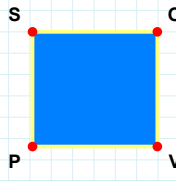


Şekle ait olmayan kenar/kenarları işaretleyelim.

☐ PF kenarı

☐ CF kenarı

☐ FR kenarı

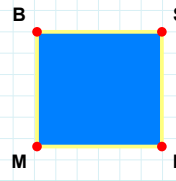


Şekle ait olmayan kenar/kenarları işaretleyelim.

☐ PS kenarı

☐ OP kenarı

☐ OV kenarı

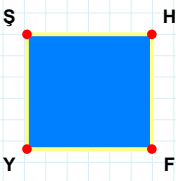


Şekle ait olmayan kenar/kenarları işaretleyelim.

☐ RM kenarı

☐ SR kenarı

☐ SM kenarı

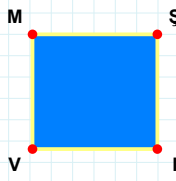


Şekle ait olmayan kenar/kenarları işaretleyelim.

☐ ŞH kenarı

☐ HY kenarı

☐ ŞF kenarı

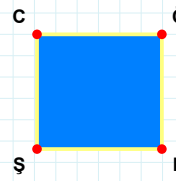


Şekle ait olmayan kenar/kenarları işaretleyelim.

☐ VM kenarı

☐ ŞV kenarı

☐ İV kenarı



Şekle ait olmayan kenar/kenarları işaretleyelim.

☐ HŞ kenarı

☐ CH kenarı

☐ ÖŞ kenarı

**SORU:** Aşağıdaki şekillerde verilen kenarlardan şekle ait olmayanı bulunuz.

Şekle ait olmayan kenar/kenarları işaretleyelim.

☐ VN kenarı  
☐ YV kenarı  
☐ NK kenarı

Şekle ait olmayan kenar/kenarları işaretleyelim.

☐ YB kenarı  
☐ RI kenarı  
☐ BR kenarı

Şekle ait olmayan kenar/kenarları işaretleyelim.

☐ ĞR kenarı  
☐ YĞ kenarı  
☐ YÇ kenarı

Şekle ait olmayan kenar/kenarları işaretleyelim.

☐ JM kenarı  
☐ NĞ kenarı  
☐ MĞ kenarı

Şekle ait olmayan kenar/kenarları işaretleyelim.

☐ ÖC kenarı  
☐ ÖA kenarı  
☐ EÖ kenarı

Şekle ait olmayan kenar/kenarları işaretleyelim.

☐ ÜÇ kenarı  
☐ KÜ kenarı  
☐ ÜĞ kenarı

Şekle ait olmayan kenar/kenarları işaretleyelim.

☐ VU kenarı  
☐ FU kenarı  
☐ VF kenarı

Şekle ait olmayan kenar/kenarları işaretleyelim.

☐ ÖF kenarı  
☐ ÖJ kenarı  
☐ FO kenarı

Şekle ait olmayan kenar/kenarları işaretleyelim.

☐ BM kenarı  
☐ MN kenarı  
☐ MÜ kenarı

Şekle ait olmayan kenar/kenarları işaretleyelim.

☐ ZS kenarı  
☐ ZŞ kenarı  
☐ SŞ kenarı

Şekle ait olmayan kenar/kenarları işaretleyelim.

☐ ON kenarı  
☐ NU kenarı  
☐ UO kenarı

Şekle ait olmayan kenar/kenarları işaretleyelim.

☐ PÜ kenarı  
☐ BY kenarı  
☐ PY kenarı

## SÜREÇ ODAKLI DEĞERLENDİRME ÖLÇEĞİ

Doğru Sayısı: ..... / 24

Öğretmen ilgili kutucuğu işaretler.

Geliştirilmeli (0-8)

İyi (9-14)

Çok İyi (15-20)

Mükemmel (21-24)

☐
☐
☐
☐

Hazırlayan: .....

**Bu bölüme sınıfınızın ilgili kazanıma yönelik genel durumuna ilişkin gözlem ve izlenimlerinizi, öğrencilerinizin bu kazanımla ilgili öğrenme eksikliklerini ve bu eksikliklerin giderilmesi amacıyla yaptığınız/yapmayı planladığınız faaliyetleri not edebilirsiniz.**

No	Adı - Soyadı	Toplam Puan	Değerlendirme
1			
2			
3			
4			
5			
6			
7			
8			
9			
10			
11			
12			
13			
14			
15			
16			
17			
18			
19			
20			
21			
22			
23			
24			
25			
26			
27			
28			
29			
30			
31			
32			
33			
34			
35			

**Hazırlayan:** ..... ..